

**Муниципальное бюджетное общеобразовательное учреждение
«Березинская средняя общеобразовательная школа»**

**ФОНД ОЦЕНОЧНЫХ МАТЕРИАЛОВ
ПО ГЕОГРАФИИ
5-9 КЛАССЫ**

Контрольная работа
по географии 5 класс по теме
«Изображения земной поверхности».

Назначение: оценить уровень образовательной подготовки учащихся 5 класса по данной теме.

Документы:

- 1) Приказ Министерства просвещения Российской Федерации от 31.05.2021 № 287 «Об утверждении федерального государственного образовательного стандарта основного общего образования»;
- 2) Приказ Министерства просвещения Российской Федерации от 18.05.2023 № 370 «Об утверждении федеральной образовательной программы основного общего образования»
- 3) ООП ООО МБОУ «Березинская СОШ»
- 4) Система оценки достижений планируемых предметных результатов освоения учебного предмета «География»: методические рекомендации / [Э.М. Амбарцумова, В.В. Барабанов, С.Е. Дюкова]. – М. ФГБНУ «Институт стратегии развития образования», 2023

Кодификатор.

1. Перечень элементов предметного содержания

код	Описание элементов предметного содержания
1.4	Раздел 4. Виды изображений земной поверхности
1.4.1	Стороны горизонта
1.4.2	Ориентирование
1.4.3	План местности географическая карта

2. Перечень требований к уровню подготовки обучающихся

код	Перечень требований к уровню подготовки обучающихся
2.4	Раздел 4. Виды изображений земной поверхности
2.4.1	Объяснять понятия: горизонт, линия горизонта, стороны горизонта, ориентирование, план местности, географическая карта
2.4.2	Находить и называть сходства и различия в изображении градусной сети на глобусе и карте
2.4.3	Работать с компасом
2.4.4.	Ориентироваться на местности по компасу, картам местным признакам
2.4.5	Читать условные знаки

3. Перечень требований элементов метапредметного содержания.

код	Описание элементов метапредметного содержания.
3.1	Определять понятия и называть отличия (познавательные УУД)
3.2	Классифицировать по заданным категориям, сопоставлять (познавательные УУД)
3.3	Устанавливать причинно-следственные связи (познавательные УУД)
3.4	Составлять схематические модели с выделением существенных характеристик объекта (познавательные УУД)
3.5	Выбирать наиболее эффективные способы решения задач (познавательные УУД)

3.6	Осуществлять поиск и выделять необходимую информацию из различных источников в разных формах (познавательные УУД)
3.7	Преобразовывать информацию из одного вида в другой (познавательные УУД)
3.8	Описывать правильность выполнения учебной задачи (регулятивные УУД)
3.9	Выражать свои мысли в соответствии с задачами и условиями коммуникации (коммуникативные УУД)

Контрольное тестирование по разделу «Изображения земной поверхности»

Вид контроля : текущий, тематический

Спецификация КИМ.

Назначение контрольной работы: оценить уровень усвоения учащимися 5 класса содержания раздела «Виды изображений земной поверхности».

Содержание контрольной работы определяется содержанием рабочей программы и предметными планируемыми результатами по географии

Материалы и оборудование: печатные тексты работы на каждого ученика

Время работы: 22 минут

Контрольная работа состоит из 14 заданий: 9 заданий базового уровня, 5- повышенного.

Распределение заданий по уровням сложности, проверяемым элементам предметного, метапредметного содержания, уровню подготовки, типам заданий и времени выполнения представлено в таблице.

Номер задания	уровень	Коды проверяемых элементов	Коды проверяемых требований к уровню подготовки обучающихся	Коды проверяемых элементов метапредметного содержания	Тип задания	Примерное время выполнения задания
1	базовый	1.4.3	2.4.1	3.3	Ответ на вопрос в свободной форме	2 минуты
2	базовый	1.4.2	2.4.4	3.1	Выбор верных ответов	1 минута
3	базовый	1.4.1	2.4.1	3.1	Дополнить предложение	1 минута
4	базовый	1.4.3	2.4.2	3.1	Тест с выбором нескольких правильных ответов	1 минута
5	повышенный	1.4.2	2.4.4.	3.1	Привести примеры к соответствующему понятию	2 минуты
6	базовый	1.4.1	2.4.2	3.2	Соотнесение примеров с соответствующим понятием	2 минуты
7	повышенный	1.4.3	2.4.2	3.1	Формулировать отличие	2 минуты
8	базовый	1.4.1.	2.4.1	3.1	Тест с выбором правильного ответа	1 минута
9	базовый	1.4.2	2.4.1	3.1	Тест с выбором	1 минута

					правильного ответа	
10	базовый	1.4.3	2.4.5	3.1	Тест с выбором правильного ответа	1 минута
11	повышенный	1.4.3	2.4.4	3.1	Построение логической цепочки	2 минуты
12	базовый	1.4.3	2.4.1	3.2	Тест с выбором правильного ответа	1 минута
13	повышенный	1.4.3	2.4.1	3.1	Соотнесение примеров с соответствующим понятием	2 минуты
14	повышенный	1.4.3	2.4.1	3.3	Рассуждение по теме работы	3 минуты

Оценивание заданий

№ задания	Правильный ответ	Критерии оценивания
1	С помощью градусной сети можно определить положение любого объекта на планете	1 бал – если указано ключевое слово «определить положение» 0 баллов – нет правильного элемента
2	Б;В	1 бал- указаны две буквы 0,5 указана одна буква 0- нет верных букв, или указана лишняя
3	горизонт	1 бал- правильное слово 0- Неверный ответ
4	А; В	1 бал- указаны две буквы 0,5 указана одна буква 0 -нет верных букв, или указана лишняя
5	По деревьям, муравейникам, годовым кольцам на пнях...	3 балла- три правильных элемента (по 1 баллу за каждый правильный ответ) 0 – нет верных ответов
6	1г,2д,3а,4б,5в	3 балла полное соответствие эталону (по 0,5 за каждый правильный ответ)
7	На плане изображен небольшой участок, на карте более крупныетерритории. На карте местность изображена нетак детально На карте нанесена градусная сеть	3 балла даны существенные отличия (по 1 баллу за каждый правильный ответ) 0 – нет верных ответов
8	А	1бал - правильный ответ 0- нет правильного ответа
9	А	1бал - правильный ответ 0 -нет правильного ответа
10	Б	1бал - правильный ответ 0 -нет правильного ответа
11	2431	2 балла – дан правильный ответ 0 - ответ неверный
12	Г	1бал - правильный ответ 0 -нет правильного ответа
13	1Б.2В, 3А	2 балла – дан правильный ответ 0 - ответ неверный

14	Карта необходима для путешественников, водителей, геологов и многих других профессий	2 балла правильное рассуждение
ИТОГО		23

Перевод баллов в 5-бальную отметку

баллы	отметка
0-7	2
8-13	3
14-19	4
20-23	5

Демоверсия контрольной работы

1. Объясни, зачем нужна градусная сеть?

2. Выбери способы ориентирования по местным признакам:

А) по звездам Б) по муравейнику В) по деревьям Г) по компасу

3. Дополни предложение

Видимое глазом пространство называют _____

4. Географическими полюсами Земли являются:

А) Северный; Б) Западный; В) Южный; Г) Восточный

5. Назовите, какие способы ориентирования на местности ты знаешь _____,
_____.

6. Установите соответствие между стороной горизонта и его азимутом

- | | |
|------------------|--------|
| 1. юг | а) 270 |
| 2. север | б) 90 |
| 3. запад | в) 45 |
| 4. восток | г) 180 |
| 5. северо-восток | д) 360 |

7. Назовите отличия географической карты от плана местности

8. Выберите рисунок с правильным расположением сторон горизонта

С

Ю

В

С-З	С-В	Ю-З	Ю-В	С-З	С-В
З	В	В	З	Ю	З

A) B) B)

9. Назовите страну, в которой был изобретен компас?

- A) Китай
- B) Индия
- B) Египет

10. Определите по карте атласа какому городу соответствуют координаты 56 с.ш. 37 в. Д.

- A) Кострома
- B) Москва
- B) Архангельск
- Г) Волгоград

11. Пронумеруйте изображения земной поверхности от самых древних к самым современным.

- 1) космический снимок 2) рисунок 3) карта 4) план

12. Выбери правильный ответ. Географическая долгота бывает:

- A) северной и южной; B) южной и восточной;
- B) северной и западной; Г) западной и восточной;

13. установите соответствие между понятием и его определением

Понятие	определение
1. экватор	A) Линия, соединяющая Северный и Южный полюсы
2. параллель	B) Самая длинная параллель
3. меридиан	B) Линии, с которыми пересекаются меридианы

14. Какую роль играют карты в жизни человека?

Контрольная работа
по географии 5 класс по теме
«Литосфера – каменная оболочка Земли».

Назначение: оценить уровень образовательной подготовки учащихся 5 класса по данной теме.

Документы:

- 1) Приказ Министерства просвещения Российской Федерации от 31.05.2021 № 287 «Об утверждении федерального государственного образовательного стандарта основного общего образования»;
- 2) Приказ Министерства просвещения Российской Федерации от 18.05.2023 № 370 «Об утверждении федеральной образовательной программы основного общего образования»
- 3) ООП ООО МБОУ «Березинская СОШ»
- 4) Система оценки достижений планируемых предметных результатов освоения учебного предмета «География»: методические рекомендации / [Э.М. Амбарцумова, В.В. Барабанов, С.Е. Дюкова]. – М. ФГБНУ «Институт стратегии развития образования», 2023

Кодификатор

Перечень элементов предметного содержания, проверяемых на контрольной работе

Код элементов		Элементы содержания, проверяемые на контрольной работе
1.1		Земная кора и литосфера
	1.1.1	Внутреннее строение Земли
	1.1.2	Горные породы и полезные ископаемые.
	1.1.3	Медленные движения земной коры.
	1.1.4	Землетрясения и вулканизм.
1.2		Рельеф Земли.
	1.2.1	Зависимость крупнейших форм рельефа от строения земной коры.
	1.2.2	Основные формы рельефа суши
	1.2.3	Неоднородность земной поверхности как следствие взаимодействия внутренних сил Земли и внешних процессов.

Перечень требований к уровню подготовки обучающихся

Код требования		Требования к уровню подготовки учащихся, достижение которого проверяется на контрольной работе.
2.1		ЗНАТЬ И ПОНИМАТЬ:
	2.1.1	Особенности внутренних оболочек Земли
	2.1.2	Свойства горных пород различного происхождения
	2.1.3	Причины движений земной коры
	2.1.4	Причины возникновения землетрясений, вулканизма
2.2		УМЕТЬ:

	2. 2.1	Выявлять взаимосвязи между строением земной коры и рельефом.
	2. 2.2	Распознавать на физических картах разные формы рельефа
	2. 2.3	Описывать облик, создаваемых внешними силами, форм рельефа

СПЕЦИФИКАЦИЯ

Назначение работы – итоговый контроль

3. Характеристика структуры и содержания работы

В работу по географии включено **15** заданий, среди которых:

10 - заданий - задания с выбором ответа, к каждому из которых приводится четыре варианта ответа, из которых верен только один.

2 – задания – установить соответствие

1 - задание - задания с кратким ответом.

1 – задание – построение логической цепочки.

1 – задание – задание на выбор нескольких ответов.

Работа представлена в одном варианте.

4. Время выполнения работы

Примерное время на выполнение заданий, в зависимости от формы представления информации в условии задания и объёма информации, которую необходимо проанализировать и осмыслить составляет от 2 (для заданий с выбором ответа) до 9 минут (для заданий с кратким ответом);

На выполнение всей работы отводится 45 минут.

5. Дополнительные материалы и оборудование

При проведении тестирования разрешается использование атласа

6. Оценка выполнения отдельных заданий и работы в целом.

1. Задания с выбором ответа считаются выполненными верно, если выбранный учащимся номер ответа совпадает с эталоном.

2. Задание с кратким ответом считается выполненным, если записанный ответ совпадает с эталоном.

Все задания работы с выбором ответа оцениваются в 1 балл, задание на построение логической цепочки, задание на выбор нескольких ответов – в 2 балла, задания – установить соответствие – в 3 балла, с кратким ответом в 5 баллов (в зависимости от полноты ответа).

Выполнение учащимся работы в целом определяется суммарным баллом, полученным им по результатам выполнения всех заданий работы.

Максимальный балл работы составляет – 25 баллов.

Перевод баллов в 5-балльную отметку

Баллы	Отметка
25 - 21	Отметка «5»
20 - 15	Отметка «4»
14 - 8	Отметка «3»
0-7	Отметка «2»

План КИМ по географии

Тип задания:

ВО – задания с выбором ответа, КО – задания с кратким ответом, ВНО – выбор нескольких ответов, УС – установить соответствие, ПЛЦ – построение логической цепочки

№ задания	Проверяемый элемент содержания	Код проверяемого вида умений	Тип задания	Время выполнения (мин)	Макс. балл за выполнение задания
1	1.1.1	2.1.1	ВО	2	1
2	1.1.2	2.1.2	ВО	2	1
3	1.1.3	2.1.3	ВО	2	1
4	1.2.1	2.2.1	ВО	2	1
5	1.1.4	2.1.4	ВО	2	1
6	1.1.4	2.1.4	ВО	2	1
7	1.2.2	2.2.2	ВО	2	1
8	1.2.2	2.2.2	ВО	2	1
9	1.2.2	2.2.2	ВО	2	1
10	1.2.2	2.2.2	ВО	2	1
11	1.2.2	2.2.2	ПЛЦ	4	2
12	1.1.2	2.1.2	УС	4	3
13	1.1.4	2.1.4	УС	4	3
14	1.2.3	2.2.3	ВНО	4	2
15	1.1.4	2.1.4	КО	9	5

Контрольная работа по теме «Литосфера – каменная оболочка Земли».

Вариант 1

1. Как называется твердая оболочка Земли?

А) биосфера Б) литосфера В) атмосфера Г) гидросфера

2. К магматическим горным породам относятся:

А) мел Б) базальт В) галька Г) каменная соль

3. Какие движения свойственны земной коре?

- А) вертикальные
- Б) горизонтальные
- В) и вертикальные, и горизонтальные
- Г) она не двигается

4. Где наиболее часто происходят землетрясения?

- А) на территории Восточно-Европейской равнины
- Б) на Кольском полуострове
- В) на Тихоокеанском побережье России
- Г) на территории Прикаспийской низменности

5. Как называется канал, расположенный внутри вулкана, по которому поднимается магма?

- А) кратер Б) жерло В) труба Г) конус

6. Как называются районы планеты, где землетрясения бывают наиболее часто?

- А) горные пояса
- Б) сейсмические пояса
- В) подвижные пояса
- Г) огненные пояса

7. Какие самые высокие горы на Земле?

- А) Уральские
- Б) Кавказские
- В) Кордильеры
- Г) Гималаи

8. На какие группы по высоте над уровнем моря делятся равнины?

- А) низменности, возвышенности, котловины
- Б) низменности, холмы, возвышенности
- В) низменности, возвышенности, плоскогорья
- Г) низменности, впадины, плоскогорья

9. Возвышенная равнина, приподнятая на высоту не более 500м?

А) низменность Б) возвышенность В) плоскогорье

10. Какую абсолютную высоту имеют высокие горы?

А) >5000м

Б) 200-1000м

В) 1000-2000м

Г) 2000-5000м

11. Расположите горы в порядке убывания их высоты, от самых высоких к низким

А) Кавказ

Б) Гималаи

В) Анды

Г) Уральские

Ответ:

1	2	3	4

12. Установите соответствие между названиями горных пород и их происхождением.

1. Известняк А. Метаморфическая порода

2. Мрамор Б. Магматическая порода

3. Гранит В. Осадочная порода органического происхождения

4. Песок Г. Осадочная порода неорганического происхождения

Ответ:

1	2	3	4

13. Установите соответствие между терминами и их определениями.

1. Земная кора 2. Землетрясение 3. Очаг землетрясения 4. Сейсмограф

А. Прибор, фиксирующий колебания земной коры

Б. Самая верхняя твердая оболочка Земли

В. Место возникновения подземного толчка

Г. Колебания земной коры в результате сдвигов горных пород в литосфере

Ответ:

1	2	3	4

14. Внешними силами, формирующими рельеф, являются:

- 1) работа текучих вод
- 2) выветривание
- 3) землетрясения
- 4) деятельность человека
- 5) движение литосферных плит
- 6) притяжение Солнца

Выберите три правильных ответа.

Ответ:

--	--	--

15. Объясните связь « мантия – магма – лава».

Ответ: _____

Ответы на тест

А 1	А 2	А 3	А 4	А 5	А 6	А 7	А 8	А 9	А 10				
Б	Б	В	В	Б	Б	Г	В	Б	А				
В 11				В 12				В 13			В 14		В 15
Б В А Г				1 В 2 А 3 Б 4 Г				1 Б 2 Г 3 В 4 А			1 2 4		

15. Мантия – внутренняя оболочка Земли, находится в вязком состоянии; магма в жидком состоянии, образуется при падении давления; лава – излившаяся магма.

Всероссийские проверочные работы
2023 год

Описание
контрольных измерительных материалов
для проведения в 2023 году проверочной работы
по ГЕОГРАФИИ

6 класс

**Описание контрольных измерительных материалов
для проведения в 2023 году проверочной работы
по ГЕОГРАФИИ**

6 класс

1. Назначение всероссийской проверочной работы

Всероссийские проверочные работы (ВПР) проводятся в целях осуществления мониторинга результатов перехода на ФГОС и направлены на выявление качества подготовки обучающихся.

Назначение ВПР по учебному предмету «География» – оценить качество общеобразовательной подготовки обучающихся 6 классов в соответствии с требованиями ФГОС. КИМ ВПР позволяют осуществить диагностику достижения предметных и метапредметных результатов обучения, в том числе овладение межпредметными понятиями и способность использования универсальных учебных действий (УУД) в учебной, познавательной и социальной практике. Результаты ВПР в совокупности с имеющейся в общеобразовательной организации информацией, отражающей индивидуальные образовательные траектории обучающихся, могут быть использованы для оценки личностных результатов обучения.

Результаты ВПР могут быть использованы общеобразовательными организациями для совершенствования методики преподавания географии на начальном этапе обучения предмету, муниципальными и региональными органами исполнительной власти, осуществляющими государственное управление в сфере образования, для анализа текущего состояния муниципальных и региональных систем образования и формирования программ их развития.

Не предусмотрено использование результатов ВПР для оценки деятельности общеобразовательных организаций, учителей, муниципальных и региональных органов исполнительной власти, осуществляющих государственное управление в сфере образования.

2. Документы, определяющие содержание проверочной работы

Содержание и структура проверочной работы определяются на основе Федерального государственного образовательного стандарта основного общего образования (~~приказ Минобрнауки России от 17.12.2010 № 1897~~) с учетом ~~Примерной основной образовательной программы основного общего образования (одобрена решением Федерального учебно-методического объединения по общему образованию (протокол от 08.04.2015 № 1/15 (в редакции протокола № 1/20 от 04.02.2020))~~ и содержания учебников, включенных в ~~Федеральный перечень~~

Ольга
2024-01-04 16:36:06

1) Приказ Министерства
образования Российской Федерации от
31.05.2021 № 287 «Об
утверждении федерального
государственного

3. Подходы к отбору содержания, разработке структуры проверочной работы

Всероссийские проверочные работы основаны на системно-деятельностном, компетентностном и уровневом подходах.

В рамках ВПР наряду с предметными результатами обучения учащихся основной школы оцениваются также метапредметные результаты, в том числе уровень сформированности универсальных учебных познавательных, коммуникативных и регулятивных действий (УУД) и овладения межпредметными понятиями.

КИМ ВПР направлены на проверку сформированности у обучающихся:

- предметных географических умений в работе с картографическими, статистическими, текстовыми и иллюстративными (в т.ч. графическими) источниками информации;
- видов деятельности по получению нового географического знания, преобразованию и применению знания в учебных и учебно-проектных ситуациях;
- географического типа мышления, научных представлений, владения научной географической терминологией, ключевыми географическими понятиями, методами и приемами.

4. Структура проверочной работы

Вариант проверочной работы состоит из 9 заданий, большинство из которых состоит из двух/трех частей (пунктов), объединенных содержанием (темой) задания, но различающихся по форме и решаемым обучающимися задачам.

Все задания проверяют умение обучающихся работать с различными источниками географической информации (картами, фотографиями, графиками и иными условно-графическими объектами, текстами, таблицами).

С учетом времени, отведенного на выполнение работы, задания требуют преимущественно краткого ответа в виде одного или нескольких слов, последовательности цифр, числа, а также в графической форме (в виде изображения символов) и записи ответа на контурной карте.

5. Кодификаторы проверяемых элементов содержания и требований к уровню подготовки обучающихся

В табл. 1 приведен кодификатор проверяемых элементов содержания.

Таблица 1

Код	Проверяемые элементы содержания
1	Развитие географических знаний о Земле
1.1	Представления о Земле в древности. Географические открытия и путешествия в эпоху Средневековья
1.2	Эпоха Великих географических открытий (открытие Нового света, морского пути в Индию, кругосветные путешествия)

1.3	Географические открытия XVII–XIX вв. (исследования и открытия на территории Евразии (в том числе на территории России), Австралии и Океании, Африки, Северной и Южной Америки, Антарктиды)
1.4	Географические открытия в XX веке (открытие Южного и Северного полюсов, исследования океанов, покорение высочайших вершин и глубочайших впадин)
2	Земля – часть Солнечной системы. Движения Земли и их следствия
2.1	Форма и размеры Земли. Наклон земной оси к плоскости орбиты
2.2	Движение Земли вокруг Солнца. Смена времен года. Тропики и полярные круги. Неравномерное распределение солнечного света и тепла на поверхности Земли
2.3	Осевое вращение Земли. Смена дня и ночи, сутки, часовые пояса
3	Изображения земной поверхности
3.1	Глобус и географическая карта. Масштаб и условные знаки на карте. Градусная сеть: параллели и меридианы. Географические координаты: географическая широта, географическая долгота. Способы изображения рельефа земной поверхности на карте. Определение географических координат различных объектов, направлений, расстояний, абсолютных высот по карте
3.2	План местности. Масштаб. Азимут. Определение направлений и расстояний на плане. Способы изображения рельефа земной поверхности на плане, определение абсолютных высот. Условные знаки. Чтение плана местности. Решение практических задач с использованием плана местности
4	Литосфера – «каменная» оболочка Земли
4.1	Внутреннее строение Земли. Земная кора и литосфера. Горные породы и полезные ископаемые. Движения земной коры и их проявления на земной поверхности: землетрясения, вулканы, гейзеры
4.2	Рельеф Земли. Зависимость крупнейших форм рельефа от строения земной коры. Основные формы рельефа – горы и равнины. Образование и изменение равнин с течением времени. Классификация равнин по абсолютной высоте. Разнообразие гор по возрасту и строению. Классификация гор по абсолютной высоте. Рельеф дна океанов. Формы рельефа своей местности
5	Гидросфера – водная оболочка Земли
5.1	Мировой океан и его части. Свойства вод Мирового океана – температура и соленость. Движение воды в океане
5.2	Воды суши. Реки: основные части речной системы, характер, питание и режим рек. Озера и их происхождение. Ледники: горное и покровное оледенение, многолетняя мерзлота. Подземные воды. Болота. Каналы. Водохранилища. Объекты гидросферы своей местности
5.3	Стихийные явления в гидросфере
6	Атмосфера – воздушная оболочка Земли
6.1	Температура воздуха. Суточный и годовой ход температур и его графическое отображение. Среднесуточная, среднемесячная, среднегодовая температура. Зависимость температуры от географической широты. Тепловые пояса
6.2	Вода в атмосфере. Облака и атмосферные осадки
6.3	Атмосферное давление. Ветер. Постоянные и переменные ветра. Графическое отображение направления ветра. Роза ветров. Циркуляция атмосферы
6.4	Влажность воздуха. Понятие погоды. Наблюдения и прогноз погоды
6.5	Погода и климат. Климатообразующие факторы. Климаты Земли. Климатические пояса
6.6	Стихийные явления в атмосфере
7	Биосфера – живая оболочка Земли
7.1	Жизнь в океане

7.2	Жизнь на поверхности суши: особенности распространения растений и животных в лесных и безлесных пространствах. Растения и животные своей местности
8	Географическая оболочка
8.1	Взаимодействие оболочек Земли. Природные комплексы. Природные комплексы своей местности
8.2	Закономерности географической оболочки: географическая зональность и высотная поясность. Природные зоны Земли
9	Человечество на Земле
9.1	Численность и состав населения Земли
9.2	Расы, нации и народы планеты
9.3	Страны на карте мира

В табл. 2 приведен кодификатор проверяемых требований к уровню подготовки.

Таблица 2

Код	Проверяемые требования к уровню подготовки	
1	Метапредметные	
	1.1	Умение определять понятия, создавать обобщения, устанавливать аналогии, классифицировать, самостоятельно выбирать основания и критерии для классификации
	1.2	Умение устанавливать причинно-следственные связи, строить логическое рассуждение, умозаключение (индуктивное, дедуктивное и по аналогии) и делать выводы
	1.3	Умение создавать, применять и преобразовывать знаки и символы, модели и схемы для решения учебных и познавательных задач
	1.4	Смысловое чтение
	1.5	Умение осознанно использовать речевые средства в соответствии с задачей коммуникации для выражения своих мыслей, планирования своей деятельности, формулирования и аргументации своего мнения; владение письменной речью
	1.6	Умение применять географическое мышление в познавательной, коммуникативной и социальной практике
	1.7	Умение оценивать правильность выполнения учебной задачи, собственные возможности ее решения
	1.8	Владение основами самоконтроля, самооценки, принятия решений и осуществления осознанного выбора в учебной и познавательной деятельности
2	Предметные	
	2.1	Сформированность представлений о географии, ее роли в освоении планеты человеком, о географических знаниях как компоненте научной картины мира, их необходимости для решения современных практических задач рационального природопользования
	2.2	Первичные компетенции использования территориального подхода как основы географического мышления
	2.3	Сформированность представлений об основных этапах географического освоения Земли, открытиях великих путешественников и землепроходцев
	2.4	Сформированность представлений и основополагающих теоретических знаний о целостности и неоднородности Земли как планеты в пространстве и во времени, особенностях природы, жизни, культуры и хозяйственной деятельности людей на разных материках и в отдельных странах

2.5	Сформированность представлений о географических объектах, процессах, явлениях, закономерностях; владение понятийным аппаратом географии
2.6	Владение основами картографической грамотности и использования географической карты для решения разнообразных задач
2.7	Практические умения и навыки использования количественных и качественных характеристик компонентов географической среды
2.8	Навыки использования различных источников географической информации для решения различных учебных и учебно-практических задач
2.9	Умения и навыки использования разнообразных географических знаний для объяснения и оценки явлений и процессов, самостоятельного оценивания уровня безопасности окружающей среды, соблюдения мер безопасности в случае природных стихийных бедствий

6. Распределение заданий проверочной работы по позициям кодификаторов

Распределение заданий по позициям кодификаторов приведено в табл. 3.

Таблица 3

№	Проверяемые элементы содержания	Проверяемые требования (умения)	Код КЭС/КТ	Уровень сложности	Максимальный балл за выполнение задания	Примерное время выполнения задания обучающимся (в минутах)
1	Изображения земной поверхности. Глобус и географическая карта. Развитие географических знаний о Земле	Умение определять понятия, устанавливать аналогии. Сформированность представлений о географии, ее роли в освоении планеты человеком. Сформированность представлений об основных этапах географического освоения Земли, открытиях великих путешественников. Сформированность представлений о географических объектах. Владение основами картографической грамотности и использования географической карты для решения разнообразных задач. Навыки использования различных источников географической информации для решения учебных задач	1.1-1.4/ /1.1, 2.1, 2.3, 2.5, 2.6, 2.8	Б П	1 2	5
2	Изображения земной поверхности. Географическая карта. Градусная сеть. Географические координаты	Владение основами картографической грамотности и использования географической карты для решения разнообразных задач. Навыки использования различных источников географической информации для решения учебных задач. Сформированность представлений о географических объектах. Смысловое чтение Умение оценивать правильность выполнения учебной задачи	3.1/ /1.4, 1.7, 2.5, 2.6, 2.8	Б Б	2 1	5

ВПР. География. 6 класс

3	Изображения земной поверхности. План местности	Умение применять и преобразовывать знаки и символы, модели и схемы для решения учебных и познавательных задач. Умение устанавливать причинно-следственные связи, строить логическое рассуждение, умозаключение и делать выводы. Владение основами картографической грамотности и использования географической карты для решения разнообразных задач. Умение применять географическое мышление в познавательной практике. Сформированность представлений о необходимости географических знаний для решения практических задач	3.2/ /1.2, 1.3, 1.6, 2.1, 2.6	Б Б П	2 1 2	5
4	Земля – часть Солнечной системы. Движения Земли и их следствия	Умение устанавливать причинно-следственные связи, строить логическое рассуждение, умозаключение и делать выводы. Навыки использования различных источников географической информации для решения учебных задач. Умение применять географическое мышление в познавательной практике. Сформированность представлений и основополагающих теоретических знаний о целостности и неоднородности Земли как планеты в пространстве и во времени	2.2, 2.3/ /1.2, 1.6, 2.4, 2.8	Б Б Б	1 2 1	5
5	Географическая оболочка. Природные зоны Земли.	Умение определять понятия, устанавливать аналогии, классифицировать. Умение устанавливать причинно-следственные связи. Сформированность представлений и основополагающих теоретических знаний о целостности и неоднородности Земли как планеты в пространстве и во времени, особенностях природы Земли. Сформированность представлений о географических объектах, явлениях, закономерностях; владение понятийным аппаратом географии	8.2/ /1.1, 1.2, 2.4, 2.5	П Б	2 1	5
6	Атмосфера – воздушная оболочка Земли. Температура воздуха. Суточный и годовой ход температур и его графическое изображение. Вода в атмосфере и	Умение применять и преобразовывать знаки и символы, модели и схемы для решения учебных и познавательных задач. Практические умения и навыки использования количественных и качественных характеристик компонентов географической	6.1–6.4/ /1.3, 1.4, 2.7, 2.8	Б Б П	2 1 2	6

ВПР. География. 6 класс

	атмосферные осадки. Диаграмма годового количества осадков. Ветер. Графическое изображение направления ветра. Роза ветров. Погода	среды. Навыки использования различных источников географической информации для решения учебных задач. Смысловое чтение				
7	Земля – часть Солнечной системы. Движения Земли и их следствия. Оболочки Земли: литосфера, гидросфера, атмосфера, биосфера. Географическая оболочка	Умение устанавливать причинно-следственные связи, строить логическое рассуждение, умозаключение и делать выводы. Сформированность представлений о географических объектах, процессах, явлениях, закономерностях; владение понятийным аппаратом географии. Смысловое чтение	2.1-2.3, 4.1-8.2/ /1.2, 1.4, 2.5	П	2	5
8	Стихийные природные явления	Сформированность представлений о географических объектах, процессах, явлениях, закономерностях; владение понятийным аппаратом географии. Умение определять понятия, устанавливать аналогии. Умения и навыки использования разнообразных географических знаний для объяснения и оценки явлений и процессов, самостоятельного оценивания уровня безопасности окружающей среды, соблюдения мер безопасности в случае природных стихийных бедствий.	4.1, 5.3, 6.6/ /1.1, 2.5, 2.9	Б	2	4
9	Человечество на Земле	Практические умения и навыки использования количественных и качественных характеристик компонентов географической среды. Сформированность представлений и основополагающих теоретических знаний о целостности и неоднородности Земли как планеты в пространстве и во времени, особенностях жизни, культуры и хозяйственной деятельности людей на разных материках и в отдельных странах. Умение применять географическое мышление в познавательной практике. Навыки использования различных источников географической информации для решения учебных задач	9.1-9.3/ /1.6, 2.4, 2.7, 2.8	Б Б Б	2 2 2	5

Всего заданий – 9 / 20 (с учетом пунктов заданий), из них пунктов по уровню сложности: Б – 15; П – 5.
 Время выполнения проверочной работы – 45 мин.
 Максимальный первичный балл – 33.

7. Распределение заданий проверочной работы по уровню сложности

В табл.4 представлена информация о распределении заданий (пунктов заданий) проверочной работы по уровню сложности.

Таблица 4

Уровень сложности заданий	Количество пунктов заданий и заданий ¹	Максимальный первичный балл	Процент максимального первичного балла за выполнение заданий данного уровня сложности от максимального первичного балла за всю работу, равного 33
Базовый	15	23	70
Повышенный	5	10	30
Итого	20/9	33	100

8. Типы заданий, сценарии выполнения заданий

Задание 1 проверяет комплекс умений работы с географической картой и сформированность представления о географических исследованиях и основных открытиях великих путешественников и землепроходцев. Задание состоит из двух частей (пунктов). Первая часть задания предполагает определение отмеченных на карте материков или океанов. Вторая часть – соотнесение этих материков или океанов с именами путешественников, которые вошли в историю открытия и освоения одного из этих материков или океанов, и подпись на карте названий связанных с этим материком или океаном крупных географических объектов (например, океанов, омывающих данный материк).

Задание 2 также проверяет умения работать с географической картой и выполняется с использованием той же карты, что и для задания 1. Первая часть задания проверяет умение обозначать на карте точки по заданным координатам и определять направления. Вторая часть задания направлена на проверку сформированности представлений о географических объектах и знание географической номенклатуры, умения использовать различные источники информации для решения учебной задачи, а также уровня владения навыками смыслового чтения и основами самоконтроля. В этой части предполагается определение географического объекта на основе сопоставления его местоположения на карте, текстового описания и изображения (космического снимка или фотоизображения).

Задание 3 направлено на проверку умения работать в знаково-символической системе, устанавливать причинно-следственные связи, строить логическое рассуждение и делать выводы на основе использования различных источников информации. Задание состоит из трех частей и построено на основе фрагмента топографической карты. В первой части задания требуется определять размещение объектов с помощью условных обозначений и направления, во второй – измерять и рассчитывать расстояния с использованием масштаба, определять абсолютные высоты точек и рассчитывать перепады высот. В третьей части задания обучающимся предлагается соотнести топографическую карту с фотографией участка местности в целях определения возможностей рационального использования отображенной на карте территории.

¹ В связи с тем, что разные пункты некоторых заданий имеют различные уровни сложности, в данной таблице каждый из пунктов заданий учтён как отдельное задание.

Задание 4 направлено на проверку умений анализировать и использовать различную информацию для установления причинно-следственных связей, построения логического рассуждения, умозаключения, давать ответы на вопросы, возникающие в ситуациях повседневного характера. Задание проверяет сформированность представлений о роли планетарных явлений в жизни людей на основе сопоставления времени в разных частях Земли на примере городов нашей страны. Задание состоит из трех частей и основывается на представленной в нем информации в виде текста, заложенного в формулировку задания, рисунков и таблицы.

Задание 5 направлено на проверку умения работать с текстовой информацией, интерпретировать ее и сопоставлять с визуальной информацией, умения определять понятия, устанавливать аналогии, классифицировать на основе владения навыками смыслового чтения. Задание проверяет уровень сформированности представлений об основных географических закономерностях и особенностях природы Земли и предполагает установление соответствия природных зон их географическим особенностям, а также определение природных зон по характерным для этих природных зон фотоизображениям.

Задание 6 проверяет умение использовать графическую интерпретацию показателей погоды для выявления заданных закономерностей и описания особенностей состояния атмосферы. Задание состоит из трех частей. Первая часть задания предполагает анализ графиков и диаграмм, отражающих разные элементы погоды (розы ветров, графика хода температуры, диаграммы количества осадков), вторая и третья части связаны с работой в знаково-символической системе и умением определять элементы погоды по условным обозначениям и переводить информацию из текстовой формы в условно-графическую.

Задание 7 направлено на проверку сформированности представлений об основных географических закономерностях и особенностях природы Земли. Задание проверяет уровень владения понятийным аппаратом географии и навыками смыслового чтения и предполагает анализ фрагмента текста географического содержания с извлечением из него информации по заданному вопросу на основе логического рассуждения.

Задание 8 проверяет уровень сформированности представлений о географических процессах и явлениях, умение узнавать опасные природные явления по фотоизображениям, знание их особенностей и причин возникновения, понимание опасности этих явлений для людей, а также мер безопасного поведения при их наступлении.

Задание 9 направлено на проверку умения работать со статистическими и иллюстративными источниками информации, извлекать и интерпретировать информацию о населении стран мира в соответствии с поставленной задачей. Задание состоит из трех частей. Первая и вторая части основаны на анализе статистической таблицы. Третья часть задания проверяет сформированность представлений о странах мира и умение соотносить изображения наиболее известных природных и культурно-исторических достопримечательностей, крупных городов и представителей населения с их принадлежностью странам мира.

9. Система оценивания выполнения отдельных заданий и проверочной работы в целом

Полный правильный ответ на каждое из заданий 1.1, 2.2, 3.2, 4.1, 4.3, 5.2 и 6.2 оценивается 1 баллом. Если в ответе допущена хотя бы одна ошибка (один из элементов ответа записан неправильно или не записан), выставляется 0 баллов.

Полный правильный ответ на каждое из заданий 5.1, 7 и 9.1 оценивается 2 баллами. Если в ответах допущена одна ошибка (в том числе не указана одна необходимая цифра или указана лишняя цифра) или в ответах на задания 5.1 и 9.1 перепутаны местами две цифры, выставляется 1 балл; если допущено две или более ошибки – 0 баллов.

Ответы на задания 1.2, 2.1, 3.1, 3.3, 4.2, 6.1, 6.3, 8, 9.2, 9.3 оцениваются в соответствии с критериями.

Максимальный первичный балл за выполнение работы – 33.

Рекомендации по переводу первичных баллов в отметки по пятибалльной шкале

Таблица 5

Отметка по пятибалльной шкале	«2»	«3»	«4»	«5»
Первичные баллы	0–9	10–20	21–28	29–33

10. Время выполнения варианта проверочной работы

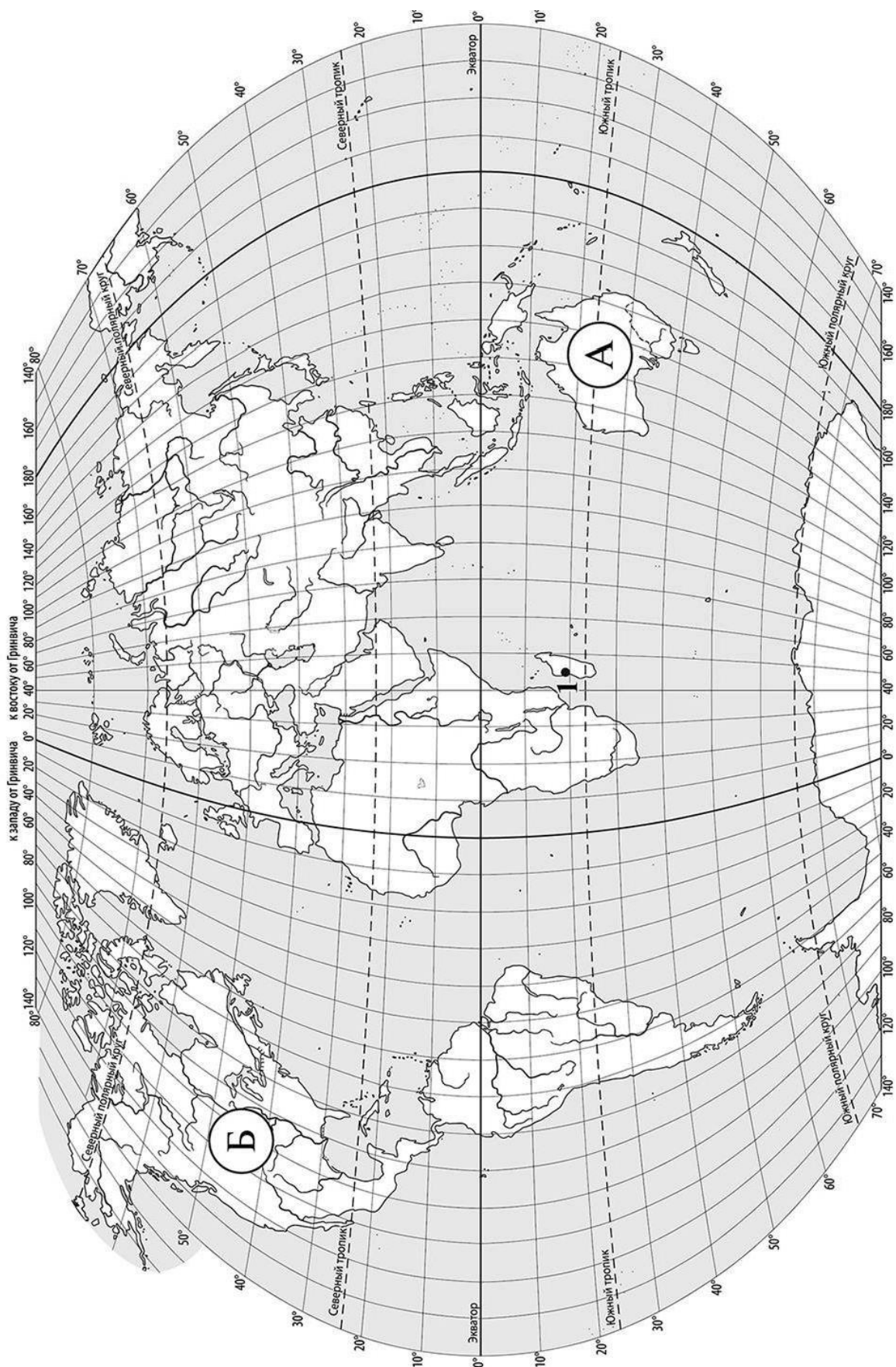
На выполнение проверочной работы по учебному предмету «География» дается 45 минут.

11. Описание дополнительных материалов и оборудования, необходимых для проведения проверочной работы

Для измерений на карте и изображения условных знаков необходимо использовать линейку и карандаш.

12. Рекомендации по подготовке к работе

Специальная подготовка к проверочной работе не требуется.



Задание 1 выполняется с использованием карты мира, приведённой на странице 2.

1 Рассмотрите карту мира и выполните задания.

1.1. Запишите названия материков, обозначенных на карте буквами А и Б.

Название материка А :


Название материка Б :



1.2. С каким из названных Вами материков связаны открытия путешественников и исследователей, изображённых на портретах? Укажите в ответе букву, которой обозначен этот материк на карте.



Абель Тасман



Н.Н. Миклухо-Маклай

Ответ.



Подпишите на карте океаны, омывающие берега указанного Вами материка.



Задание 2 выполняется с использованием карты мира, приведённой на странице 2.

2 Рассмотрите карту мира и выполните задания.

2.1. Найдите на карте точку 1 с координатами 19° ю. ш. 45° в. д.

Поставьте на карте точку 2 с координатами 43° с. ш. 45° в. д.

В каком направлении от точки 1 расположена точка 2?

- 1) северном
- 2) южном
- 3) западном
- 4) восточном

Ответ.

2.2. Точка 1 расположена на территории крупного географического объекта. Прочитайте текст, рассмотрите космический снимок и определите, какой географический объект описан в тексте.

Это четвёртый по величине остров мира. Он расположен к востоку от Африки и отделён от неё широким проливом. В центральной части острова расположено высокогорное плато, круто обрывающееся в сторону Индийского океана. Остров уникален по составу растительного и животного мира. Здесь обитают животные, которых нет больше нигде на планете, например лемуры и некоторые виды хамелеонов.

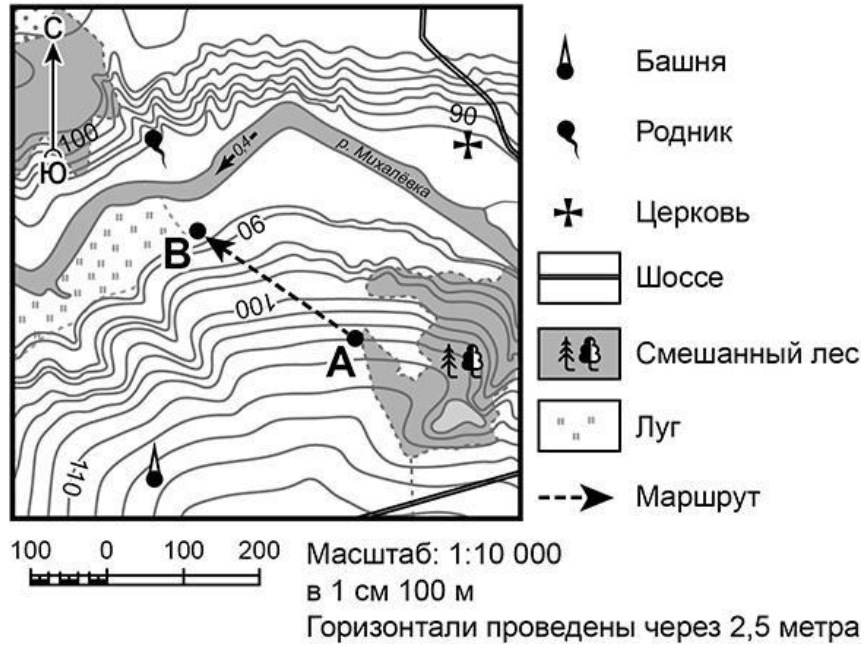
Запишите название этого географического объекта.

Ответ. _____



Задание 3 выполняется с использованием приведённого ниже фрагмента топографической карты.

3 Рассмотрите фрагмент топографической карты и выполните задания.



3.1. На каком берегу реки Михалёвки находится церковь? Подчеркните верный ответ.

Ответ. На правом / на левом

В каком направлении от церкви расположен родник?



Ответ. _____

3.2. Определите протяжённость маршрута А–В на местности с помощью масштаба карты. Для выполнения задания используйте линейку. Расстояние на карте измеряйте по центрам точек.



Ответ. _____

3.3. Какой из изображённых на фотографиях объектов может быть сооружён на участке, по которому проходит маршрут А–В? Укажите в ответе букву, которой обозначен этот объект.



А – футбольное поле



Б – санный спуск



В – пляж

Ответ.

Какая особенность участка, по которому проходит маршрут А–В, определила Ваш выбор?


- 1) близость к реке
- 2) ровная поверхность
- 3) достаточный уклон
- 4) отдалённость от населённого



пункта Ответ.


- 4 4.1. Разница во времени между городами Санкт-Петербургом и Якутском составляет **+6 часов**, так как Якутск расположен восточнее Санкт-Петербурга, и день там наступает раньше. На рисунках представлены показания часов в Санкт-Петербурге и Якутске в тот момент, когда в Санкт-Петербурге **5 часов вечера**. Запишите под каждым рисунком, как отображается то же самое время на электронных часах в этих городах.

САНКТ-ПЕТЕРБУРГ



:

ЯКУТСК



:



4.2. Настя живёт в городе Санкт-Петербурге. Что она делает в указанное Вами время? Используйте для ответа приведённый режим дня школьника.

Ответ. _____

Что в это же время делает её сверстница Катя, которая живёт в Якутске, если она соблюдает тот же режим дня, что и Настя?

Ответ. _____



4.3. Чем обусловлена разница во времени в разных частях Земли?

- 1) климатическими условиями
- 2) движением Земли вокруг Солнца
- 3) осевым вращением Земли
- 4) сменой времён года

Ответ.



РЕЖИМ ДНЯ ШКОЛЬНИКА

7.00 Подъём
 7.05 – 7.20 Утренняя зарядка
 7.20 – 7.30 Гигиенические процедуры
 7.30 – 8.00 Завтрак
 8.00 – 8.15 Дорога в школу
 8.30 – 13.10 Занятия в школе
 13.10 – 13.30 Дорога домой
 13.45 – 14.15 Обед
 14.15 – 16.15 Занятия в кружках/секциях
 16.30 – 16.45 Полдник
 16.45 – 18.15 Выполнение домашних заданий
 18.15 – 19.15 Прогулка на свежем воздухе
 19.30 – 20.00 Ужин
 20.00 – 21.30 Свободное время (чтение книг, просмотр телепередач, настольные игры)
 21.30 – 22.00 Гигиенические процедуры и подготовка ко сну
 22.00 – 7.00 Ночной сон

5 5.1. Установите соответствие между природными зонами и их географическими особенностями.

Природные зоны

А – саванны и редколесья

Б – тайга

Географические особенности

- 1) устойчивый снежный покров зимой
- 2) преимущественно травянистая растительность
- 3) занимает обширные равнины Африки
- 4) произрастание хвойных деревьев
- 5) занимает территорию в пределах умеренного пояса Северного полушария
- 6) местообитание зебр, жирафов, антилоп

Запишите в таблицу выбранные цифры под буквами, которыми обозначены природные зоны.



Ответ.

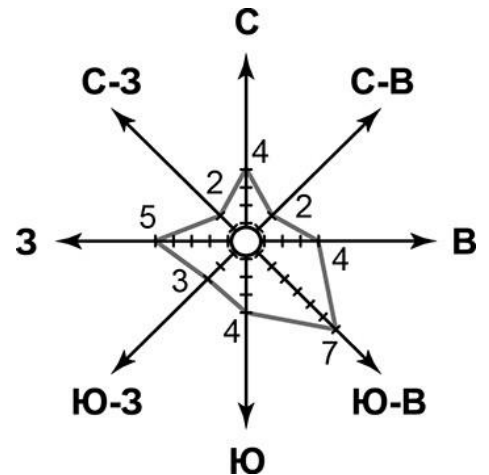
Природная зона	А	Б
Географические особенности		

5.2. В какой из указанных природных зон могли быть сделаны представленные фотографии? Запишите **название** природной зоны.



Ответ. _____

6 6.1. На метеорологической станции города N в январе были проведены наблюдения за направлением ветра. По результатам наблюдений метеорологи построили розу ветров. Рассмотрите розу ветров и ответьте на вопросы.



Какой ветер чаще всего дул в январе?

Ответ. _____

В каком направлении дует этот ветер?

Ответ. _____

6.2. Выберите рисунок, на котором знаками отображена погода в тот день, когда температура воздуха опустилась ниже 10 градусов мороза. Запишите в ответе букву, которой обозначен этот рисунок.

А		-16 °C	74%
Б		-10 °C	56%
В		+2 °C	80%

Ответ.

6.3. Андрей в течение дня наблюдал за погодой и описал её в дневнике наблюдений. Прочитайте это описание и отобразите его с помощью условных обозначений так, как на представленных выше рисунках.

Сегодня целый день было ясно, а к вечеру выпала обильная роса. Дул слабый юго-западный ветер. Температура воздуха днём была около 22 градусов тепла, а влажность – 50 процентов.

УСЛОВНЫЕ ОБОЗНАЧЕНИЯ		
Облачность	Осадки	Направление ветра

Ответ.

--	--	--	--	--

7 Прочитайте текст и выполните задание.

(1) Литосфера — твёрдая оболочка Земли, состоящая из земной коры и верхней части подстилающей её мантии. (2) Глубинные разломы разделяют литосферу на блоки — литосферные плиты, которые могут перемещаться по пластичному слою мантии под действием внутренних сил Земли. (3) Перемещение литосферных плит приводит к изменению положения материков и океанов на поверхности Земли. (4) Литосферные плиты сходятся, расходятся или двигаются параллельно друг другу, смещаясь в среднем на 2-3 см в год. (5) В местах столкновения литосферных плит на суше образуются складчатые горы, а в океане, вдоль границы с сушей — глубоководные желоба. (6) Расхождение литосферных плит приводит к формированию на дне океанов срединно-океанических хребтов.

По каким предложениям можно сделать вывод о результатах движения литосферных плит? Запишите номера предложений.

Ответ. _____

ИЛИ**7** Прочитайте предложения и выполните задание.

- 1) Используя богатства природы, человек активно внедряется во все оболочки Земли.
- 2) При создании водохранилищ и распашке земель изменяются водный баланс и почвенный покров, что нарушает видовой состав флоры и фауны на огромных территориях.
- 3) В Мировом океане среду обитания живых организмов особенно сильно нарушает загрязнение воды.
- 4) Современные технологии позволяют человеку осваивать новые территории, добывать богатства земных недр, прогнозировать природные процессы и даже управлять ими.
- 5) Ежегодно в атмосферу Земли выбрасывается огромное количество вредных веществ.
- 6) Вырубка лесов, охота, сбор редких видов растений приводят к сокращению и даже уничтожению растительного и животного мира нашей планеты.

По каким предложениям можно сделать вывод о негативном влиянии человека на биосферу? Запишите номера предложений.

Ответ. _____

8 Рассмотрите фотографию с изображением опасного явления природы. Запишите его название.

Ответ. _____

В какой части географической оболочки Земли зарождается это явление?

- 1) литосфере
- 2) гидросфере
- 3) биосфере
- 4) атмосфере



Ответ.

9 Используя приведённую ниже таблицу, выполните задания.

Численность и состав населения

№	Страна	Численность населения, млн человек	Состав населения, %	
			городское	сельское
1	Австралия	25	88	12
2	Греция	11	80	20
3	Египет	95	43	57
4	Франция	65	80	20

9.1. Расположите страны в порядке **уменьшения** численности населения, начиная со страны с самой большой численностью. Запишите в ответе последовательность **порядковых номеров** этих стран.

Ответ.

--	--	--	--

9.2. В какой стране более половины населения проживает в сельской местности? Запишите в ответе **название** страны.

Ответ. _____

В каких двух странах доля городского населения одинакова? Запишите в ответе **названия** стран.

Ответ. _____

9.3. В какой стране, из указанных в таблице, сделана представленная фотография? Запишите в ответе название страны.

Ответ. _____

Какой уникальный объект, созданный живыми организмами, расположен вблизи восточного побережья указанной Вами страны?

- 1) Марианская впадина
- 2) остров Пасхи
- 3) Большой Барьерный риф
- 4) Драконовы горы



Ответ.

Система оценивания проверочной работы

Полный правильный ответ на каждое из заданий 1.1, 2.2, 3.2, 4.1, 4.3, 5.2 и 6.2 оценивается 1 баллом. Если в ответе допущена хотя бы одна ошибка (один из элементов ответа записан неправильно или не записан), выставляется 0 баллов.


Полный правильный ответ на каждое из заданий 5.1, 7 и 9.1 оценивается 2 баллами. Если в ответах допущена одна ошибка (в том числе не указана одна необходимая цифра или указана лишняя цифра) или в ответах на задания 5.1 и 9.1 перепутаны местами две цифры, выставляется 1 балл; если допущено две или более ошибки – 0 баллов.

Номер задания	Правильный ответ	
1.1	А – Австралия, Б – Северная Америка	
2.2	остров Мадагаскар	
3.2	250 метров (допускается погрешность ± 10 метров)	
4.1	17.00; 23.00	
4.3	3	
5.1	А – 236 (в любой последовательности); Б – 145 (в любой последовательности)	
5.2	тайга	
6.2	А	
7	356 (в любой последовательности)	236 (в любой последовательности)
9.1	3412	

- 1 1.2. С каким из названных Вами материков связаны открытия путешественников и исследователей, изображённых на портретах? Укажите в ответе букву, которой обозначен этот материк на карте.



А. Тасман



Н.Н. Миклухо-Маклай

Подпишите на карте океаны, омывающие берега указанного Вами материка.

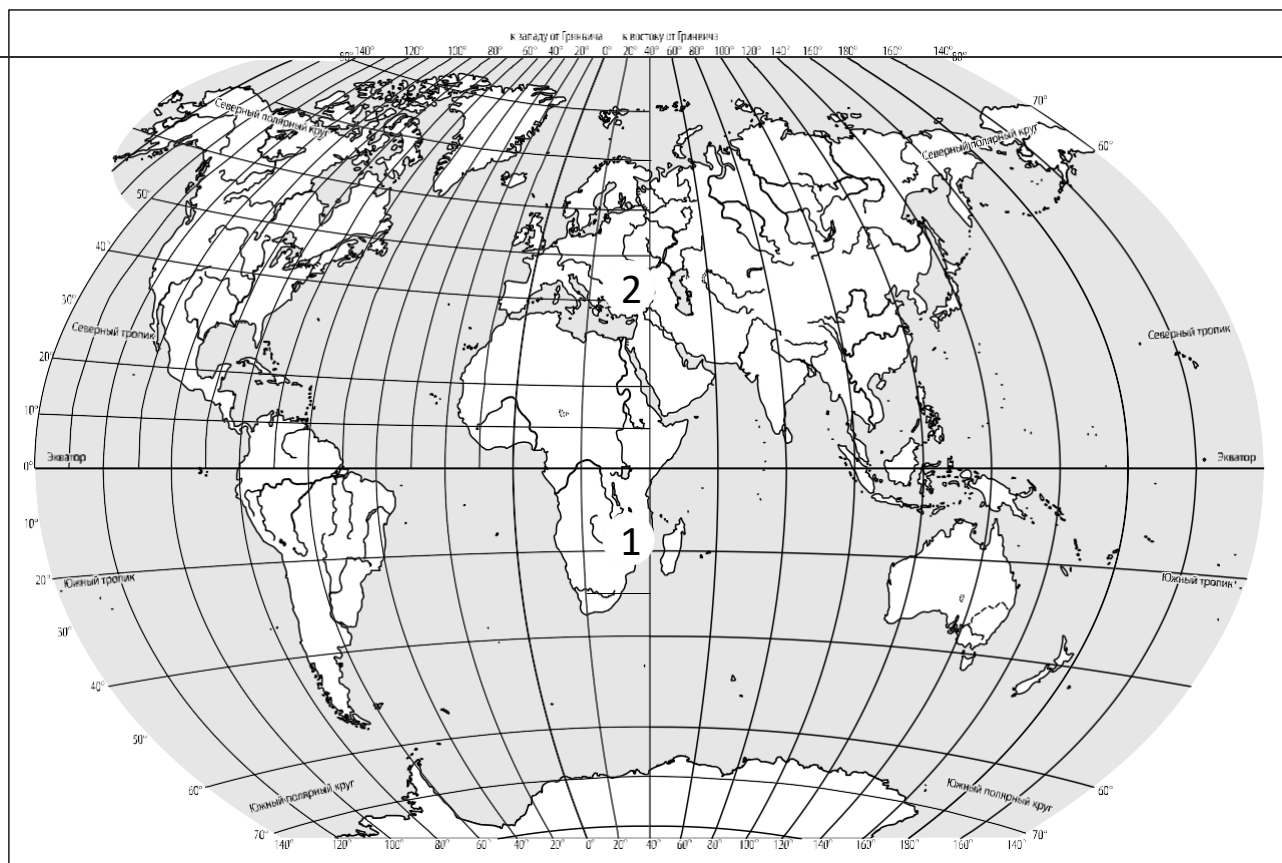
Содержание верного ответа и указания по оцениванию	Баллы
Правильный ответ должен содержать следующие <u>элементы</u> : 1) <u>указание материка</u> : А; 2) <u>подписи океанов на карте</u> : Индийский, Тихий	
Правильно указан материк, подписаны два океана	2
Правильно указан материк, подписан только один океан	1
Правильно указан только материк, ни одно название океана не подписано / не подписано правильно. ИЛИ Материк не указан / указан неправильно независимо от наличия/отсутствия подписи океанов. ИЛИ Ответ неправильный	0
<i>Максимальный балл</i>	2

2

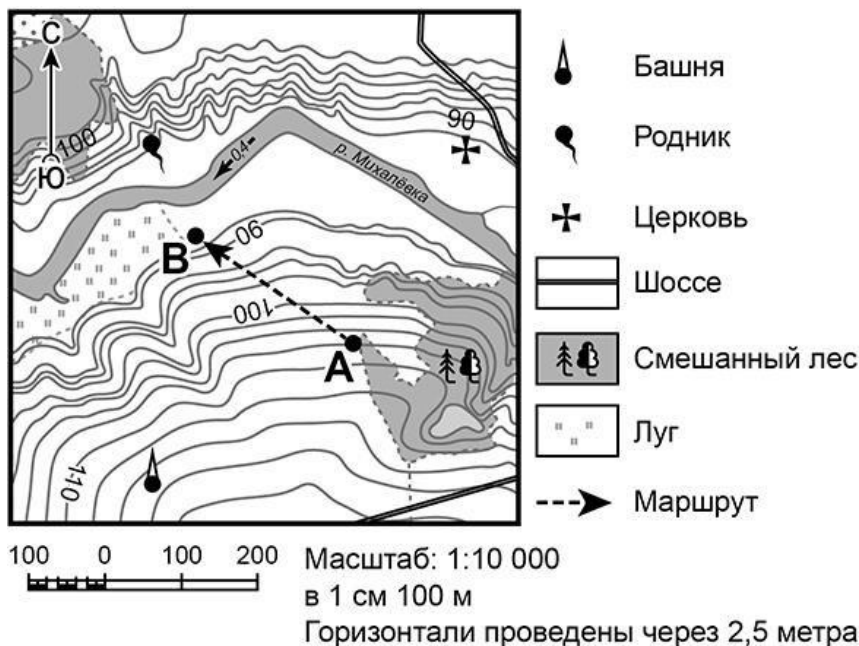
2.1. Найдите на карте точку 1 с координатами 19° ю. ш. 45° в. д.
Поставьте на карте точку 2 с координатами 43° с. ш. 45° в. д.

В каком направлении от точки 1 расположена точка 2?

- 1) северном
- 2) южном
- 3) западном
- 4) восточном



Содержание верного ответа, критерии и указания по оцениванию	Баллы
Правильный ответ должен содержать следующие <u>элементы</u> : 1) <u>отметка точки</u> на карте (<i>допускается погрешность $\pm 1^{\circ}$</i>); 2) <u>указание направления</u> : 1	
Правильно отмечена точка на карте и указано направление	2
Правильно отмечена точка на карте; направление не указано / указано неправильно	1
Точка на карте не отмечена / отмечена неправильно независимо от указания направления. ИЛИ Ответ неправильный	0
<i>Максимальный балл</i>	2



3

3.1. На каком берегу реки Михалёвки находится церковь?
В каком направлении от церкви расположен родник?

Содержание верного ответа и указания по оцениванию	Баллы
Правильный ответ должен содержать <u>ответы на два вопроса</u> : 1) на правом берегу; 2) в западном направлении / на запад	
Правильно даны ответы на два вопроса	2
Правильно дан ответ только на один любой вопрос	1
Ответы на вопросы не даны / даны неправильно	0
<i>Максимальный балл</i>	
	2

3.3. Какой из изображённых на фотографиях объектов может быть сооружён на участке, по которому проходит маршрут А–В? Укажите в ответе букву, которой обозначен этот объект.

Какая особенность участка, по которому проходит маршрут А–В, определила Ваш выбор?

- 1) близость к реке
- 2) ровная поверхность
- 3) достаточный уклон
- 4) отдалённость от населённого пункта



А – футбольное поле



Б – санный спуск



В – пляж

Содержание верного ответа и указания по оцениванию	Баллы
Правильный ответ должен содержать следующие <u>элементы</u> : 1) <u>указание объекта</u> : Б 2) <u>указание особенности участка</u> : З	
Правильно указаны объект и особенность участка	2
Правильно указан только объект; особенность участка не указана / указана неправильно	1
Объект указан неправильно независимо от указания особенности участка. ИЛИ Ответ неправильный	0
<i>Максимальный балл</i>	2

4

4.2. Настя живёт в городе Санкт-Петербурге. Что она делает в указанное Вами время? Используйте для ответа приведённый режим дня школьника.

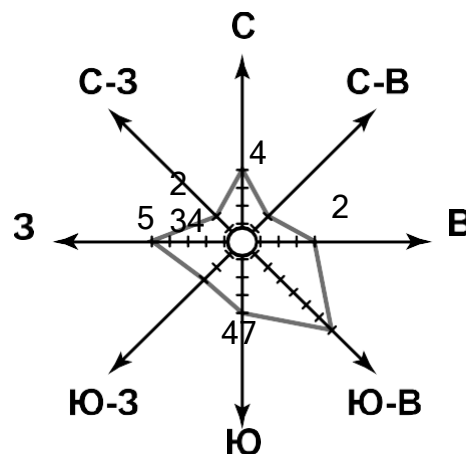
Что в это же время делает её сверстница Катя, которая живёт в Якутске, если она соблюдает тот же режим дня, что и Настя?

РЕЖИМ ДНЯ ШКОЛЬНИКА

7.00 Подъём
7.05 – 7.20 Утренняя зарядка
7.20 – 7.30 Гигиенические процедуры
7.30 – 8.00 Завтрак
8.00 – 8.15 Дорога в школу
8.30 – 13.10 Занятия в школе
13.10 – 13.30 Дорога домой
13.45 – 14.15 Обед
14.15 – 16.15 Занятия в кружках/секциях
16.30 – 16.45 Полдник
16.45 – 18.15 Выполнение домашних заданий
18.15 – 19.15 Прогулка на свежем воздухе
19.30 – 20.00 Ужин
20.00 – 21.30 Свободное время (чтение книг, просмотр телепередач, настольные игры)
21.30 – 22.00 Гигиенические процедуры и подготовка ко сну
22.00 – 7.00 Ночной сон

Содержание верного ответа и указания по оцениванию	Баллы
Правильный ответ должен содержать <u>ответы на два вопроса</u> : 1) Настя выполняет домашние задания; 2) Катя спит	
Правильно даны ответы на два вопроса	2
Правильно дан ответ только на один любой вопрос	1
Ответы на вопросы не даны / даны неправильно	0
<i>Максимальный балл</i>	2

6 На метеорологической станции города N в январе были проведены наблюдения за направлением ветра. По результатам наблюдений метеорологи построили розу ветров. Рассмотрите розу ветров и ответьте на вопросы.



6.1. Какой ветер чаще всего дул в январе?
В каком направлении дует этот ветер?

Содержание верного ответа и указания по оцениванию	Баллы
Правильный ответ должен содержать <u>ответы на два вопроса</u> : 1) юго-восточный ветер; 2) в северо-западном направлении / на северо-запад	
Правильно даны ответы на два вопроса	2
Правильно дан ответ только на один любой вопрос	1
Ответы на вопросы не даны / даны неправильно	0
<i>Максимальный балл</i>	2

6.3. Андрей в течение дня наблюдал за погодой и описал её в дневнике наблюдений. Прочитайте это описание и отобразите его с помощью условных обозначений так, как на представленных выше рисунках.

Сегодня целый день было ясно, а к вечеру выпала обильная роса. Дул слабый юго-западный ветер. Температура воздуха днём была около 22 градусов тепла, а влажность – 50 процентов.

Содержание верного ответа и указания по оцениванию	Баллы					
Правильный ответ должен содержать <u>заполненную таблицу</u> с изображением условных знаков элементов погоды:						
<table border="1" style="display: inline-table; vertical-align: middle;"> <tr> <td style="text-align: center;">○</td> <td style="width: 20px;"></td> <td style="text-align: center;">↗</td> <td style="text-align: center;">+22 °С</td> <td style="text-align: center;">50%</td> </tr> </table>	○		↗	+22 °С	50%	
○		↗	+22 °С	50%		
Таблица заполнена правильно	2					
В таблице допущена одна ошибка / один из условных знаков не указан	1					
В таблице допущены две и более ошибки / не указаны два и более условных знака. ИЛИ Ответ неправильный	0					
<i>Максимальный балл</i>	2					

- 8 Рассмотрите фотографию с изображением опасного явления природы. Запишите его название.



В какой части географической оболочки Земли зарождается это явление?

- 1) литосфере
- 2) гидросфере
- 3) биосфере
- 4) атмосфере

Содержание верного ответа и указания по оцениванию	Баллы
Правильный ответ должен содержать следующие <u>элементы</u> : 1) <u>указание явления природы</u> : смерч/торнадо; 2) <u>ответ на вопрос</u> : 4	
Правильно указано явление природы и дан ответ на вопрос	2
Правильно указано только явление природы, ответ на вопрос не дан / дан неправильно	1
Явление природы указано неправильно / не указано независимо от ответа на вопрос. ИЛИ Ответ неправильный	0
<i>Максимальный балл</i>	2

- 9 Используя приведённую ниже таблицу, выполните задания.

Численность и состав населения

№	Страна	Численность населения, млн человек	Состав населения, %	
			городское	сельское
1	Австралия	25	88	12
2	Греция	11	80	20
3	Египет	95	43	57
4	Франция	65	80	20

9.2. В какой стране более половины населения проживает в сельской местности? Запишите в ответе **название** страны.

В каких двух странах доля городского населения одинакова? Запишите в ответе **названия** стран.

Содержание верного ответа и указания по оцениванию	Баллы
Правильный ответ должен содержать <u>ответы на два вопроса</u> : 1) в Египте; 2) в Греции и во Франции	
Правильно даны ответы на два вопроса	2
Правильно дан ответ на любой один вопрос	1
Ответы на вопросы не даны / даны неправильно	0
<i>Максимальный балл</i>	2

9.3. В какой стране, из указанных в таблице, сделана представленная фотография?
Запишите в ответе **название** страны.

Какой уникальный объект, созданный живыми организмами, расположен вблизи восточного побережья указанной Вами страны?

- 1) Марианская впадина
- 2) остров Пасхи
- 3) Большой Барьерный риф
- 4) Драконовы горы



Содержание верного ответа и указания по оцениванию	Баллы
Правильный ответ должен содержать <u>два элемента</u> : 1) <u>указание страны</u> : Австралия / Австралийский Союз; 2) <u>ответ на вопрос</u> : 3	
Правильно указано название страны и дан ответ на вопрос	2
Правильно указано только название страны, ответ на вопрос не дан / дан неправильно	1
Название страны не указано / указано неправильно независимо от ответа на вопрос. ИЛИ Ответ неправильный	0
<i>Максимальный балл</i>	2

Система оценивания выполнения всей работы

Максимальный первичный балл за выполнение работы – **33**.

Рекомендации по переводу первичных баллов в отметки по пятибалльной шкале

Отметка по пятибалльной шкале	«2»	«3»	«4»	«5»
Первичные баллы	0–9	10–20	21–28	29–33

Всероссийские проверочные работы
2023 год

Описание

контрольных измерительных материалов
для проведения в 2023 году проверочной работы
по ГЕОГРАФИИ

7 класс

**Описание контрольных измерительных материалов
для проведения в 2023 году проверочной работы
по ГЕОГРАФИИ**

7 класс

1. Назначение всероссийской проверочной работы

Всероссийские проверочные работы (ВПР) проводятся в целях осуществления мониторинга результатов перехода на ФГОС и направлены на выявление качества подготовки обучающихся.

Назначение ВПР по учебному предмету «География» – оценить качества общеобразовательной подготовки обучающихся 7 классов в соответствии с требованиями ФГОС. КИМ ВПР позволяют осуществить диагностику достижения предметных и метапредметных результатов обучения, в том числе овладение межпредметными понятиями и способность использования универсальных учебных действий (УУД) в учебной, познавательной и социальной практике. Результаты ВПР в совокупности с имеющейся в общеобразовательной организации информацией, отражающей индивидуальные образовательные траектории обучающихся, могут быть использованы для оценки личностных результатов обучения.

Результаты ВПР могут быть использованы общеобразовательными организациями для совершенствования методики преподавания географии в процессе обучения предмету, муниципальными и региональными органами исполнительной власти, осуществляющими государственное управление в сфере образования, для анализа текущего состояния муниципальных и региональных систем образования и формирования программ их развития.

Не предусмотрено использование результатов ВПР для оценки деятельности общеобразовательных организаций, учителей, муниципальных и региональных органов исполнительной власти, осуществляющих государственное управление в сфере образования.

2. Документы, определяющие содержание проверочной работы

Содержание и структура проверочной работы определяются на основе Федерального государственного образовательного стандарта основного общего образования (приказ Минобрнауки России от 17.12.2010 № 1897) с учетом Примерной основной образовательной программы основного общего образования (одобрена решением Федерального учебно-методического объединения по общему образованию (протокол от 08.04.2015 № 1/15 (в редакции протокола № 1/20 от 04.02.2020)) и содержания учебников, включенных в Федеральный перечень.

3. Подходы к отбору содержания, разработке структуры проверочной работы

Всероссийские проверочные работы основаны на системно-деятельностном, компетентностном и уровневом подходах.

В рамках ВПР наряду с предметными результатами обучения учеников основной школы оцениваются также метапредметные результаты, в том числе уровень сформированности универсальных учебных познавательных, коммуникативных и регулятивных действий (УУД) и овладения межпредметными понятиями.

КИМ ВПР направлены на проверку сформированности у обучающихся:

- предметных географических умений в работе с картографическими, статистическими, иллюстративными, графическими и текстовыми источниками информации, умений обобщать, анализировать и оценивать информацию в целях интерпретации данных;

- видов деятельности по получению нового географического знания, преобразованию и применению знания в учебных и учебно-проектных ситуациях;

- географического типа мышления, научных представлений, владения научной географической терминологией, ключевыми географическими понятиями, методами и приемами.

4. Структура проверочной работы

Вариант проверочной работы включает в себя 8 комплексных заданий, каждое из которых в свою очередь состоит из двух-трех частей (пунктов), объединенных единым содержанием. С учетом всех пунктов вариант работы включает в себя 8 заданий из 20 пунктов.

Задания различаются не только по содержанию, но и по характеру решаемых обучающимися задач, и проверяют умение обучающихся работать с различными источниками географической информации (картами, фотографиями, таблицами, текстами, схемами, графиками и иными условно-графическими объектами). При этом каждый пункт каждого задания направлен на проверку того или иного из вышеуказанных умений.

С учетом времени, отведенного на выполнение работы, задания требуют преимущественно краткого ответа в виде записи слов или словосочетаний, последовательности цифр, чисел, а также ответа, представленного в графической форме (в виде изображения знаков/символов), в форме записи/отметки на контурной карте, заполненной таблицы или блок-схемы.

Задания (пункты) 1.1, 1.2, 1.3, 2.1, 3.1, 6.1 выполняются с использованием географических карт, приведенных в работе.

5. Кодификаторы проверяемых элементов содержания и требований к уровню подготовки обучающихся

В табл. 1 приведен кодификатор проверяемых элементов содержания.

Таблица 1

Код	Проверяемые элементы содержания
1	Освоение Земли человеком
1.1	Важнейшие географические открытия и путешествия в древности и эпоху Средневековья
1.2	Важнейшие географические открытия и путешествия в XVI–XIX вв.
1.3	Важнейшие географические открытия и путешествия в XX в.
1.4	Описание и нанесение на контурную карту географических объектов одного из изученных маршрутов
2	Главные закономерности природы Земли
2.1	Литосфера и рельеф Земли. Литосферные плиты. Сейсмические пояса Земли. Строение земной коры. Типы земной коры. Формирование современного рельефа Земли. Полезные ископаемые
2.2	Атмосфера и климаты Земли. Распределение температуры, осадков, поясов атмосферного давления на Земле, их отражение на климатических картах. Графическое изображение климатических показателей. Разнообразие климата на Земле. Климатообразующие факторы и процессы, происходящие в атмосфере. Характеристика климатических поясов Земли
2.3	Мировой океан – основная часть гидросферы. Мировой океан и его части. Океанические течения. Система океанических течений. Характерные черты природы океанов Земли и их отличительные особенности
2.4	Географическая оболочка. Свойства и особенности строения географической оболочки. Общие географические закономерности. Географическая зональность. Природные зоны Земли. Высотная поясность
3	Характеристика материков Земли
3.1	Географическое положение и природа материков Земли. Особенности рельефа и полезные ископаемые. Климат и внутренние воды. Растительный и животный мир. Эндемики. Природные зоны. Причины природного разнообразия. Характеристика природы отдельных территорий и оценка для жизни людей
3.2	Население материков Земли. Регионы и страны материков (население, образ жизни, культура, хозяйство)

В табл. 2 приведен кодификатор проверяемых требований к уровню подготовки.

Таблица 2

Код	Проверяемые требования к уровню подготовки
1	Метапредметные
1.1	Умения определять понятия, создавать обобщения, устанавливать аналогии, классифицировать, самостоятельно выбирать основания и критерии для классификации
1.2	Умения устанавливать причинно-следственные связи, строить логическое рассуждение, умозаключение (индуктивное, дедуктивное и по аналогии) и делать выводы
1.3	Умения создавать, применять и преобразовывать знаки и символы, модели и схемы для решения учебных и познавательных задач

	1.4	Смысловое чтение
	1.5	Умение осознанно использовать речевые средства в соответствии с задачами коммуникации для выражения своих мыслей, планирования своей деятельности, формулирования и аргументации своего мнения; владение письменной речью
	1.6	Умение применять географическое мышление в познавательной, коммуникативной и социальной практике
	1.7	Умение оценивать правильность выполнения учебной задачи, собственные возможности ее решения
	1.8	Владение основами самоконтроля, самооценки, принятия решений и осуществления осознанного выбора в учебной и познавательной деятельности
2		Предметные
	2.1	Представления об основных этапах географического освоения Земли, открытиях великих путешественников и землепроходцев, исследованиях материков Земли
	2.2	Первичные компетенции использования территориального подхода как основы географического мышления; владение понятийным аппаратом географии; умение находить и распознавать ответы на вопросы, возникающие в ситуациях повседневного характера, узнавать в них проявление тех или иных географических процессов или закономерностей
	2.3	Умения ориентироваться в источниках географической информации: находить и извлекать необходимую информацию; определять и сравнивать качественные и количественные показатели, характеризующие географические объекты, процессы и явления, их положение в пространстве; выявлять недостающую и/или взаимодополняющую географическую информацию, представленную в одном или нескольких источниках; представлять в различных формах географическую информацию, необходимую для решения учебных и практико-ориентированных задач
	2.4	Умения использовать источники географической информации для решения различных задач: выявление географических зависимостей и закономерностей; объяснение географических явлений и процессов; расчет количественных показателей, характеризующих географические объекты, явления и процессы; сопоставление, сравнение и/или оценка географической информации
	2.5	Умения: различать изученные географические объекты, процессы и явления; сравнивать географические объекты, процессы и явления на основе известных характерных свойств и проводить их простейшую классификацию; описывать по карте положение и взаиморасположение географических объектов
	2.6	Способность использовать знания о географических законах и закономерностях, о взаимосвязях между изученными географическими объектами, процессами и явлениями для объяснения их свойств, условий протекания и различий
	2.7	Умения: различать географические процессы и явления, определяющие особенности природы и населения материков и океанов, отдельных регионов и стран; устанавливать черты сходства и различия особенностей природы и населения, материальной и духовной культуры регионов и отдельных стран
	2.8	Способность использовать знания о населении и взаимосвязях между изученными демографическими процессами и явлениями для решения различных учебных и практико-ориентированных задач

6. Распределение заданий проверочной работы по позициям кодификаторов

Распределение заданий по позициям кодификаторов приведено в табл. 3.

Таблица 3

№	Проверяемые элементы содержания	Проверяемые требования (умения)	Код КЭС/КТ	Уровень сложности	Максимальный балл за выполнение задания	Примерное время выполнения задания обучающимся (в минутах)
1	Освоение Земли человеком. Мировой океан и его части. Географическое положение и природа материков Земли	Умения определять понятия, создавать обобщения, устанавливать аналогии. Умения устанавливать причинно-следственные связи, строить логическое рассуждение. Представления об основных этапах географического освоения Земли, открытиях великих путешественников и землепроходцев, исследованиях материков Земли. Умения ориентироваться в источниках географической информации, выявлять взаимодополняющую географическую информацию. Умения различать изученные географические объекты, описывать по карте положение и взаиморасположение географических объектов	1.1–1.4, 2.3, 3.1/ 1.1, 1.2, 2.1, 2.3, 2.5	Б Б Б	2 2 2	6
2	Литосфера и рельеф Земли. Географическое положение и природа материков Земли	Умения создавать, применять и преобразовывать знаки и символы, модели и схемы для решения учебных задач. Умение устанавливать причинно-следственные связи, строить логическое рассуждение. Умения: ориентироваться в источниках географической информации; определять и сравнивать качественные и количественные показатели, характеризующие географические объекты, их положение в пространстве; представлять в различных формах географическую информацию. Умения использовать источники географической информации для решения различных задач: выявление географических зависимостей и закономерностей; расчет количественных показателей, характеризующих географические объекты; сопоставление географической информации. Умения различать изученные географические объекты, сравнивать географические объекты на основе известных характерных свойств	2.1, 3.1/ 1.2, 1.3, 2.3–2.5	П Б Б	2 2 2	10

3	<p>Атмосфера и климаты Земли. Географическая оболочка. Природные зоны Земли</p>	<p>Умения устанавливать причинно-следственные связи, строить логическое рассуждение. Смысловое чтение. Умения ориентироваться в источниках географической информации: находить и извлекать необходимую информацию; определять и сравнивать качественные и количественные показатели, характеризующие географические объекты, процессы и явления, их положение в пространстве; выявлять взаимодополняющую географическую информацию, представленную в одном или нескольких источниках; представлять в различных формах географическую информацию. Умение использовать источники географической информации для решения различных задач. Умения: различать изученные географические объекты, процессы и явления; сравнивать географические объекты, процессы и явления на основе известных характерных свойств.</p>	<p>2.2, 2.4/ 1.2, 1.4, 2.3–2.5</p>	<p>Б Б Б</p>	<p>2 2 2</p>	<p>6</p>
4	<p>Главные закономерности природы Земли</p>	<p>Умения устанавливать причинно-следственные связи, строить логическое рассуждение, умозаключение и делать выводы. Умения создавать, применять и преобразовывать модели и схемы для решения учебных задач. Смысловое чтение. Умения ориентироваться в источниках географической информации: находить и извлекать необходимую информацию; определять и сравнивать показатели, характеризующие географические объекты, процессы и явления, их положение в пространстве. Умение использовать источники географической информации для решения различных задач: выявление географических закономерностей; объяснение географических явлений и процессов. Умение различать изученные географические объекты, процессы и явления на основе известных характерных свойств. Способность использовать знания о географических законах и закономерностях, о взаимосвязях между изученными географическими объектами, процессами и явлениями для объяснения их свойств, условий протекания и различий.</p>	<p>2.1–2.4/ 1.2, 1.3, 1.4, 2.3–2.7</p>	<p>Б П</p>	<p>1 2</p>	<p>5</p>

		Умение различать географические процессы и явления, определяющие особенности природы материков и океанов				
5	Географическое положение и природа материков Земли	<p>Умения определять понятия, создавать обобщения, устанавливать аналогии, классифицировать.</p> <p>Умения устанавливать причинно-следственные связи, строить логическое рассуждение.</p> <p>Смысловое чтение.</p> <p>Умения: различать изученные географические объекты, процессы и явления; сравнивать географические объекты, процессы и явления на основе известных характерных свойств и проводить их простейшую классификацию.</p> <p>Умение различать географические процессы и явления, определяющие особенности природы и населения материков и океанов.</p> <p>Умение представлять в различных формах географическую информацию</p>	3.1/ 1.1, 1.2, 1.4, 2.3, 2.5, 2.7	Б П	2 3	7
6	Главные закономерности природы Земли. Население материков Земли	<p>Умения устанавливать причинно-следственные связи, строить логическое рассуждение.</p> <p>Умение применять географическое мышление в познавательной, коммуникативной и социальной практике.</p> <p>Первичные компетенции использования территориального подхода как основы географического мышления; умения находить и распознавать ответы на вопросы, возникающие в ситуациях повседневного характера, узнавать в них проявление тех или иных географических процессов или закономерностей.</p> <p>Умение ориентироваться в источниках географической информации: находить и извлекать необходимую информацию, определять и сравнивать показатели, характеризующие географические объекты, их положение в пространстве.</p> <p>Умение использовать источники географической информации для решения различных задач.</p> <p>Способность использовать знания о географических законах и закономерностях, о взаимосвязях между изученными географическими объектами, процессами и явлениями для объяснения их свойств, условий протекания и различий</p>	3.2/ 1.2, 1.6, 2.2, , 2.3, 2.4, 2.6	Б Б П	1 1 1	5

7	Население материков Земли	Умение устанавливать причинно-следственные связи, строить логическое рассуждение, умозаключение и делать выводы. Умения ориентироваться в источниках географической информации: находить и извлекать необходимую информацию; определять и сравнивать качественные и количественные показатели, характеризующие географические объекты, процессы и явления. Способность использовать знания о населении и взаимосвязях между изученными демографическими процессами и явлениями для решения различных учебных и практико-ориентированных задач	3.2/ 1.2, 2.3, 2.8	Б Б	2 1	3
8	Географическое положение и природа материков Земли. Население материков Земли	Умения создавать, применять и преобразовывать знаки и символы, модели и схемы для решения учебных и познавательных задач. Умение применять географическое мышление в познавательной, коммуникативной и социальной практике. Умение различать изученные географические объекты на основе известных характерных свойств. Умения: различать географические процессы и явления, определяющие особенности природы и населения материков, отдельных регионов и стран; устанавливать черты сходства и различия особенностей природы и населения, материальной и духовной культуры регионов и отдельных стран	3.1, 3.2/ 1.3, 1.6, 2.5, 2.7	Б Б	1 2	3
<p>Всего заданий – 8 / 20 (с учетом пунктов заданий), из них пунктов по уровню сложности: Б – 16; П – 4. Время выполнения проверочной работы – 45 мин. Максимальный первичный балл – 35.</p>						

7. Распределение заданий проверочной работы по уровню сложности

В табл. 4 представлена информация о распределении заданий (пунктов заданий) проверочной работы по уровню сложности.

Таблица 4

Уровень сложности заданий	Количество пунктов заданий и заданий ¹	Максимальный первичный балл	Процент максимального первичного балла за выполнение заданий данного уровня сложности от максимального первичного балла за всю работу, равного 35
Базовый	16	27	77
Повышенный	4	8	23
Итого	20/8	35	100

8. Типы заданий, сценарии выполнения заданий

Содержание задания 1 направлено на проверку сформированности представлений об основных этапах географического освоения Земли, знания основных открытий великих путешественников и землепроходцев. Задание состоит из трех частей (пунктов) и проверяет комплекс умений работы с картографической информацией, в частности умения определять и отмечать на карте географические объекты, определять географические координаты, умение применять знание одного из ключевых понятий географии – географическое положение, а также знание географической номенклатуры. Первая часть задания предполагает определение имени путешественника по отмеченному на карте маршруту его экспедиции и указание названия материка (или океана), по территории которого проходит маршрут. Во второй части требуется указать названия объектов, определяющих географическое положение данного материка (или океана). В третьей части задания обучающимся необходимо определить географические координаты одной из точек, лежащей на линии маршрута, и название объекта, на территории которого расположена эта точка.

Задание 2 проверяет умение работать с графической информацией и географической картой и выполняется с использованием профиля рельефа одного из материков и той же карты, что и для задания 1. Предметное содержание задания направлено на проверку уровня сформированности представлений об особенностях рельефа материков Земли. Задание включает в себя три части (пункта). Первая часть задания проверяет умения читать профиль рельефа на основе знания особенностей рельефа материков и сопоставлять его с картой, а также определять расстояния по географическим координатам и проводить расчеты с использованием карты. Вторая часть задания требует знания основной географической номенклатуры и умения определять абсолютные высоты форм рельефа с помощью профиля рельефа. Третья часть задания связана с работой в знаково-символической системе и посвящена проверке умения распознавать условные обозначения полезных ископаемых и фиксировать их.

¹ В связи с тем, что разные пункты некоторых заданий имеют различные уровни сложности, в данной таблице каждый из пунктов заданий учтён как отдельное задание.

Задание 3 проверяет умение использовать графическую интерпретацию климатических показателей для выявления основных географических закономерностей климатов Земли, способность использовать знания о географических закономерностях и устанавливать причинно-следственные связи на основе установления соответствия климата природной зональности. Задание состоит из трех частей (пунктов). Первая часть задания предполагает установление соответствия представленных в задании климатограмм климатическим поясам Земли на основе сопоставления графической информации об особенностях элементов климата, отраженных на климатограммах, с размещением климатических поясов на Земле и знаний об основных географических закономерностях. Вторая часть задания направлена на проверку умения анализировать текстовую информацию для определения природных зон по их характеристикам и выявлять закономерности их размещения в пределах климатических поясов посредством сопоставления текстовой, графической и картографической информации. Результатом выполнения задания должно быть указание природной зоны и выбор соответствующей ей климатограммы. В третьей части задания требуется заполнение таблицы основных климатических показателей, характерных для указанной природной зоны, на основе чтения выбранной климатограммы.

Задание 4 проверяет умения использовать модели и схемы для определения и описания процессов, происходящих в географической оболочке, устанавливать причинно-следственные связи, знание географической терминологии и особенностей природы разных частей Земли. Задание состоит из двух частей. Первая его часть требует определения географического процесса, отображенного в виде модели или схемы. Во второй части необходимо составить последовательность основных этапов данного процесса по их описанию и с помощью сопоставления текстовой информации и иллюстрации.

Задание 5 посвящено проверке знания географических особенностей материков Земли и основной географической номенклатуры, умения работать с графическими формами представления информации. Оно состоит из двух частей (пунктов). В первой части требуется установить соответствие между материками и их географическими особенностями на основе анализа текстовой информации, представленной в формате утверждений, содержащих элементы описания природы и населения материков. Вторая часть задания проверяет знание географической номенклатуры, принадлежность географических объектов материкам, и умение классифицировать географические объекты по типам. В этой части необходимо выявить географические объекты, расположенные на территории одного из материков, и представить ответ в форме заполненной блок-схемы.

Задание 6 направлено на проверку уровня сформированности представлений о неоднородности Земли как планеты в пространстве и во времени, о географическом положении стран мира, знания названий столиц

стран, а также умения выявлять роль планетарных явлений в жизни людей в разных частях Земли. Задание предполагает использование текстовой, картографической и визуальной информации для сопоставления времени в разных городах мира. В задании три части (пункта). В первой части от обучающихся требуется умение выделять на карте крупные страны. Во второй и третьей частях необходимо определить время в столицах этих стран с помощью изображений с использованием результата выполнения первой части задания и на основе знания о закономерностях изменения времени вследствие движения Земли. При этом третья часть задания проверяет умение использовать всю имеющуюся информацию в целях выполнения учебной задачи на основе ее сопоставления и логического рассуждения. Информация, необходимая для выполнения этой части задания, содержится: в формулировке задания б; в иллюстрации ко второму пункту задания; в ответе, полученном при выполнении второго пункта задания.

Задание 7 состоит из двух частей. Оно основано на работе со статистическими данными о населении стран мира, представленными в виде статистической таблицы, и проверяет умения извлекать информацию в соответствии с поставленной задачей и интерпретировать ее в целях сопоставления с информацией, представленной в графической форме (в виде диаграмм и графиков). Тематическое содержание таблиц отражает демографические характеристики стран мира и не является предметом проверки в рамках данного задания.

Задание 8 основано на работе с иллюстративным материалом в виде фотографий и картосхем с изображением контуров стран мира. Задание проверяет сформированность представлений о странах мира, умение устанавливать черты сходства и различия особенностей природы и населения, материальной и духовной культуры регионов и отдельных стран.

Задание состоит из двух частей. В первой части задания обучающимся необходимо определить страну по характерным фотоизображениям, во второй – узнать эту страну по ее очертаниям и названию столицы и ответить на вопрос, касающийся географических особенностей этой страны.

9. Система оценивания выполнения отдельных заданий и проверочной работы в целом

Полный правильный ответ на каждое из заданий 4.1, 6.3, 7.2, 8.1 оценивается 1 баллом. Если в ответе допущена хотя бы одна ошибка (один из элементов ответа записан неправильно или не записан), выставляется 0 баллов.

Полный правильный ответ на каждое из заданий 1.2, 3.1, 4.2, 5.1 и 7.1 оценивается 2 баллами. Если в ответах на задания 1.2, 3.1 допущена одна ошибка (один из элементов ответа записан неправильно или не записан) или в ответах на задания 4.2, 5.1, 7.1 не указана одна необходимая цифра, указана лишняя цифра, или перепутаны местами две цифры, выставляется 1 балл; если допущено две или более ошибки – 0 баллов.

Ответы на задания 1.1, 1.3, 2 (все пункты), 3.2, 3.3, 5.2, 6.1, 6.2, 8.2 оцениваются по критериям.

Максимальный первичный балл за выполнение работы – 35.

Рекомендации по переводу первичных баллов в отметки по пятибалльной шкале

Таблица 5

Отметка по пятибалльной шкале	«2»	«3»	«4»	«5»
Первичные баллы	0–10	11–22	23–30	31–35

10. Время выполнения варианта проверочной работы

На выполнение проверочной работы по учебному предмету «География» дается 45 минут.


11. Описание дополнительных материалов и оборудования, необходимых для проведения проверочной работы

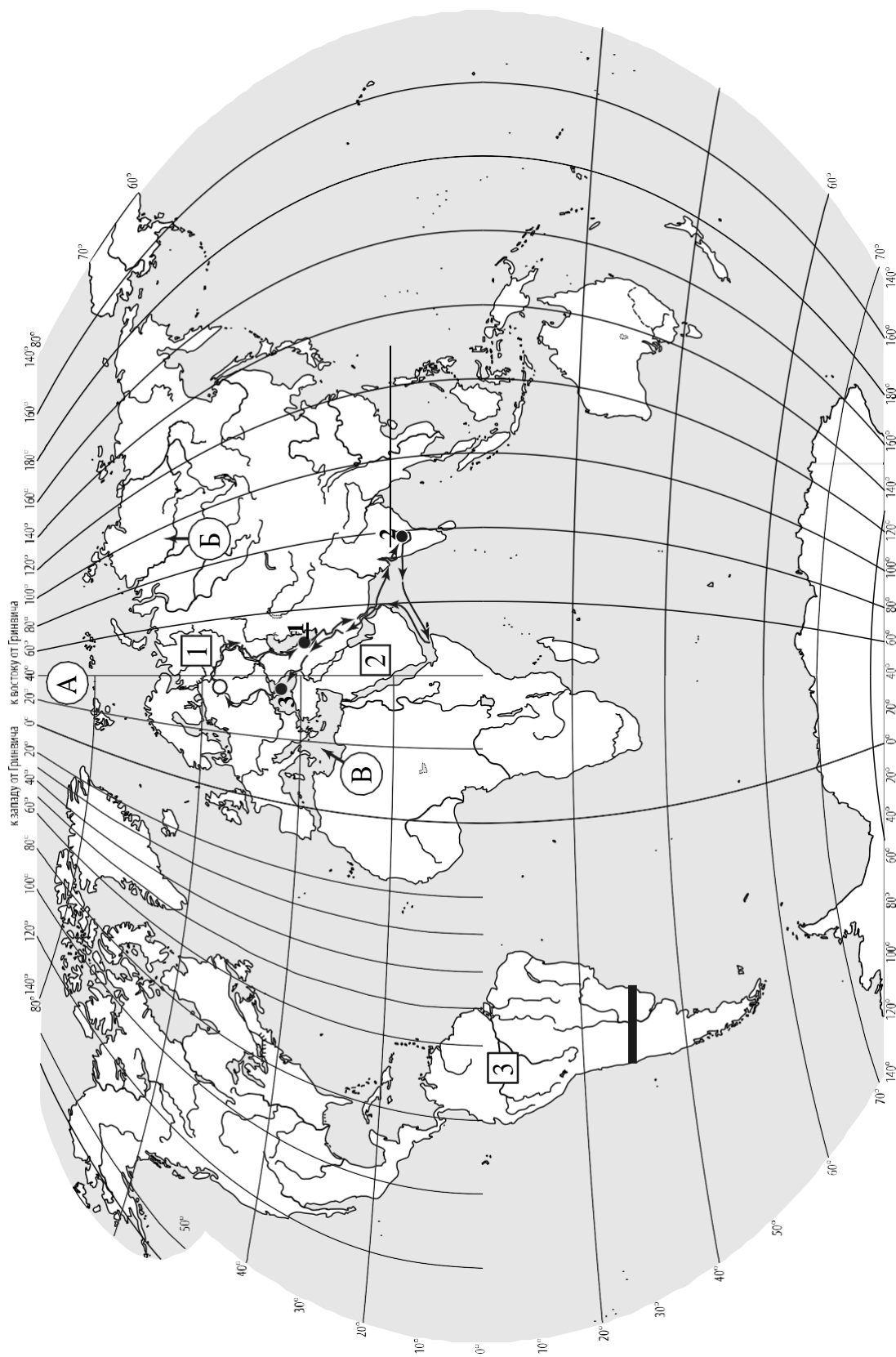
При вычислениях разрешается использовать непрограммируемый калькулятор. Для изображения условных знаков необходимо использовать карандаш.

12. Рекомендации по подготовке к работе

Специальная подготовка к проверочной работе не требуется.

Карта для выполнения заданий

1  3




Задания 1–3 выполняются с использованием карты мира, приведённой на странице 2.

1 На карте мира, приведённой на странице 2, изображён маршрут экспедиции одного из путешественников, портреты которых представлены ниже. Рассмотрите карту и портреты путешественников и выполните задания.

1.1. Маршрут экспедиции кого из путешественников изображён на карте?



Давид Ливингстон



Афанасий Никитин



Н.М. Пржевальский

Ответ. _____

Подпишите на карте название материка, по которому проходил маршрут экспедиции.



1.2. На карте буквами обозначены объекты, определяющие географическое положение материка, по которому проходил маршрут экспедиции. Выберите из приведённого списка и запишите в таблицу названия этих объектов.

*Тихий океан, Средиземное море, Северный полярный круг,
Северный тропик, Чёрное море, Северный Ледовитый океан.*

А	Б	В



1.3. По линии маршрута экспедиции отмечены точки, расположенные на территории крупных географических объектов. Определите и запишите в ответе географические координаты точки 2.

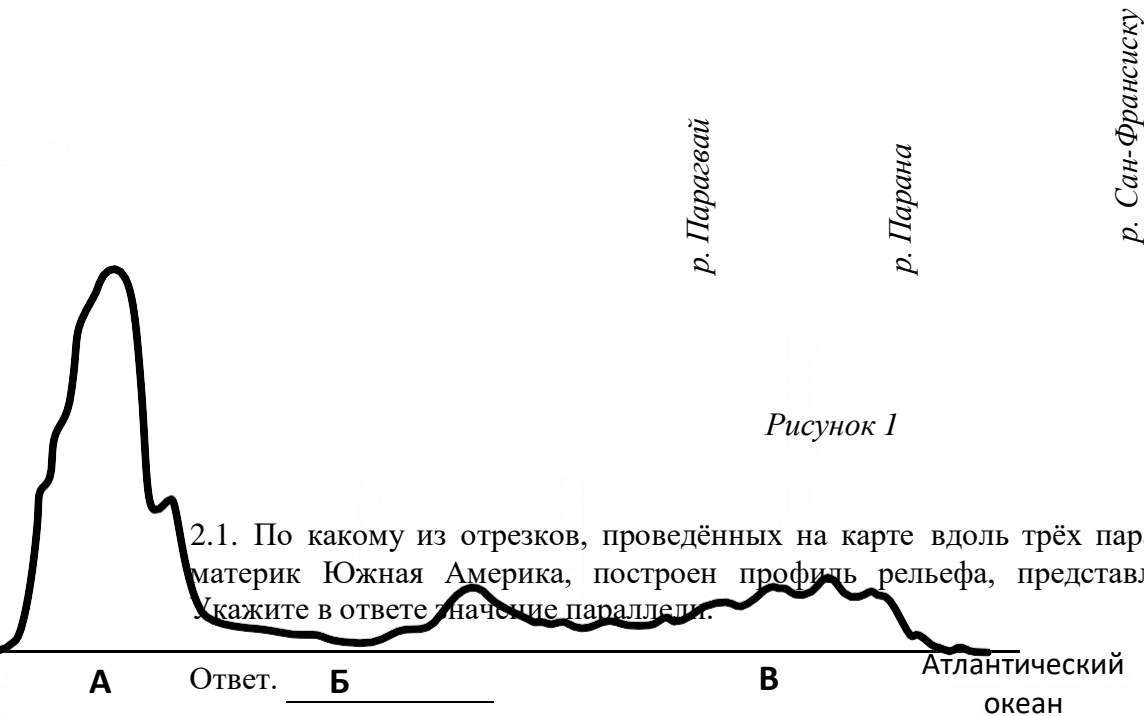
Ответ. _____

На территории какого географического объекта расположена точка 2? Запишите в ответе его название.



Ответ. _____

2 На уроке географии Сергей построил профиль рельефа Южной Америки, представленный на рисунке. Используя рисунок 1 и карту мира, приведённую на странице 2, выполните задания.



2.1. По какому из отрезков, проведённых на карте вдоль трёх параллелей, пересекающих материк Южная Америка, построен профиль рельефа, представленный на рисунке 1? Укажите в ответе значение параллели.

А Ответ. Б

В Атлантический океан

Определите по карте протяжённость материка Южная Америка в градусах по указанной Вами параллели.

Ответ. _____°.

Рассчитайте протяжённость материка Южная Америка по указанной Вами параллели в километрах с помощью приведённой ниже таблицы. (Для расчёта воспользуйтесь калькулятором.)

Широта	0°	10°	20°	30°	40°	50°	60°	70°	80°	90°
Длина дуги параллели в 1°, км	111,3	109,6	104,6	96,5	85,4	71,7	55,8	38,2	19,4	0

Ответ. _____ км.

железные руды	Алмазы	Марганцевые руды	Алюминиевые руды
ВПР. География. 7 кл	с. Образец		

2.2. Какой крупной форме рельефа соответствует участок профиля, обозначенный на рисунке 1 буквой В?

ВПР. География. 7 класс. Образец

- 1) Амазонская низменность
- 2) горы Анды
- 3) Бразильское плоскогорье
- 4) Ла-Платская низменность

Ответ.

Определите наибольшую абсолютную высоту территории, через которую проходит профиль на этом участке.



Ответ. _____ м.

2.3. На рисунке 2 представлены значки, которыми обозначаются месторождения полезных ископаемых на географических картах.




Рисунок 2

Внесите в таблицу значки, обозначающие месторождения полезных ископаемых, которые добывают на территории, обозначенной на профиле буквой В.



3 Рассмотрите карту мира и рисунки с изображением климатограмм, построенных по данным метеонаблюдений в разных частях Земли, и выполните задания.

3.1. На карте мира территории, для которых построены изображённые на рисунках климатограммы, показаны квадратами с соответствующими номерами климатограмм. Определите, какому климатическому поясу соответствует каждая климатограмма. Подпишите названия климатических поясов под соответствующими климатограммами.



3.2. Какой природной зоне мира соответствуют приведённые ниже характеристики? Укажите в ответе название этой природной зоны.

- 1) Занимает большие территории в Северном полушарии (в Северной Америке и Евразии).
- 2) Чётко выражены сезоны года.
- 3) В растительном покрове преобладают хвойные деревья.
- 4) Формируются подзолистые почвы.
- 5) Типичные представители животного мира: бурый медведь, лисица, волк, белка.

Ответ. _____

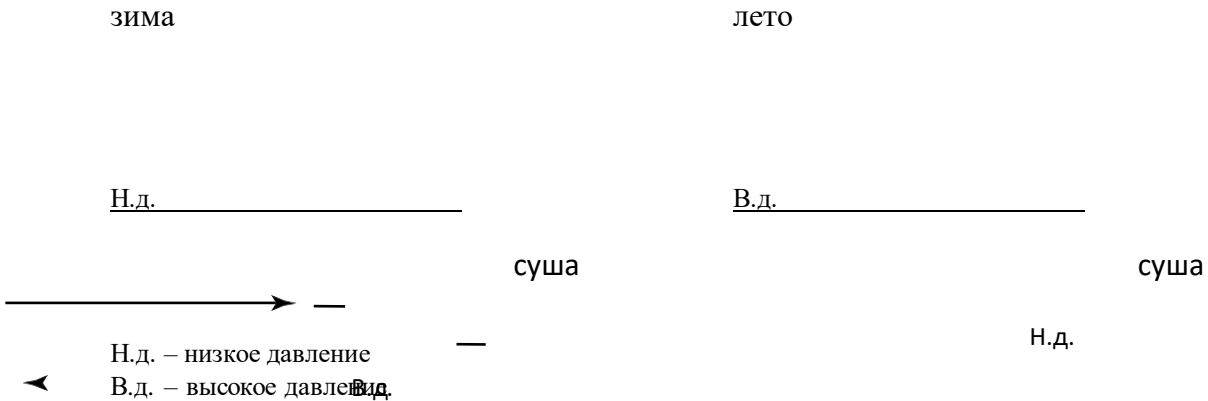
Выберите климатограмму, соответствующую климатическим особенностям указанной Вами природной зоны. Запишите в ответе её номер.

Ответ.

3.3. По выбранной климатограмме заполните таблицу климатических показателей для указанной Вами природной зоны.

Средняя температура воздуха, °C		Годовая амплитуда температур, °C	Годовое количество осадков, мм	Месяц, на который приходится наибольшее количество осадков
в январе	в июле			

4 Рассмотрите схему природного процесса и выполните задания.



4.1. Какой природный процесс отображён на схеме?

Ответ. _____

4.2. Установите последовательность этапов указанного Вами природного процесса в **летний период**. Запишите в ответе **порядковые номера** этапов.

ЭТАПЫ:

- 1) Воздух перемещается из области высокого давления в область низкого давления – с океана в сторону суши.
- 2) Летом суша прогревается сильнее, чем поверхность океана, и лёгкий тёплый воздух поднимается вверх.
- 3) Подъём тёплого воздуха обеспечивает формирование над сушей области пониженного давления.
- 4) Тяжёлый холодный воздух формирует над океаном область повышенного давления.
- 5) Нагревание воздуха над океаном происходит медленнее, чем над сушей, и над поверхностью океана скапливается тяжёлый холодный воздух.

Ответ.

--	--	--	--	--	--

5 5.1. Установите соответствие между материками и их географическими особенностями.

Материки

- А – Северная Америка
- Б – Африка

Географические особенности

- 1) Наибольшую площадь материка занимает природная зона пустынь.
- 2) На западе материка расположена одна из самых крупных горных систем мира.
- 3) К северу от материка расположен один из крупнейших архипелагов мира.
- 4) Недра северной части материка богаты нефтью.
- 5) Для центральной части материка характерны ураганы и атмосферные смерчи – торнадо.
- 6) Восточная часть материка – это современная рифтовая зона с глыбовыми горами и глубочайшими впадинами, многие из которых заняты озёрами.

Запишите в таблицу выбранные цифры под буквами, которыми обозначены материки.



Ответ.

Материк	А	Б
Географические особенности		

2. Заполните блок-схему: для этого по указанным на схеме названиям географических объектов определите и запишите название одного из двух материков, указанных в задании 5.1, а затем выберите из списка названия других географических объектов, расположенных на территории этого материка, запишите их в соответствующие ячейки на схеме и заполните оставшиеся пустые ячейки.

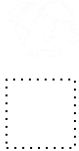
Конго, Ориноко, Ниагара, Виктория, Амур, Анды, Кавказ, Тибести, Байкал, Замбези, Аппалачи, Тибет.




Задание 6 выполняется с использованием политической карты мира, приведённой на странице 11.

6 Томас и Акио познакомились на чемпионате мира по футболу. Акио живёт в столице Японии, а Томас – в столице Германии. Подростки общаются через Интернет, и при общении им приходится учитывать разницу во времени между их городами.

6.1. На политической карте мира, приведённой на странице 11, выделите штриховкой страны, в которых живут подростки.




6.2. Вследствие вращения Земли время различается в разных её частях, и в Японии день наступает раньше, чем в Германии. Часы на рисунках отображают время в городах, где живут подростки. Подпишите названия городов под соответствующими часами.




Время по Гринвичу

24:00 / 00:00 (полночь)



24 мая
01:00

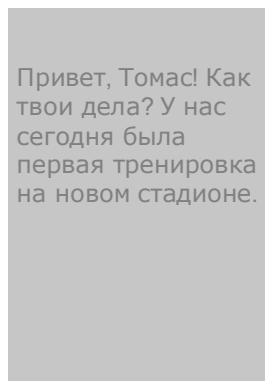
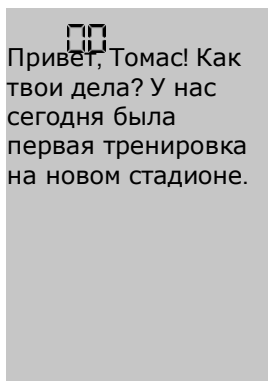


24 мая
09:00

6.3. Акио отправил Томасу электронное сообщение в 11:00 по местному времени.

Акио

Томас



Какое время будет отображаться в соответствующем окне на экране смартфона Томаса, когда он получит сообщение от Акио?

Ответ. _____



7 Используя представленную ниже таблицу, выполните задания.

Численность и возрастной состав населения, 2017 г.

№	Страна	Численность населения, млн человек	Доля населения, %		
			в возрасте до 15 лет	в возрасте от 15 до 65 лет	в возрасте 65 лет и старше
1	Бразилия	211	22	69	9
2	Великобритания	66	17	65	18
3	Нигер	22	49	48	3
4	Япония	126	13	59	28

7.1. Расположите страны в порядке **увеличения** численности населения, начиная со страны с самой маленькой численностью. Запишите в ответе последовательность **порядковых номеров** этих стран.



Ответ.

--	--	--	--

7.2. Возрастной состав населения какой страны отражает представленная на рисунке диаграмма? Запишите в ответе **название** страны.



доля населения в возрасте до 15 лет



доля населения в возрасте от 15 до 65 лет



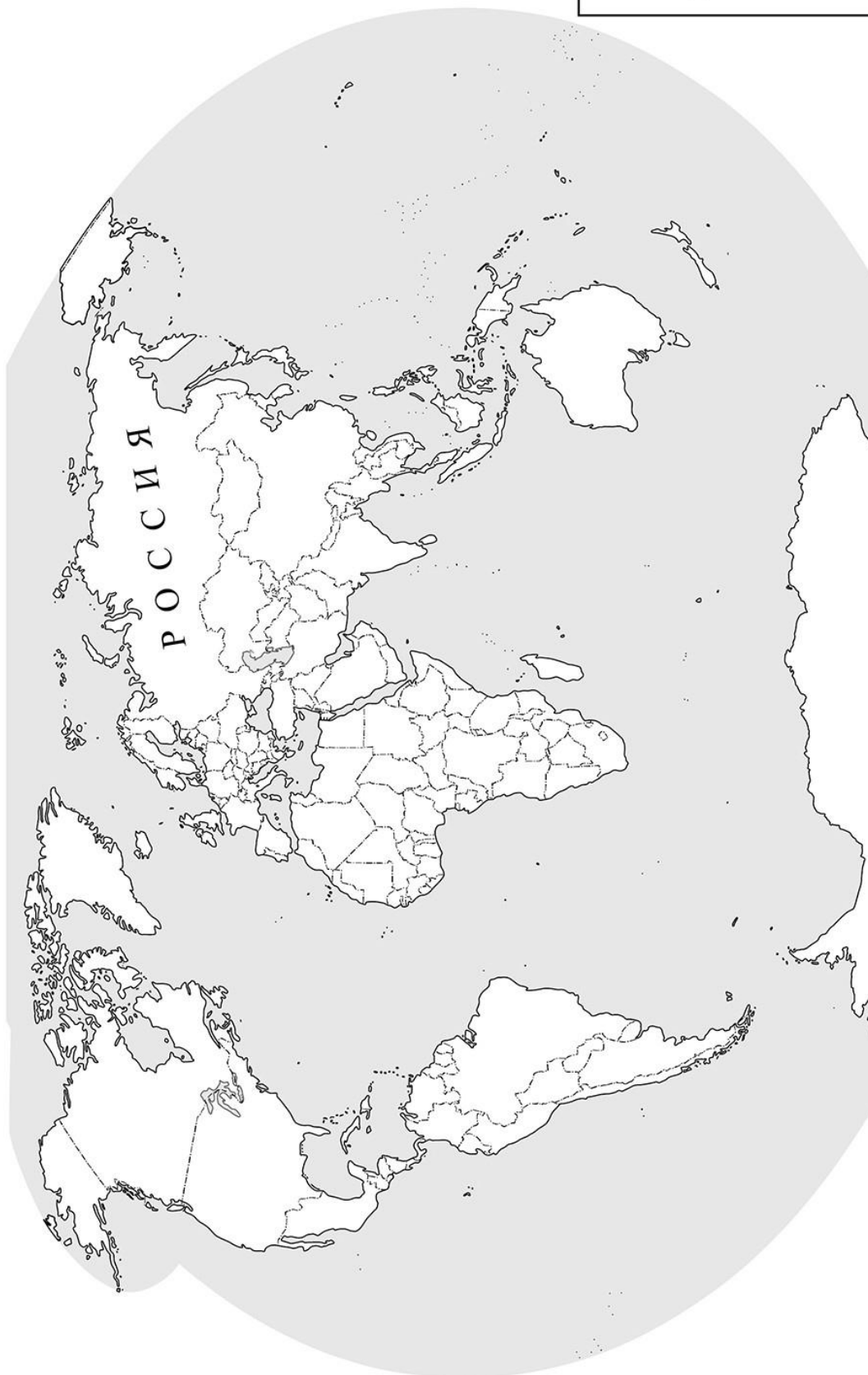
доля населения в возрасте 65 лет и старше



Ответ. _____



Карта для выполнения задания 6



Государственные границы стран мира даны по состоянию на 01.01.2022 г.

8 Представьте, что Вы познакомились со своим сверстником, который живёт за границей, и он прислал Вам фотографии, сделанные в его стране.

8.1. Рассмотрите фотографии и ответьте на вопрос.

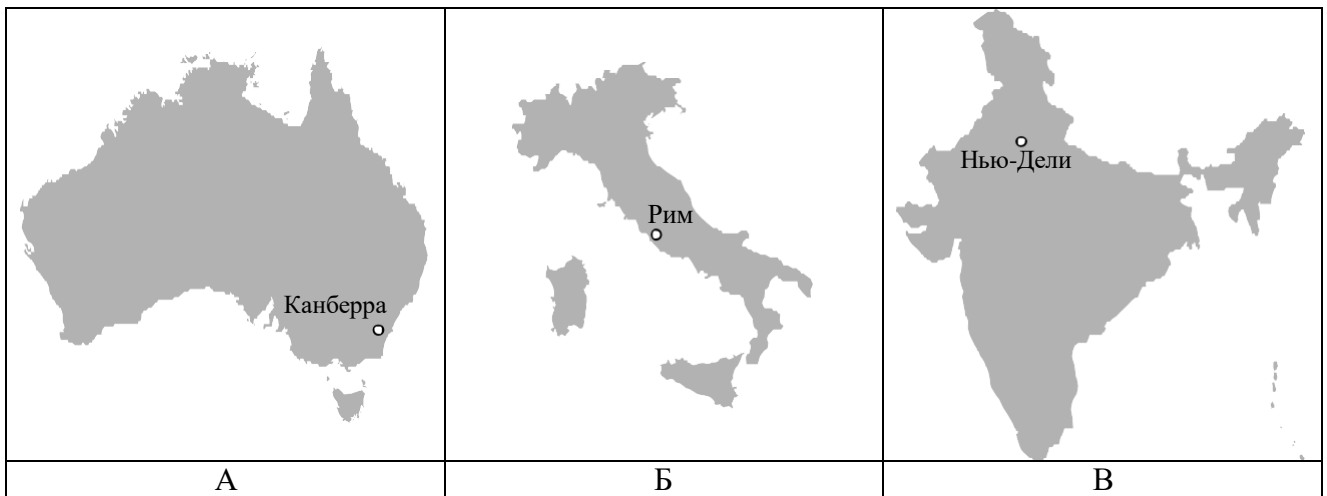


В какой стране живёт Ваш сверстник?



Ответ. _____

8.2. Рассмотрите представленные ниже рисунки. Выберите рисунок с контуром страны, в которой живёт Ваш сверстник. Запишите в ответе букву, которой обозначен этот рисунок.



Ответ.

В какой части света находится эта страна?



Ответ. _____

Система оценивания проверочной работы

Полный правильный ответ на каждое из заданий 4.1, 6.3, 7.2, 8.1 оценивается 1 баллом. Если в ответе допущена хотя бы одна ошибка (один из элементов ответа записан неправильно или не записан), выставляется 0 баллов.

Полный правильный ответ на каждое из заданий 1.2, 3.1, 4.2, 5.1 и 7.1 оценивается 2 баллами. Если в ответах на задания 1.2, 3.1 допущена одна ошибка (один из элементов ответа записан неправильно или не записан) или в ответах на задания 4.2, 5.1, 7.1 не указана одна необходимая цифра, указана лишняя цифра, или перепутаны местами две цифры, выставляется 1 балл; если допущено две или более ошибки – 0 баллов.


Номер задания	Правильный ответ
1.2	А – Северный Ледовитый океан Б – Северный полярный круг В – Средиземное море
3.1	1 – умеренный 2 – тропический 3 – экваториальный
4.1	образование муссона
4.2	23541 <i>Если за выполнение задания 4.1 выставлено 0 баллов, результат выполнения данного задания не засчитывается</i>
5.1	А – 235 (в любой последовательности) Б – 146 (в любой последовательности)
6.3	03:00
7.1	3241
7.2	Великобритания
8.1	в Италии

- 1 На карте мира, приведённой на странице 2, изображён маршрут экспедиции одного из путешественников, портреты которых представлены ниже. Рассмотрите карту и портреты путешественников и выполните задания.

1.1. Маршрут экспедиции кого из путешественников изображён на карте?



Давид Ливингстон



Афанасий Никитин



Н.М. Пржевальский

Подпишите на карте название материка, по которому проходил маршрут экспедиции.

Содержание верного ответа и указания по оцениванию	Баллы
Правильный ответ должен содержать следующие э <u>лементы</u> : 1) указание <u>путешественника</u> : Афанасий Никитин; 2) подпись <u>названия материка на карте</u> : Евразия	
Правильно указан путешественник, подписан материк	2
Правильно указан путешественник; название материка на карте не подписано / подписано неправильно	1
Путешественник не указан / указан неправильно независимо от подписи названия материка на карте. ИЛИ Ответ неправильный	0
<i>Максимальный балл</i>	2

1.3. По линии маршрута экспедиции отмечены точки, расположенные на территории крупных географических объектов. Определите и запишите в ответе географические координаты точки 2.

На территории какого географического объекта расположена точка 2? Запишите в ответе его название.

Содержание верного ответа и указания по оцениванию	Баллы
Правильный ответ должен содержать <u>два элемента</u> : 1) <u>координаты точки</u> : 18° с.ш. 79° в.д. (<i>допускается погрешность ±1°</i>); 2) <u>название географического объекта</u> : полуостров Индостан	
Правильно указаны координаты точки и название географического объекта	2
Правильно указаны координаты точки, название географического объекта не указано / указано неправильно	1
Координаты точки не указаны / указаны неправильно независимо от указания названия географического объекта. ИЛИ Ответ неправильный	0
<i>Максимальный балл</i>	2

- 2 На уроке географии Сергей построил профиль рельефа Южной Америки, представленный на рисунке. Используя рисунок 1 и карту мира, приведённую на странице 2, выполните задания.

2.1. По какому из отрезков, проведённых на карте вдоль трёх параллелей, пересекающих материк Южная Америка, построен профиль рельефа, представленный на рисунке 1? Укажите в ответе значение параллели.

Определите по карте протяжённость материка Южная Америка **в градусах** по указанной Вами параллели.

Рассчитайте протяжённость материка Южная Америка по указанной Вами параллели **в километрах** с помощью приведённой ниже таблицы. (Для расчёта воспользуйтесь калькулятором.)

Широта	0°	10°	20°	30°	40°	50°	60°	70°	80°	90°
Длина дуги параллели в 1°, км	111,3	109,6	104,6	96,5	85,4	71,7	55,8	38,2	19,4	0

Содержание верного ответа и указания по оцениванию	Баллы
Правильный ответ должен содержать <u>три элемента</u> : 1) <u>значение параллели</u> : 20° ю.ш.; 2) <u>протяжённость материка в градусах</u> : 30° (допускается погрешность $\pm 2^\circ$); 3) <u>протяжённость материка в километрах</u> : 3138 км (допускается соответствующая погрешность в километрах)	
Правильно указаны значение параллели, протяжённость материка в градусах и протяжённость материка в километрах	2
Правильно указаны значение параллели и протяжённость материка в градусах, протяжённость материка в километрах не указана / указана неправильно	1
Правильно указано только значение параллели; протяжённость материка в градусах и протяжённость материка в километрах не указаны / указаны неправильно. Значение параллели не указано / указано неправильно независимо от указания двух других элементов ответа. ИЛИ Ответ неправильный	0
<i>Максимальный балл</i>	2

2.2. Какой крупной форме рельефа соответствует участок профиля, обозначенный на рисунке 1 буквой В?

Определите наибольшую абсолютную высоту территории, через которую проходит профиль на этом участке.

Содержание верного ответа и указания по оцениванию	Баллы
Правильный ответ должен содержать <u>два элемента</u> : 1) <u>указание формы рельефа</u> : 3; 2) <u>абсолютная высота территории</u> : 1000 м	
Правильно указана форма рельефа и определена абсолютная высота территории	2
Правильно указана форма рельефа; абсолютная высота территории не определена / определена неправильно	1
Форма рельефа не указана / указана неправильно независимо от определения абсолютной высоты территории. ИЛИ Ответ неправильный	0
<i>Максимальный балл</i>	2

2.3. На рисунке 2 представлены значки, которыми обозначаются месторождения полезных ископаемых на географических картах.

Внесите в таблицу значки, обозначающие месторождения полезных ископаемых, которые добывают на территории, обозначенной на профиле буквой В.

Содержание верного ответа и указания по оцениванию	Баллы								
Правильный ответ должен содержать <u>таблицу</u> с внесёнными в неё значками полезных ископаемых:									
<table border="1" style="width: 100%; border-collapse: collapse;"> <tr> <td style="width: 25%;">Железные руды</td> <td style="width: 25%;">Алмазы</td> <td style="width: 25%;">Марганцевые руды</td> <td style="width: 25%;">Алюминиевые руды</td> </tr> <tr> <td style="height: 20px;"></td> <td></td> <td></td> <td></td> </tr> </table>	Железные руды	Алмазы	Марганцевые руды	Алюминиевые руды					
Железные руды	Алмазы	Марганцевые руды	Алюминиевые руды						
Правильно заполнены четыре ячейки таблицы	2								
Правильно заполнены три ячейки таблицы	1								
Правильно заполнены одна-две ячейки таблицы. ИЛИ Все ячейки таблицы заполнены неправильно / не заполнены	0								
<i>Максимальный балл</i>	2								

3 3.2. Какой природной зоне мира соответствуют приведённые ниже характеристики? Укажите в ответе название этой природной зоны.

- 1) Занимает большие территории в Северном полушарии (в Северной Америке и Евразии).
- 2) Чётко выражены сезоны года.
- 3) В растительном покрове преобладают хвойные породы деревьев.
- 4) Формируются подзолистые почвы.
- 5) Типичные представители животного мира: бурый медведь, лисица, волк, белка.

Выберите климатограмму, соответствующую климатическим особенностям указанной Вами природной зоны. Запишите в ответе её номер.

Содержание верного ответа и указания по оцениванию	Баллы
Правильный ответ должен содержать <u>два элемента</u> : 1) <u>название природной зоны</u> : тайга; 2) <u>номер климатограммы</u> : 1	
Правильно указаны название природной зоны и номер климатограммы	2
Правильно указано название природной зоны; номер климатограммы не указан / указан неправильно	1
Название природной зоны не указано / указано неправильно независимо от указания номера климатограммы. ИЛИ Ответ неправильный	0
<i>Максимальный балл</i>	2


3.3. По выбранной климатограмме заполните таблицу климатических показателей для указанной Вами природной зоны.

Содержание верного ответа и указания по оцениванию					Баллы
Правильный ответ должен содержать <u>заполненную таблицу</u> :					
Средняя температура воздуха, °С		Годовая амплитуда температур, °С	Годовое количество осадков, мм	Месяц, на который приходится наибольшее количество осадков	
в январе	в июле				
-15	+15	30	545	август	
<i>При определении температуры воздуха допускается погрешность ± 1 °С. Если в ответе на задание 3.2 номер климатограммы не указан / указан неправильно, то результат выполнения данного задания не засчитывается</i>					
Правильно заполнены все ячейки таблицы					2
В таблице допущена одна ошибка					1
В таблице допущено две или более ошибки. ИЛИ Ответ неправильный					0
<i>Максимальный балл</i>					2

5

5.2. Заполните блок-схему: для этого по указанным на схеме названиям географических объектов определите и запишите название одного из двух материков, указанных в задании 5.1, а затем выберите из списка названия других географических объектов, расположенных на территории этого материка, запишите их в соответствующие ячейки на схеме и заполните оставшиеся пустые ячейки.

Конго, Ориноко, Ниагара, Виктория, Амур, Анды, Кавказ, Тибести, Байкал, Замбези, Аппалачи, Тибет.

Содержание верного ответа и указания по оцениванию	Баллы
<p>Правильный ответ должен содержать <u>заполненную схему</u> с вписанными в неё названием материка, типами и названиями географических объектов.</p> 	
Схема заполнена правильно	3
В заполнении схемы допущена одна ошибка	2
В заполнении схемы допущено две ошибки	1
В заполнении схемы допущено три или более ошибки. ИЛИ Ответ неправильный	0
<i>Максимальный балл</i>	3

- 6 Томас и Акио познакомились на з столице
Японии, а Томас – в столице Гер т, и при
общении им приходится учитывать

6.1. На политической карте мира триховкой

Содержание верного ответа и указания по оцениванию

Баллы

Правильный ответ должен содержать выделение на карте двух стран: Японии и Германии

Правильно выделены две страны

1

Правильно выделена только одна любая страна; вторая страна не выделена / выделена неправильно.

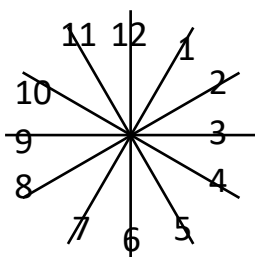
0

ИЛИ Страны не выделены / выделены неправильно

Максимальный балл

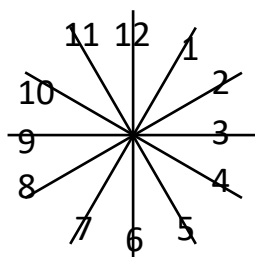
1

6.2. Вследствие вращения Земли в разных её частях время различается, и в Яп наступает раньше, чем в Германии. Часы на рисунках отображают время в городах, где живут подростки. Подпишите названия городов под соответствующими часами.



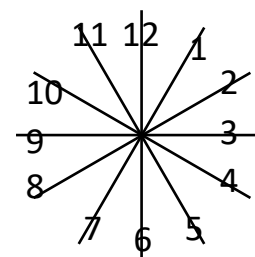
Время по Гринвичу

24:00 / 00:00 (полночь)



Берлин

24 мая
01:00



Токио

24 мая
09:00

Содержание верного ответа и указания по оцениванию

Баллы

Правильный ответ должен содержать подписи названий двух городов: Берлина (столицы Германии) и Токио (столицы Японии)

Правильно подписаны названия двух городов

1

Правильно подписано название только одного любого города; название второго города не подписано / подписано неправильно.

0

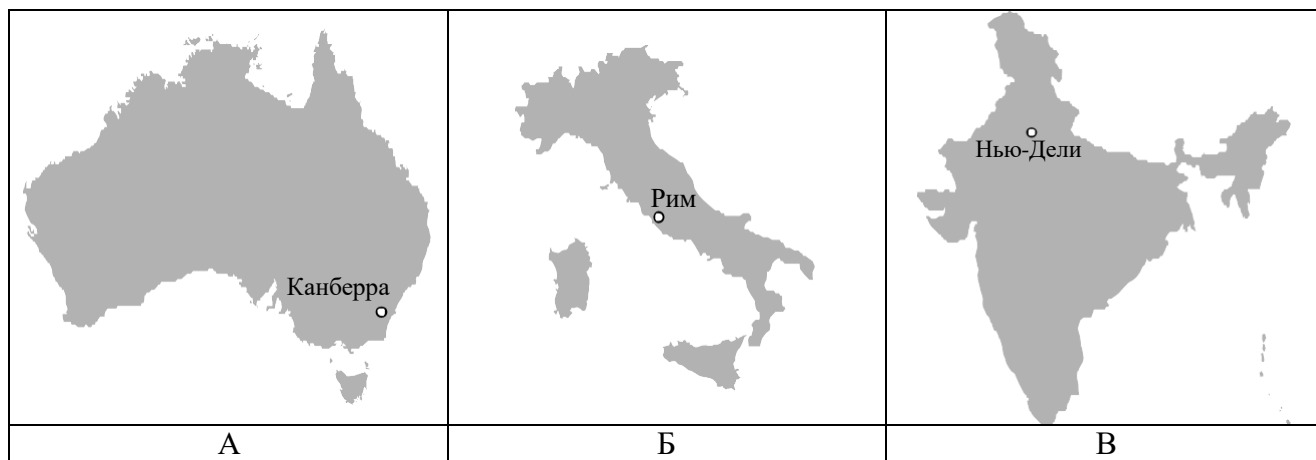
ИЛИ Названия городов не подписаны / подписаны неправильно

Максимальный балл

1

- 8 8.2. Рассмотрите представленные ниже рисунки. Выберите рисунок с контуром страны, в которой живёт Ваш сверстник. Запишите в ответе букву, которой обозначен этот рисунок.

В какой части света находится эта страна?



Содержание верного ответа и указания по оцениванию	Баллы
Правильный ответ должен содержать <u>два</u> элемента: 1) <u>указание рисунка</u> с контуром страны: Б; 2) <u>ответ на вопрос</u> : в Европе <i>Если за выполнение задания 8.1 выставлено 0 баллов, результат выполнения данного задания не засчитывается</i>	
Правильно указан рисунок и дан ответ на вопрос	2
Правильно указан только рисунок, ответ на вопрос не дан / дан неправильно	1
Рисунок не указан / указан неправильно независимо от ответа на вопрос. ИЛИ Ответ неправильный	0
<i>Максимальный балл</i>	2

Система оценивания выполнения всей работы

Максимальный первичный балл за выполнение работы – 35.

Рекомендации по переводу первичных баллов в отметки по пятибалльной шкале

Отметка по пятибалльной шкале	«2»	«3»	«4»	«5»
Первичные баллы	0–10	11–22	23–30	31–35

ВПР. География. 8 класс.

Всероссийские проверочные работы
2023 год

Описание
контрольных измерительных материалов
для проведения в 2023 году проверочной работы
по ГЕОГРАФИИ

8 класс

**Описание контрольных измерительных материалов
для проведения в 2023 году проверочной работы
по ГЕОГРАФИИ**

8 класс

1. Назначение всероссийской проверочной работы

Всероссийские проверочные работы (ВПР) проводятся в целях осуществления мониторинга результатов перехода на ФГОС и направлены на выявление качества подготовки обучающихся.

Назначение ВПР по учебному предмету «География» – оценить качество общеобразовательной подготовки обучающихся 8 классов в соответствии с требованиями ФГОС. КИМ ВПР позволяют осуществить диагностику достижения предметных и метапредметных результатов обучения, в том числе овладение межпредметными понятиями и способность использования универсальных учебных действий (УУД) в учебной, познавательной и социальной практике. Результаты ВПР в совокупности с имеющейся в общеобразовательной организации информацией, отражающей индивидуальные образовательные траектории обучающихся, могут быть использованы для оценки личностных результатов обучения.

Результаты ВПР могут быть использованы общеобразовательными организациями для совершенствования методики преподавания географии в процессе обучения предмету, муниципальными и региональными органами исполнительной власти, осуществляющими государственное управление в сфере образования, для анализа текущего состояния муниципальных и региональных систем образования и формирования программ их развития.

Не предусмотрено использование результатов ВПР для оценки деятельности общеобразовательных организаций, учителей, муниципальных и региональных органов исполнительной власти, осуществляющих государственное управление в сфере образования.

2. Документы, определяющие содержание проверочной работы

Содержание и структура проверочной работы определяются на основе Федерального государственного образовательного стандарта основного общего образования (приказ Минобрнауки России от 17.12.2010 № 1897) с учетом Примерной основной образовательной программы основного общего образования (одобрена решением Федерального учебно-методического объединения по общему образованию (протокол от 08.04.2015 № 1/15 (в редакции протокола № 1/20 от 04.02.2020)) и содержания учебников, включенных в Федеральный перечень.

3. Подходы к отбору содержания, разработке структуры варианта проверочной работы

Всероссийские проверочные работы основаны на системно-деятельностном, компетентностном и уровневом подходах.

В рамках ВПР наряду с предметными результатами обучения учеников основной школы оцениваются также метапредметные результаты, в том числе уровень сформированности универсальных учебных познавательных, коммуникативных и регулятивных действий (УУД) и овладения межпредметными понятиями.

КИМ ВПР направлены на проверку сформированности у обучающихся:

- предметных географических умений в работе с картографическими, статистическими, иллюстративными, графическими и текстовыми источниками информации, умений обобщать, анализировать и оценивать информацию в целях интерпретации данных;

- видов деятельности по получению нового географического знания, преобразованию и применению знания в учебных и учебно-проектных ситуациях;

- географического типа мышления, научных представлений, владения научной географической терминологией, ключевыми географическими понятиями, методами и приемами.

4. Структура варианта проверочной работы

Вариант проверочной работы включает в себя 7 комплексных заданий, каждое из которых в свою очередь состоит из двух-трех частей (пунктов), объединенных единым содержанием. С учетом всех пунктов вариант работы включает в себя 7 заданий из 18 пунктов.

Задания различаются не только по содержанию, но и по характеру решаемых обучающимися задач, и проверяют умение обучающихся работать с различными источниками географической информации (картами, фотографиями, таблицами, текстами, схемами, графиками и иными условно-графическими объектами). При этом каждый пункт каждого задания направлен на проверку того или иного из вышеуказанных умений.

С учетом времени, отведенного на выполнение работы, задания ориентированы преимущественно на краткий ответ в виде записи слов или словосочетаний, последовательности цифр, чисел, а также ответ, зафиксированный на контурной карте, и в форме заполненной таблицы или блок-схемы.

Задания 2, 3, 4, 5, 6 выполняются с использованием географических карт, приведенных в варианте проверочной работы.

5. Кодификаторы проверяемых элементов содержания и требований к уровню подготовки

В табл. 1 приведен кодификатор проверяемых элементов содержания.

Таблица 1

Код	Проверяемые элементы содержания
1	Особенности географического положения России
1.1	Территория и акватория, морские и сухопутные границы
1.2	Часовые пояса
1.3	Административно-территориальное устройство России
2	Природа России
2.1	Особенности геологического строения и распространения крупных форм рельефа
2.2	Типы климатов, факторы их формирования, климатические пояса. Климат и хозяйственная деятельность людей. Многолетняя мерзлота
2.3	Внутренние воды и водные ресурсы, особенности их размещения на территории страны. Моря России
2.4	Растительный и животный мир России. Почвы. Природные зоны. Высотная поясность
3	Население России
3.1	Численность, естественное движение населения
3.2	Половой и возрастной состав населения
3.3	Размещение населения. Основная полоса расселения. Миграции
3.4	Народы и основные религии России
3.5	Городское и сельское население

В табл. 2 приведен кодификатор проверяемых требований к уровню подготовки.

Таблица 2

Код	Проверяемые требования к уровню подготовки
1	Метапредметные
1.1	Умения определять понятия, создавать обобщения, устанавливать аналогии, классифицировать, самостоятельно выбирать основания и критерии для классификации
1.2	Умения устанавливать причинно-следственные связи, строить логическое рассуждение, умозаключение (индуктивное, дедуктивное и по аналогии) и делать выводы
1.3	Умения создавать, применять и преобразовывать знаки и символы, модели и схемы для решения учебных и познавательных задач
1.4	Смысловое чтение
1.5	Умение осознанно использовать речевые средства в соответствии с задачами коммуникации для выражения своих мыслей, планирования своей деятельности, формулирования и аргументации своего мнения; владение письменной речью
1.6	Умение применять географическое мышление в познавательной, коммуникативной и социальной практике
1.7	Умение оценивать правильность выполнения учебной задачи, собственные возможности ее решения
1.8	Владение основами самоконтроля, самооценки, принятия решений и осуществления осознанного выбора в учебной и познавательной деятельности

2		Предметные
	2.1	Первичные компетенции использования территориального подхода как основы географического мышления, владение понятийным аппаратом географии
	2.2	Умения: ориентироваться в источниках географической информации: находить и извлекать необходимую информацию; определять и сравнивать качественные и количественные показатели, характеризующие географические объекты, процессы и явления, их положение в пространстве; выявлять недостающую и/или взаимодополняющую географическую информацию, представленную в одном или нескольких источниках; представлять в различных формах географическую информацию, необходимую для решения учебных и практико-ориентированных задач
	2.3	Умения использовать источники географической информации для решения различных задач: выявление географических зависимостей и закономерностей; объяснение географических явлений и процессов; расчет количественных показателей, характеризующих географические объекты, явления и процессы; сопоставление, сравнение и/или оценка географической информации
	2.4	Умения: различать изученные географические объекты, процессы и явления; сравнивать географические объекты, процессы и явления на основе известных характерных свойств и проводить их простейшую классификацию; описывать положение и взаиморасположение географических объектов
	2.5	Способность использовать знания о географических законах и закономерностях, о взаимосвязях между изученными географическими объектами, процессами и явлениями для объяснения их свойств, условий протекания и различий, а также знания о мировом, зональном, летнем и зимнем времени для решения практико-ориентированных задач по определению различий в пояском времени территорий в контексте реальной жизни
	2.6	Умения различать географические процессы и явления, определяющие особенности компонентов природы отдельных территорий, оценивать характер и особенности взаимодействия деятельности человека и компонентов природы в разных географических условиях, приводить примеры взаимодействия природы и общества в пределах отдельных территорий, давать характеристику компонентов природы своего региона
	2.7	Способность использовать знания о населении и взаимосвязях между изученными демографическими процессами и явлениями для решения различных учебных и практико-ориентированных задач, а также различать (распознавать) демографические процессы и явления, характеризующие демографическую ситуацию в России и отдельных регионах

6. Распределение заданий проверочной работы по позициям кодификаторов

Распределение заданий по позициям кодификаторов приведено в табл. 3.

Таблица 3

№ п/п	Проверяемые элементы содержания	Проверяемые требования (умения)	Код КЭС/КТ	Уровень сложности	Максимальный балл за выполнение задания	Примерное время выполнения задания обучающимся (в минутах)
1	Особенности географического положения России. Территория и акватория, морские и сухопутные границы	Умения устанавливать причинно-следственные связи, строить логическое рассуждение. Умения создавать, применять и преобразовывать знаки и символы, модели и схемы для решения учебных и познавательных задач. Первичные компетенции использования территориального подхода как основы географического мышления, владение понятийным аппаратом географии. Умения ориентироваться в источниках географической информации, выявлять взаимодополняющую географическую информацию. Умения различать и сравнивать изученные географические объекты, описывать положение и взаиморасположение географических объектов	1.1/ 1.2, 1.3, 2.1, 2.2, 2.4	Б Б	3 1	4
2	Особенности географического положения России. Территория и акватория, морские и сухопутные границы	Умения определять понятия, создавать обобщения, устанавливать аналогии. Умения: ориентироваться в источниках географической информации; определять и сравнивать качественные и количественные показатели, характеризующие географические объекты, их положение в пространстве. Умения использовать источники географической информации для решения различных задач: выявление географических зависимостей и закономерностей; расчет количественных показателей, характеризующих географические объекты, сопоставление географической информации. Умение различать изученные географические объекты	1.1/ 1.1, 2.2, 2.3, 2.4	Б Б	2 2	8
3	Природа России. Особенности геологического строения и распространения крупных форм рельефа	Умения определять понятия, создавать обобщения, устанавливать аналогии, классифицировать. Умения устанавливать причинно-следственные связи, строить логическое рассуждение. Смысловое чтение. Первичные компетенции использования территориального подхода как основы географического мышления, владение понятийным аппаратом географии.	2.1/ /1.1, 1.2, 1.4, 2.1, 2.2, 2.4	Б Б Б	2 2 2	5

		<p>Умения: ориентироваться в источниках географической информации: находить и извлекать необходимую информацию; определять и сравнивать качественные и количественные показатели, характеризующие географические объекты, процессы и явления, их положение в пространстве; выявлять взаимодополняющую географическую информацию, представленную в одном или нескольких источниках.</p> <p>Умения: различать изученные географические объекты, процессы и явления; сравнивать географические объекты, процессы и явления на основе известных характерных свойств</p>				
4	Природа России. Внутренние воды и водные ресурсы, особенности их размещения на территории страны. Моря России	<p>Умения определять понятия, создавать обобщения, устанавливать аналогии, классифицировать.</p> <p>Умения устанавливать причинно-следственные связи, строить логическое рассуждение, умозаключение и делать выводы.</p> <p>Смысловое чтение.</p> <p>Первичные компетенции использования территориального подхода как основы географического мышления, владение понятийным аппаратом географии.</p> <p>Умения ориентироваться в источниках географической информации: находить и извлекать необходимую информацию; определять и сравнивать качественные и количественные показатели, характеризующие географические объекты, их положение в пространстве; выявлять недостающую и/или взаимодополняющую географическую информацию, представленную в одном или нескольких источниках.</p> <p>Умения использовать источники географической информации для решения различных задач: выявление географических зависимостей и закономерностей; расчет количественных показателей, характеризующих географические объекты.</p> <p>Умение различать изученные географические объекты</p>	2.3/ /1.1,1.2, 1.4, 2.1–2.4	Б П П	2 2 2	8
5	Природа России. Типы климатов, факторы их формирования, климатические пояса.	<p>Умения определять понятия, создавать обобщения, устанавливать аналогии, классифицировать.</p> <p>Умения устанавливать причинно-следственные связи, строить логическое рассуждение.</p>	2.2/ 1.1, 1.2, 1.4, 2.1–2.5	Б Б П	1 2 2	7

	Климат и хозяйственная деятельность людей	<p>Смысловое чтение.</p> <p>Первичные компетенции использования территориального подхода как основы географического мышления, владение понятийным аппаратом географии.</p> <p>Умения: находить и извлекать необходимую информацию; определять и сравнивать качественные и количественные показатели, характеризующие географические объекты, процессы и явления, их положение в пространстве; представлять в различных формах географическую информацию.</p> <p>Умение использовать источники географической информации для решения различных задач: выявление географических зависимостей и закономерностей; сопоставление географической информации.</p> <p>Умения: различать изученные географические объекты, процессы и явления; сравнивать географические объекты, процессы и явления на основе известных характерных свойств.</p> <p>Способность использовать знания о географических законах и закономерностях, о взаимосвязях между изученными географическими объектами, процессами и явлениями для объяснения их свойств</p>				
6	Административно-территориальное устройство России. Часовые пояса. Растительный и животный мир России. Почвы. Природные зоны. Высотная поясность	<p>Умения определять понятия, создавать обобщения, устанавливать аналогии, классифицировать.</p> <p>Умения устанавливать причинно-следственные связи, строить логическое рассуждение.</p> <p>Смысловое чтение.</p> <p>Умение применять географическое мышление в познавательной практике.</p> <p>Первичные компетенции использования территориального подхода как основы географического мышления, владение понятийным аппаратом географии.</p> <p>Умения ориентироваться в источниках географической информации: находить и извлекать необходимую информацию; определять и сравнивать качественные и количественные показатели, характеризующие географические объекты, процессы и явления; представлять в различных формах географическую информацию.</p> <p>Умение использовать источники географической информации для решения различных задач.</p> <p>Способность использовать знания о географических законах и</p>	1.2, 1.3, 2.4/ 1.1, 1.2, 1.4, 1.6, 2.1–2.3, 2.5, 2.6	П Б Б	2 1 1	8

		закономерностях, а также о мировом, зональном, летнем и зимнем времени для решения практико-ориентированных задач по определению различий в поясном времени территорий в контексте реальной жизни. Умения различать географические процессы и явления, определяющие особенности компонентов природы отдельных территорий, оценивать характер и особенности взаимодействия деятельности человека и компонентов природы в разных географических условиях				
7	Население России	Умения устанавливать причинно-следственные связи, строить логическое рассуждение, умозаключение и делать выводы. Умения ориентироваться в источниках географической информации: находить и извлекать необходимую информацию; определять и сравнивать качественные и количественные показатели, характеризующие географические объекты, процессы и явления. Умения использовать источники географической информации для выявления географических зависимостей и закономерностей. Способность использовать знания о населении и взаимосвязях между изученными демографическими процессами и явлениями для решения различных учебных и практико-ориентированных задач, а также различать (распознавать) демографические процессы и явления, характеризующие демографическую ситуацию в России и отдельных регионах	3.1–3.5/ 1.2, 2.2, 2.3, 2.7	Б Б	2 2	5
<p>Всего заданий – 7 /18 (с учетом пунктов заданий), из них пунктов по уровню сложности: Б – 14; П – 4. Время выполнения проверочной работы – 45 мин. Максимальный первичный балл – 33</p>						

7. Распределение заданий проверочной работы по уровню сложности

В табл. 4 представлена информация о распределении заданий (пунктов заданий) проверочной работы по уровню сложности.

Таблица 4

Уровень сложности заданий	Количество пунктов заданий и заданий ¹	Максимальный первичный балл	Процент максимального первичного балла за выполнение заданий данного уровня сложности от максимального первичного балла за всю работу, равного 33
Базовый	14	25	76
Повышенный	4	8	24
Итого	18/7	33	100

8. Типы заданий, сценарии выполнения заданий

Задания 1 и 2 основываются на знании географического положения России и умении применять его для решения конкретных задач.

Задание 1 направлено на проверку сформированности представления о граничащих с Россией странах, их положение по отношению к территории России и особенностях границ. Задание проверяет умение работать с иллюстративной и графической информацией, применять модели и схемы, различать географические объекты. Задание состоит из двух частей (пунктов). Первая часть задания проверяет умение определять граничащие с Россией страны по их очертаниям и указывать их расположение на картосхеме. При этом в одних вариантах ВПР требуется определить страны по рисункам с их очертаниями и указанными столицами, в других – определить названия столиц стран, контуры которых представлены на рисунках с указанием названий стран. Результатом выполнения этой части задания являются соответствующие подписи названий стран-соседей или столиц стран-соседей России под рисунками и картосхема с указанием расположения этих стран относительно территории России. Вторая часть задания ориентирована на проверку умения работать с графическими источниками информации (диаграммами и графиками) на основе знания протяженности и особенностей границ России. При этом условие второй части задания ориентировано на результат выполнения первой части и не может оцениваться вне связи с ним.

Задание 2 направлено на проверку уровня владения основами картографической грамотности и навыками использования географической карты для решения определенных задач. Задание проверяет знание географической номенклатуры, а также умения пользоваться картой для характеристики географического положения России, и определения географических координат и расстояний. Задание выполняется с использованием карты, приведенной в варианте работы, и состоит из двух частей. В первой части задания требуется указать названия обозначенных на карте объектов, определяющих географическое положение России, путем выбора их из предложенного списка. Во второй части – необходимо

¹ В связи с тем, что разные пункты некоторых заданий имеют различные уровни сложности, в данной таблице каждый из пунктов заданий учтён как отдельное задание.

определить по заданным координатам местоположение точки, связанной с одним из этих объектов, отметить на карте другую точку согласно условию задания и рассчитать расстояние между этими точками с помощью географических координат.

Задание 3 направлено на проверку уровня сформированности представлений об основных географических закономерностях в размещении крупных форм рельефа России, знания географической номенклатуры и умения различать и сравнивать изученные формы рельефа, умения работать с несколькими источниками информации: картой, фотоиллюстрациями, текстом. Задание включает в себя три части (пункта). Первая часть задания проверяет владение понятийным аппаратом географии и знание географической номенклатуры применительно к формам рельефа России. Ответ фиксируется в форме блок-схемы. Во второй части обучающимся необходимо определить и указать одну из форм рельефа по ее местоположению, отмеченному на карте, и фотоизображению. В третьей части задания требуется выявить характерные особенности указанной формы рельефа на основе текстовой информации, представленной в форме перечня характеристик. При этом выполнение третьей части задания напрямую зависит от правильности выполнения второй части.

Задание 4 направлено на проверку уровня сформированности представлений об основных географических закономерностях в размещении гидрографических объектов России, знания географической номенклатуры, умения работать с картографическими и текстовыми источниками информации и рассчитывать количественные показатели, характеризующие водные объекты. Задание содержит две части. Первая часть задания предполагает классификацию водных объектов на основе знания географической номенклатуры. Вторая часть ориентирована на работу с текстом для определения водного объекта по его описанию и картой для определения его размещения. Третья часть задания также ориентирована на работу с текстом и предполагает анализ текстовой информации для поиска необходимых характеристик объекта в целях проведения заданных расчетов или ответов на поставленные вопросы, касающихся данного объекта. Как и в предыдущих заданиях, результат выполнения третьей части задания может рассматриваться только при условии правильного выполнения второй части.

Задание 5 ориентировано на проверку умения работать с разными источниками географической информации, выявлять взаимодополняющую информацию, определять и сравнивать качественные и количественные показатели, характеризующие особенности разных территорий. Задание проверяет умение использовать графическую интерпретацию климатических показателей (климатограммы) для выявления основных географических закономерностей климата России и умение анализировать климатообразующие факторы, определяющие эти закономерности. Задание состоит из трех частей. Первая часть предполагает установление соответствия представленных в задании климатограмм для городов России, отмеченных на карте,

климатическим поясам и типам климата. Во второй части задания обучающимся необходимо сопоставить климатограммы с кратким текстом, в котором отражены некоторые особенности климата одного из этих городов и заполнить таблицу климатических показателей для климатического пояса, в котором расположен этот город, по соответствующей климатограмме. В третьей части задания проверяется умение выявлять климатообразующие факторы для территории, на которой расположен данный город.

Задание 6 ориентировано на проверку уровня сформированности географического мышления, умения использовать различные источники географической информации (карту, фотоизображения, текст) для решения поставленной задачи, применять знания о зональном времени, об особенностях компонентов природы отдельных территорий, взаимодействии природы и общества в разных частях территории России. Задание основано на описании маршрута путешествия по России, показанного на карте, и включает в себя три части (пункта). В первой части задания требуется определить названия городов – центров субъектов Российской Федерации – опорных точек маршрута, обозначенных на карте административно-территориального деления и подписать эти города на карте. Во второй части обучающиеся должны рассчитать разницу во времени между двумя точками маршрута. Третья часть задания предполагает работу с текстом – описанием маршрута – и фотоизображениями в целях определения природных зон, природных и культурных достопримечательностей и объектов, выявления проблем, связанных с хозяйственной деятельностью.

Задание 7 состоит из двух частей и основано на работе со статистической информацией о населении регионов России, представленной в виде статистической таблицы. Задание проверяет умение извлекать эту информацию и интерпретировать ее в целях сопоставления с информацией, представленной в графической форме (в виде диаграмм и графиков). Задание не предполагает проведения расчета количественных показателей, а ориентировано на проверку умения анализировать статистические данные и делать выводы в форме ответов на вопросы.

9. Система оценивания выполнения отдельных заданий и работы в целом

Полный правильный ответ на каждое из заданий 1.2 и 5.1 оценивается 1 баллом. Если в ответе допущена хотя бы одна ошибка (один из элементов ответа записан неправильно или не записан), выставляется 0 баллов.

Полный правильный ответ на каждое из заданий 2.1, 3.3, 5.3, 7.1 оценивается 2 баллами. Если в ответе на задание 2.1, 3.3, 5.3 допущена одна ошибка (в том числе один из элементов ответа записан неправильно или не записан, не указана одна необходимая цифра или указана лишняя цифра), а также если в ответе на задание 7.1 перепутаны местами две цифры, выставляется 1 балл; если допущено две или более ошибки – 0 баллов.

Ответы на задания 1.1, 2.2, 3.1, 3.2, 4 (все пункты), 5.2, 6 (все пункты), 7.2 оцениваются по критериям.

Максимальный первичный балл за выполнение работы – 33.

**Рекомендации по переводу первичных баллов в отметки
по пятибалльной шкале**

Таблица 5

Отметка по пятибалльной шкале	«2»	«3»	«4»	«5»
Первичные баллы	0–9	10–20	21–28	29–33

10. Продолжительность проверочной работы

На выполнение проверочной работы по учебному предмету «География» дается 45 минут.

11. Дополнительные материалы и оборудование

При вычислениях разрешается использовать непрограммируемый калькулятор.

12. Рекомендации по подготовке к проверочной работе

Специальная подготовка к проверочной работе не требуется.

1 На рисунках представлены контуры стран – соседей России с указанием столиц этих стран. Рассмотрите рисунки и выполните задания.

1.1. Выберите из списка названия этих стран и укажите их под рисунками.

Страны-соседи России:

Литва, Польша, Белоруссия, Грузия, Южная Осетия, Казахстан, Япония, Монголия.

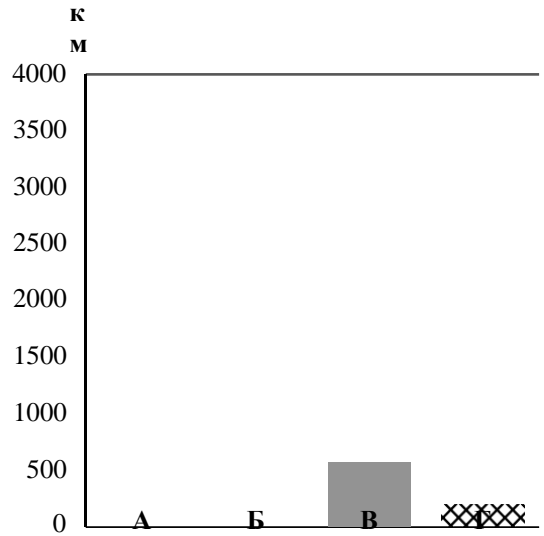
Улан-Батор Минск Токио Тбилиси

1 – 2 – 3 – 4 –

Определите расположение указанных Вами стран на схеме и впишите в пустые квадраты их **номера**.

*Государственная граница Российской Федерации
дана по состоянию на 01.01.2022 г.*

1.2. На диаграмме отображена протяжённость границ России с представленными на рисунках странами. Границе с какой страной соответствует столбец, обозначенный буквой Б? Запишите в ответе **название** страны.



Ответ. _____

ИЛИ

1 На рисунках представлены контуры стран-соседей России. Рассмотрите рисунки и выполните задания.

1.1. Выберите из списка названия столиц этих стран и укажите их под рисунками.

Столицы стран-соседей России:

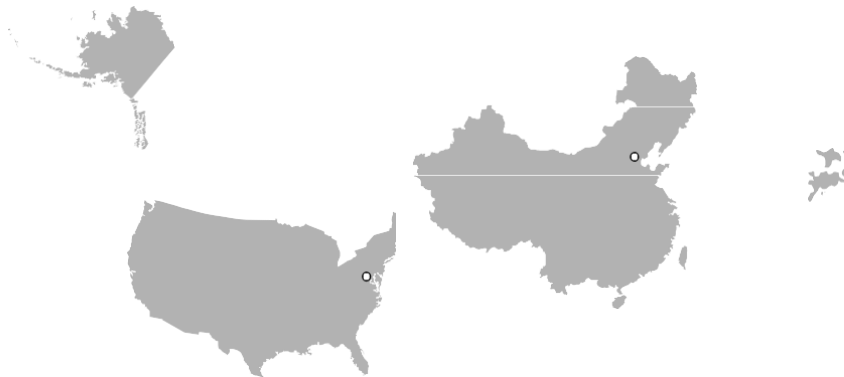
Вильнюс, Вашингтон, Таллин, Токио, Минск, Пекин, Тбилиси, Баку.

Грузия

США

Китай

Эстония



1 – _____

2 – _____

3 – _____





4 – _____

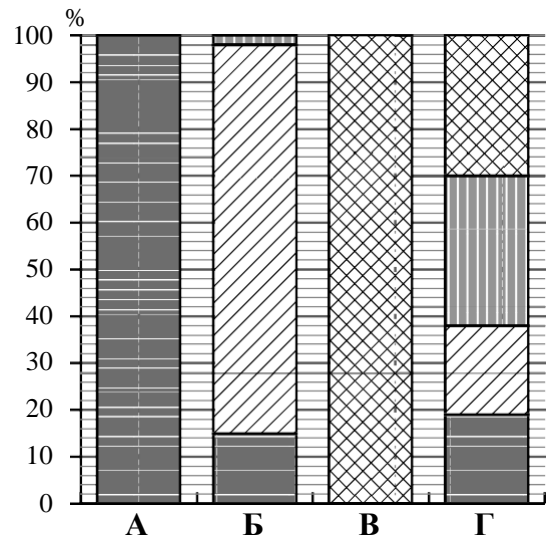
Определите расположение представленных стран на схеме и впишите в пустые квадраты их **номера**.



Государственная граница Российской Федерации дана по состоянию на 01.01.2022 г.

1.2. На диаграмме отображена структура границ России с представленными на рисунках странами (в % по видам границ). Границе с какой страной соответствует столбец, обозначенный буквой Б? Запишите в ответе **название** страны.

- Сухопутная граница:
-  собственно сухопутная
 -  речная
 -  озёрная
 -  морская граница



Ответ. _____

Задания 2–5 выполняются с использованием карты России, приведённой на странице 6.

2. 2.1. На карте буквами обозначены объекты, определяющие географическое положение России. Выберите из приведённого списка названия этих объектов и запишите их в таблицу.

Географические объекты:

Острова Северная Земля, Балтийское море, Белое море, остров Сахалин, острова Новая Земля, остров Врангеля, Чукотский полуостров, полуостров Таймыр.

Ответ.	А	Б	В	Г

2.2. Точка N расположена на территории одного из указанных Вами географических объектов и имеет координаты 71° с.ш. 55° в.д. Поставьте на карте крайнюю южную точку России, которая расположена на одном меридиане с точкой N, и обозначьте её буквой K.

Определите и запишите в ответе координаты точки K.

Ответ. _____

Рассчитайте расстояние в километрах от точки N до точки K. Длина дуги меридиана в 1° составляет 111,3 км. Результат округлите до целого числа. (Для расчёта используйте калькулятор.)

Ответ. _____ км.

ИЛИ

2.2. Точка N расположена на территории одного из указанных Вами географических объектов и имеет координаты 55° с.ш. 20° в.д. Поставьте на карте крайнюю восточную **островную** точку России, которая расположена на одной параллели с точкой N, и обозначьте её буквой K.

Определите и запишите в ответе координаты точки K.

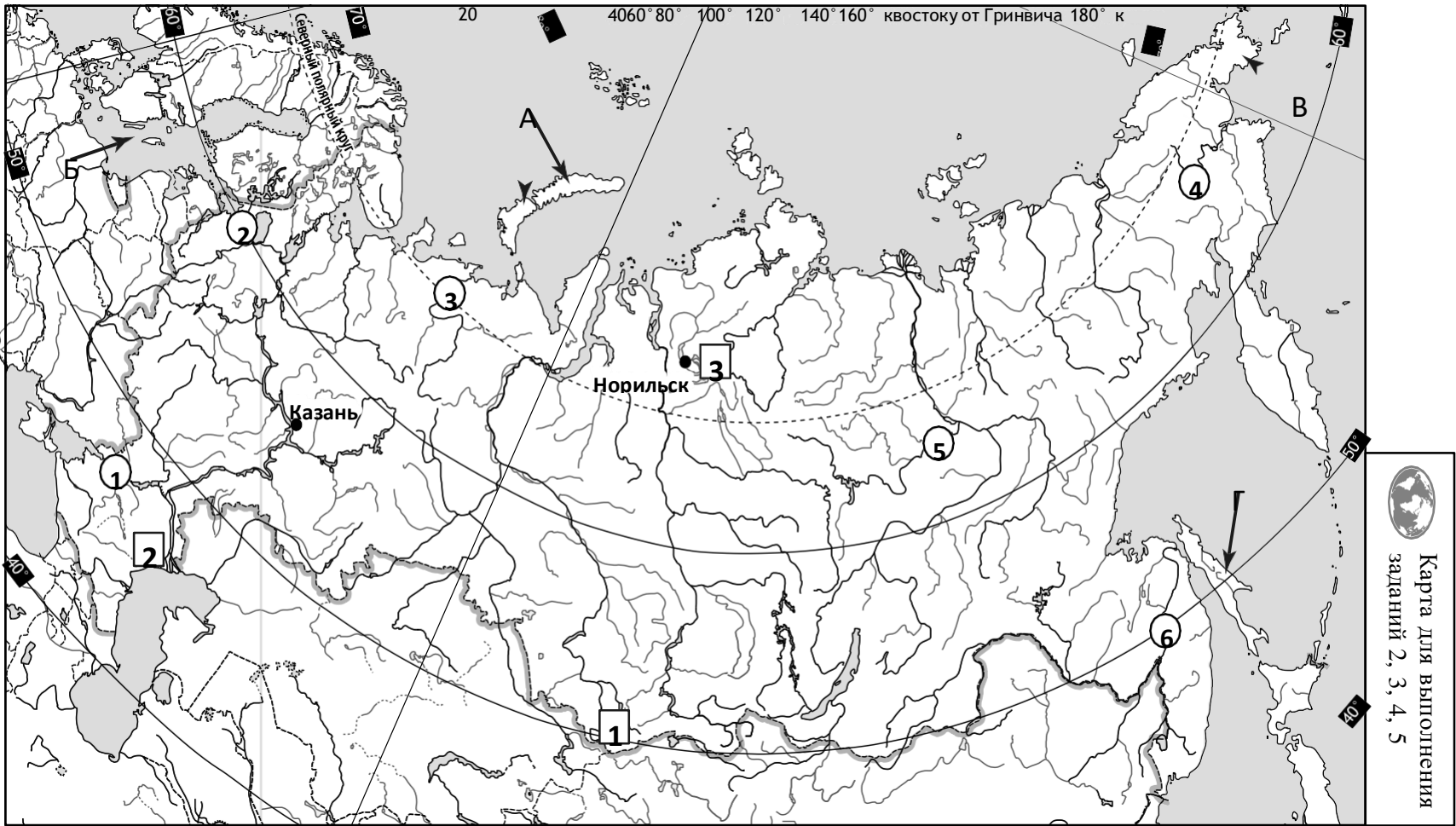
Ответ. _____

Рассчитайте расстояние в километрах от точки N до точки K с помощью таблицы длин дуг параллелей. Результат округлите до целого числа. (Для расчёта воспользуйтесь калькулятором.)

Широта	0°	5°	10°	15°	20°	25°	30°	35°	40°	45°
Длина дуги параллели в 1°, км	111,3	110,9	109,6	107,6	104,6	101,0	96,5	91,3	85,4	78,8
Широта	50°	55°	60°	65°	70°	75°	80°	85°	90°	
Длина дуги параллели в 1°, км	71,7	64,0	55,8	47,2	38,2	28,9	19,4	19,4	0	

Ответ. _____ км.

Код _____



Государственная граница Российской Федерации дана по состоянию на 01.01.2022 г.

3 3.1. На карте России цифрами в квадратах обозначены формы рельефа. Выберите из предложенного списка географические названия этих форм рельефа и впишите в пустые ячейки на схеме.

Географические названия форм рельефа:


Становое, Путорана, Шивелуч, Алтай, Прикаспийская, Валдайская.



3.2. Какая форма рельефа обозначена на карте цифрой 1? Запишите в ответе полное название этого географического объекта.

Ответ. _____

На какой из фотографий представлен указанный Вами географический объект?



Ответ.

3.3. Выберите три утверждения, которые характеризуют особенности указанного Вами географического объекта, и запишите в ответе их номера.

- 1) Здесь берут начало реки Бия и Катунь.
- 2) Большая часть территории заболочена.
- 3) Территория богата нефтью и природным газом.
- 4) Этот географический объект расположен на юге Сибири.
- 5) Наивысшая точка – гора Белуха.
- 6) Здесь много действующих вулканов.

Ответ.

--	--	--

- 4 4.1. Распределите реки России, приведённые в списке, в соответствии с бассейнами океанов, к которым они относятся. Запишите названия рек в соответствующие ячейки таблицы.

Реки:

Амур, Печора, Нева, Дон, Вилюй, Анадырь.

Бассейн Северного Ледовитого океана	Бассейн Атлантического океана	Бассейн Тихого океана

- 4.2. Определите по тексту и запишите название одной из приведённых в списке рек.

Река в Восточной Сибири, левый приток реки Лены, самый длинный из всех её притоков. Её бассейн расположен в зоне многолетней мерзлоты. Река берёт начало на плато в восточной части Среднесибирского плоскогорья на высоте 520 м над уровнем моря. Длина реки составляет 2650 км. В среднем течении она прорезает узкую долину, напоминающую каньон, здесь построена крупная ГЭС. В нижнем течении, на территории Центрально-Якутской низменности, берега реки представляют собой широкую заболоченную пойму с множеством небольших озёр и островов. Абсолютная высота территории, где река впадает в Лену, составляет 54 м.

Ответ. _____

Приведённые в списке реки обозначены на карте цифрами в кружках. Какой цифрой обозначена указанная Вами река?

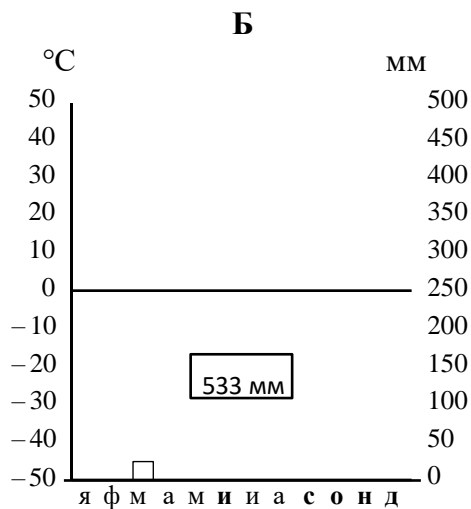
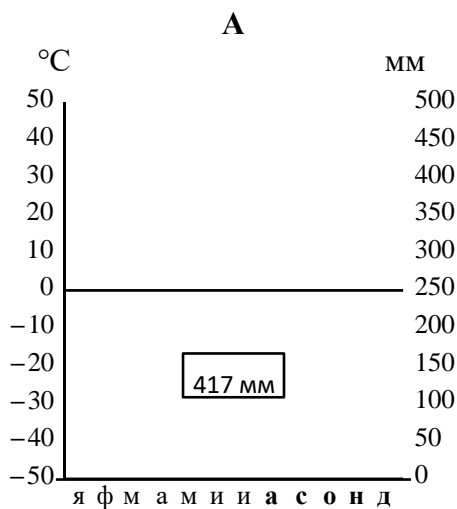
Ответ.

- 4.3. Используя данные, приведённые в тексте, рассчитайте падение и уклон указанной Вами реки. Результаты округлите до десятых. (Для расчёта используйте калькулятор.)

Ответ. Падение реки _____ м.
Уклон реки _____ см/км.

5 На карте России указаны два города: Норильск и Казань, для которых по данным метеонаблюдений построены климатограммы, изображённые на рисунках. Рассмотрите карту и климатограммы и выполните задания.

5.1. Определите, какому климатическому поясу / типу климата соответствует каждая климатограмма. Подпишите название климатического пояса / типа климата под соответствующей климатограммой, выбрав его из приведённого списка.



Климатические пояса / типы климата:

- арктический,
- субарктический,
- умеренный / морской,
- умеренный / умеренно континентальный,
- умеренный / континентальный,
- умеренный / резко континентальный,
- умеренный / муссонный,
- субтропический.

5.2. Школьник из Норильска отправил письмо с описанием особенностей местного климата своему другу, который живёт в Казани.

Климат в нашем городе суровый. Морозы начинаются уже в сентябре - октябре, а зимой достигают -40-45 °C. Зимой снега немного, но дуют сильные холодные ветры, и часты метели. Лето короткое и прохладное, температура не поднимается выше +15 °C. Большая часть осадков выпадает в начале осени.

Какая климатограмма построена по данным метеонаблюдений в городе Норильске? Укажите в ответе букву, которой она обозначена.

Ответ.

По выбранной Вами климатограмме определите климатические показатели, характерные для климата Норильска, и заполните таблицу.

Средняя температура воздуха, °С		Годовая амплитуда температур, °С	Годовое количество осадков, мм	Месяц, на который приходится наибольшее количество осадков
в январе	в июле			

5.3. Какие климатообразующие факторы определяют климат Норильска? Запишите в ответе их **номера**.

- 1) тёплое океаническое течение
- 2) распространение многолетней мерзлоты
- 3) мощный летний антициклон
- 4) расположение за Северным полярным кругом
- 5) большой угол падения солнечных лучей в течение всего года
- 6) близость Северного Ледовитого океана

Ответ. _____

Задание 6 выполняется с использованием карты России, приведённой на странице 12.

- 6** Группа туристов отправилась в путешествие по России. На карте отмечены буквами опорные точки их маршрута, которые являются крупными городами: центрами субъектов Российской Федерации (республик, краёв, областей) и/или городами федерального значения. Проследите по карте маршрут туристов и выполните задания.

6.1. Выберите из приведённого списка названия городов – опорных точек маршрута, и заполните таблицу.

Города:

Тюмень, Волгоград, Красноярск, Ростов-на Дону, Москва, Мурманск.

Опорная точка маршрута	А	Б	В
Название города			

Подпишите на карте названия указанных Вами городов – опорных точек маршрута.

6.2. Из точки А в точку Б туристы решили добраться на самолёте. Заполните пропуски в авиабилете: впишите названия пункта вылета, пункта назначения и время прилёта в пункт назначения (местное время).



город
 Время вылета - 11:00
 Расчётное время полёта - 5 часов

город
 Время прилёта -



6.3. Путь от точки Б до точки В туристы преодолевали на поезде и автомобиле. По пути они делали фотографии и записи в дневнике. Рассмотрите фотографии, прочитайте записи туристов и ответьте на вопрос.



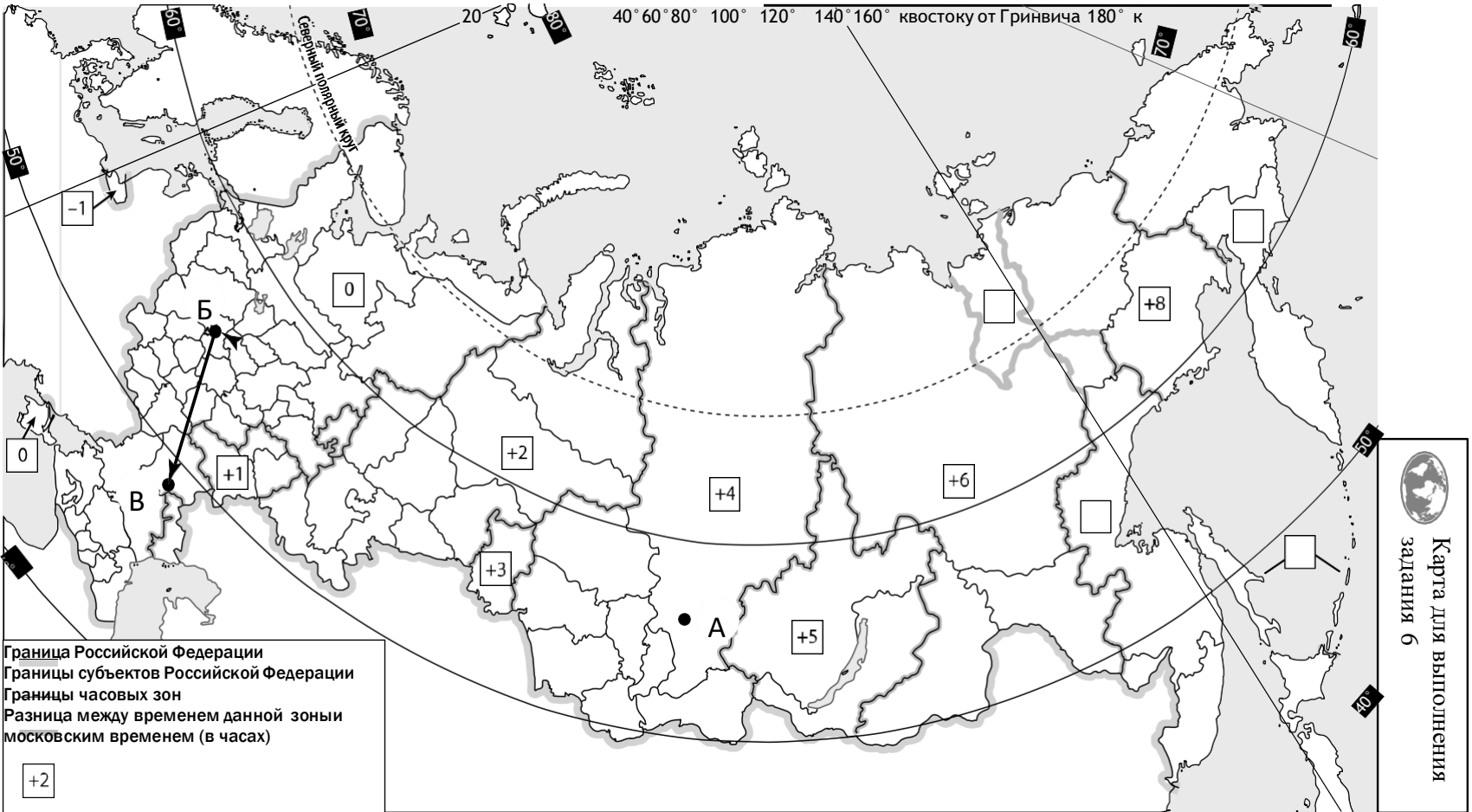
В начале нашего пути за окнами поезда мелькали корпуса промышленных предприятий, хозяйственные постройки и жилые кварталы, где было мало зелёных насаждений. Через некоторое время появились перелески и леса из сосны, берёзы, осины, ели, а затем – дубовые рощи, и стали отчётливо видны холмы Среднерусской возвышенности. По мере нашего движения леса становились всё реже, и вскоре их полностью сменили луга и поля. Мы доехали до города Воронежа, расположенного на берегу Дона. Дальше дорога шла по открытому пространству, почти повсеместно распаханному. Лишь на небольших участках здесь можно было увидеть естественную травянистую растительность. Поля в основном были засеяны пшеницей, встречались поля подсолнечника и бахчи с арбузами. Так мы добрались до Волги.

Какие природные зоны из тех, по территории которых проходил маршрут туристов, отображены на фотографиях?



Ответ. _____

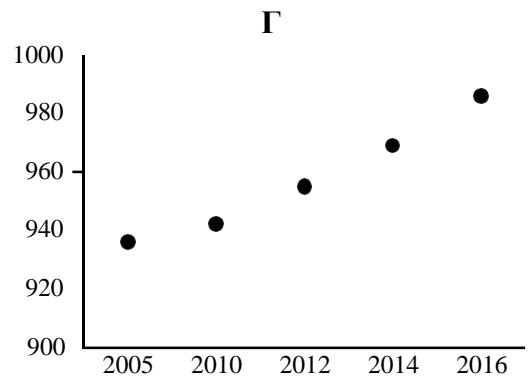
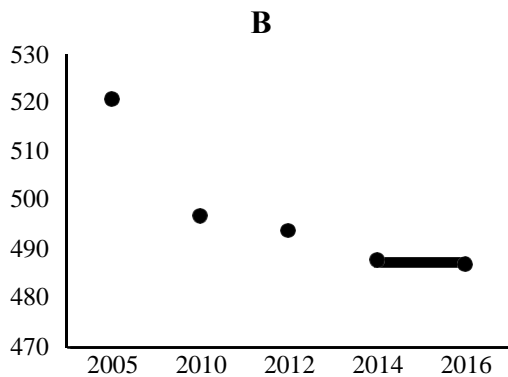
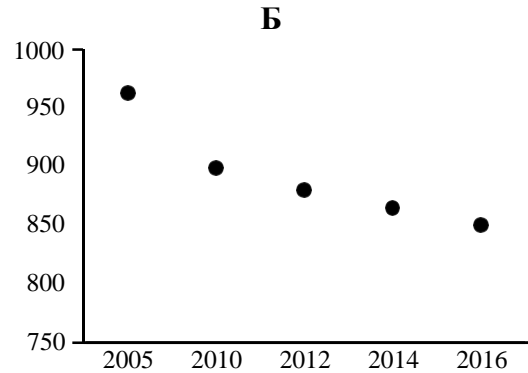
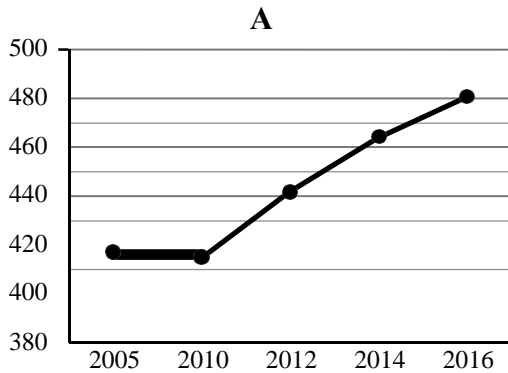
Код _____



7 Используя приведённую ниже таблицу и графики динамики численности населения по субъектам Российской Федерации за период 2005–2016 гг., выполните задания.

Динамика численности населения, тыс. человек

№ п/п	Субъекты РФ	2005 г.	2010 г.	2012 г.	2014 г.	2016 г.
1	Республика Коми	963	899	880	864	850
2	Республика Ингушетия	417	415	442	464	481
3	Сахалинская область	521	497	494	488	487
4	Калининградская область	936	942	955	969	986



7.1. Определите, какому субъекту Российской Федерации соответствует каждый график динамики численности населения. Запишите в ответе **порядковые номера** субъектов Российской Федерации под соответствующими буквами.



Ответ.

А	Б	В	Г

7.2. В каких из приведённых в таблице субъектов Российской Федерации численность населения за указанный период выросла? Запишите в ответе **названия** субъектов РФ.

Ответ. _____

В каком из приведённых в таблице субъектов Российской Федерации убыль населения за указанный период была наибольшей? Запишите в ответе **название** субъекта РФ. (При необходимости Вы можете воспользоваться калькулятором.)



Ответ. _____

Система оценивания проверочной работы

Полный правильный ответ на каждое из заданий 1.2 и 5.1 оценивается 1 баллом. Если в ответе допущена хотя бы одна ошибка (один из элементов ответа записан неправильно или не записан), выставляется 0 баллов.

Полный правильный ответ на каждое из заданий 2.1, 3.3, 5.3, 7.1 оценивается 2 баллами. Если в ответах на задания 2.1, 3.3, 5.3 допущена одна ошибка (в том числе один из элементов ответа записан неправильно или не записан, не указана одна необходимая цифра или указана лишняя цифра), а также если в ответе на задание 7.1 перепутаны местами две цифры, выставляется 1 балл; если допущено две или более ошибки – 0 баллов.

Номер задания	Правильный ответ	
1.2	Монголия	Китай
2.1	А – острова Новая Земля Б – Балтийское море В – Чукотский полуостров Г – остров Сахалин	
3.3	145 (в любой последовательности) <i>Если за выполнение задания 3.2 выставлено 0 баллов, результат выполнения данного задания не засчитывается</i>	
5.1	А – субарктический Б – умеренный / умеренно континентальный	
5.3	246 (в любой последовательности)	
7.1	2134	

1 На рисунках представлены контуры стран – соседей России с указанием столиц этих стран. Рассмотрите рисунки и выполните задания.

1.1. Выберите из списка названия этих стран и укажите их под рисунками.

Страны-соседи России:

Литва, Польша, Белоруссия, Грузия, Южная Осетия, Казахстан, Япония, Монголия.



1 – Монголия 2 – Белоруссия 3 – Япония 4 – Грузия

Определите расположение указанных Вами стран на схеме и впишите в пустые квадраты их **номера**.



Государственная граница Российской Федерации дана по состоянию на 01.01.2022 г.

Содержание верного ответа и указания по оцениванию	Баллы
Правильный ответ должен содержать следующие элементы: 1) <u>подписи названий стран</u> под рисунками: 1 – Монголия; 2 – Белоруссия; 3 – Япония; 4 – Грузия; 2) <u>вписанные номера стран</u> на схеме	
Правильно подписаны названия четырёх стран, правильно вписаны номера всех четырёх стран	3
Правильно подписаны названия трёх стран; правильно вписаны номера трёх-четырёх стран. ИЛИ Правильно подписаны названия трёх-четырёх стран; правильно вписаны номера двух стран / перепутаны местами номера двух стран	2
Правильно подписаны названия двух стран; правильно вписаны номера этих двух стран. ИЛИ Правильно подписаны названия трёх-четырёх стран; правильно вписан номер только одной страны. ИЛИ Правильно подписаны названия четырёх стран; номера стран не вписаны / вписаны неправильно	1
Правильно подписаны названия трёх стран; номера стран не вписаны / вписаны неправильно. ИЛИ Правильно подписаны названия двух стран; правильно вписан номер только одной страны / номера стран не вписаны / вписаны неправильно. ИЛИ Правильно подписано название только одной страны независимо от наличия/отсутствия вписанных номеров стран. ИЛИ Названия стран не подписаны / подписаны неправильно независимо от наличия/отсутствия вписанных номеров стран. ИЛИ Ответ неправильный	0
<i>Максимальный балл</i>	3

ИЛИ

1 На рисунках представлены контуры стран-соседей России. Рассмотрите рисунки и выполните задания.

1.1. Выберите из списка названия столиц этих стран и укажите их под рисунками.

Столицы стран-соседей России:

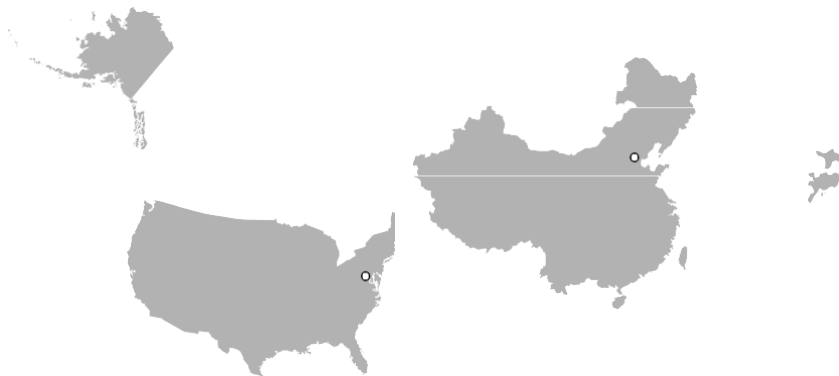
Вильнюс, Вашингтон, Таллин, Токио, Минск, Пекин, Тбилиси, Баку.

Грузия

США

Китай

Эстония



1 – Тбилиси

2 – Вашингтон

3 – Пекин

4 – Таллин

Определите расположение представленных стран на схеме и впишите в пустые квадраты их **номера**.



Государственная граница Российской Федерации
дана по состоянию на 01.01.2022 г.

Содержание верного ответа и указания по оцениванию	Баллы
<p>Правильный ответ должен содержать следующие <u>элементы</u>:</p> <p>1) <u>подписи названий столиц стран</u> под рисунками: 1 – Тбилиси; 2 – Вашингтон; 3 – Пекин; 4 – Таллин;</p> <p>2) вписанные <u>номера стран</u> на схеме</p>	
Правильно подписаны названия столиц четырёх стран, правильно вписаны номера всех четырёх стран	3
<p>Правильно подписаны названия столиц трёх стран; правильно вписаны номера трёх-четырёх стран.</p> <p>ИЛИ Правильно подписаны названия столиц трёх-четырёх стран; правильно вписаны номера двух стран / перепутаны местами номера двух стран</p>	2
<p>Правильно подписаны названия столиц двух стран; правильно вписаны номера этих двух стран.</p> <p>ИЛИ Правильно подписаны названия столиц трёх-четырёх стран; правильно вписан номер только одной страны.</p> <p>ИЛИ Правильно подписаны названия столиц четырёх стран; номера стран не вписаны / вписаны неправильно</p>	1
<p>Правильно подписаны названия столиц трёх стран; номера стран не вписаны / вписаны неправильно.</p> <p>ИЛИ Правильно подписаны названия столиц двух стран; правильно вписан номер только одной страны/ номера стран не вписаны / вписаны неправильно.</p> <p>ИЛИ Правильно подписано название столицы только одной страны независимо от наличия/отсутствия вписанных номеров стран.</p> <p>ИЛИ Названия столиц не подписаны / подписаны неправильно независимо от наличия/отсутствия вписанных номеров стран.</p> <p>ИЛИ Ответ неправильный</p>	0
<i>Максимальный балл</i>	3

- 2 2.2. Точка N расположена на территории одного из указанных Вами географических объектов и имеет координаты 71° с.ш. 55° в.д. Поставьте на карте крайнюю южную точку России, которая расположена на одном меридиане с точкой N, и обозначьте её буквой K.

Определите и запишите в ответе координаты точки K.

Рассчитайте расстояние в километрах от точки N до точки K. Длина дуги меридиана в 1° составляет 111,3 км. (Для расчёта используйте калькулятор.)

Содержание верного ответа и указания по оцениванию	Баллы
Правильный ответ должен содержать следующие элементы: 1) <u>точку K</u> на карте (крайняя южная точка России на меридиане 55° в.д.); 2) <u>координаты</u> точки K: 51° с.ш. 55° в.д.; 3) <u>расстояние</u> от точки N до точки K: 2226 км	
Правильно поставлена точка K на карте, определены её координаты, рассчитано расстояние. <i>При определении координат допускается погрешность $\pm 1^\circ$. При расчёте расстояния допускается соответствующая погрешность в километрах</i>	2
Правильно поставлена точка K на карте, определены её координаты; расстояние не рассчитано / рассчитано неправильно	1
Правильно поставлена точка K на карте; координаты точки не определены / определены неправильно независимо от наличия/отсутствия расчёта расстояния. ИЛИ Точка K на карте не поставлена / поставлена неправильно независимо от наличия/отсутствия определения координат и расчёта расстояния	0
<i>Максимальный балл</i>	2

ИЛИ

- 2.2. Точка N расположена на территории одного из указанных Вами географических объектов и имеет координаты 55° с.ш. 20° в.д. Поставьте на карте крайнюю восточную островную точку России, которая расположена на одной параллели с точкой N, и обозначьте её буквой K.

Определите и укажите в ответе координаты крайней восточной точки России, которая расположена на одной параллели с точкой N.

Определите и запишите в ответе координаты точки K.

Рассчитайте расстояние в километрах от точки N до точки K с помощью таблицы длин дуг параллелей. Результат округлите до целого числа. (Для расчёта воспользуйтесь калькулятором.)

Широта	0°	5°	10°	15°	20°	25°	30°	35°	40°	45°
Длина дуги параллели в 1° , км	111,3	110,9	109,6	107,6	104,6	101,0	96,5	91,3	85,4	78,8
Широта	50°	55°	60°	65°	70°	75°	80°	85°	90°	
Длина дуги параллели в 1° , км	71,7	64,0	55,8	47,2	38,2	28,9	19,4	19,4	0	

Содержание верного ответа и указания по оцениванию	Баллы
Правильный ответ должен содержать следующие <u>элементы</u> : 1) <u>точку К</u> на карте (крайняя восточная <u>островная</u> точка России на параллели 55° с.ш.); 2) <u>координаты</u> точки К: 55° с.ш. 167° в.д.; 3) <u>расстояние</u> от точки N до точки К: 9408 км	
Правильно поставлена точка К на карте, определены её координаты, рассчитано расстояние. <i>При определении координат допускается погрешность ±1°. При расчёте расстояния допускается соответствующая погрешность в километрах</i>	2
Правильно поставлена точка К на карте, определены её координаты; расстояние не рассчитано / рассчитано неправильно	1
Правильно поставлена точка К на карте; координаты точки не определены / определены неправильно независимо от наличия/отсутствия расчёта расстояния. ИЛИ Точка К на карте не поставлена / поставлена неправильно независимо от наличия/отсутствия определения координат и расчёта расстояния	0
<i>Максимальный балл</i>	2

- 3** 3.1. На карте России цифрами в квадратах обозначены формы рельефа. Выберите из предложенного списка географические названия этих форм рельефа и впишите в пустые ячейки на схеме.

Географические названия форм рельефа:

Становое, Путорана, Шивёлуч, Алтай, Прикаспийская, Валдайская.

Содержание верного ответа и указания по оцениванию	Баллы						
Правильный ответ должен содержать <u>заполненную схему</u> с вписанными в неё географическими названиями форм рельефа.							
<table style="width: 100%; border-collapse: collapse;"> <tr> <td style="border: 1px solid black; padding: 5px; text-align: center;">низменность</td> <td style="border: 1px solid black; padding: 5px; text-align: center;">плато</td> <td style="border: 1px solid black; padding: 5px; text-align: center;">горы</td> </tr> <tr> <td style="border: 1px solid black; padding: 5px; text-align: center;">Прикаспийская</td> <td style="border: 1px solid black; padding: 5px; text-align: center;">Путорана</td> <td style="border: 1px solid black; padding: 5px; text-align: center;">Алтай</td> </tr> </table>	низменность	плато	горы	Прикаспийская	Путорана	Алтай	
низменность	плато	горы					
Прикаспийская	Путорана	Алтай					
Схема заполнена правильно	2						
При заполнении схемы допущена одна ошибка	1						
При заполнении схемы допущено две или более ошибки. ИЛИ Ответ неправильный	0						
<i>Максимальный балл</i>	2						

3.2. Какая форма рельефа обозначена на карте цифрой ? Запишите в ответе полное название этого географического объекта.

На какой из фотографий представлен указанный Вами географический объект?

Содержание верного ответа и указания по оцениванию	Баллы
Правильный ответ должен содержать следующие <u>элементы</u> : 1) запись <u>названия географического объекта</u> : горы Алтай / Алтайские горы; 2) указание <u>фотографии</u> : В	
Правильно записано название географического объекта, указана фотография	2
Правильно записано название географического объекта; фотография не указана / указана неправильно	1
Название географического объекта не записано / записано неправильно независимо от указания фотографии. ИЛИ Ответ неправильный	0
<i>Максимальный балл</i>	2

4 4.1. Распределите реки России, приведённые в списке, в соответствии с бассейнами океанов, к которым они относятся. Запишите названия рек в соответствующие ячейки таблицы.

Реки:

Амур, Печора, Нева, Дон, Вилюй, Анадырь.

Содержание верного ответа и указания по оцениванию	Баллы						
Правильный ответ должен содержать <u>заполненную таблицу</u> с вписанными в неё названиями рек.							
<table border="1" style="width: 100%; text-align: center;"> <thead> <tr> <th>Бассейн Северного Ледовитого океана</th> <th>Бассейн Атлантического океана</th> <th>Бассейн Тихого океана</th> </tr> </thead> <tbody> <tr> <td><i>Печора</i> <i>Вилюй</i></td> <td><i>Нева</i> <i>Дон</i></td> <td><i>Амур</i> <i>Анадырь</i></td> </tr> </tbody> </table>	Бассейн Северного Ледовитого океана	Бассейн Атлантического океана	Бассейн Тихого океана	<i>Печора</i> <i>Вилюй</i>	<i>Нева</i> <i>Дон</i>	<i>Амур</i> <i>Анадырь</i>	
Бассейн Северного Ледовитого океана	Бассейн Атлантического океана	Бассейн Тихого океана					
<i>Печора</i> <i>Вилюй</i>	<i>Нева</i> <i>Дон</i>	<i>Амур</i> <i>Анадырь</i>					
Таблица заполнена правильно	2						
При заполнении таблицы допущена одна ошибка	1						
При заполнении таблицы допущено две или более ошибки. ИЛИ Ответ неправильный	0						
<i>Максимальный балл</i>	2						

4.2. Определите по тексту и запишите название одной из приведённых в списке рек.

Приведённые в списке реки обозначены на карте цифрами в кружках. Какой цифрой обозначена указанная Вами река?

Содержание верного ответа и указания по оцениванию	Баллы
Правильный ответ должен содержать следующие <u>элементы</u> : 1) запись <u>названия реки</u> : Виллой; 2) указание <u>цифры</u> , которой обозначена река на карте: 5	
Правильно записано название реки, правильно указана цифра	2
Правильно записано название реки; цифра не указана / указана неправильно	1
Название реки не записано / записано неправильно независимо от указания цифры. ИЛИ Ответ неправильный	0
<i>Максимальный балл</i>	2

4.3. Используя данные, приведённые в тексте, рассчитайте падение и уклон указанной Вами реки. Результаты округлите до десятых. (Для расчёта используйте калькулятор.)

Содержание верного ответа и указания по оцениванию	Баллы
Правильный ответ должен содержать следующие <u>элементы</u> : 1) <u>падение</u> реки: 466 м; 2) <u>уклон</u> реки: 17,6 см/км. <i>Если за выполнение задания 4.2 выставлено 0 баллов, результат выполнения данного задания не засчитывается</i>	
Правильно рассчитаны падение и уклон реки	2
Правильно рассчитано только падение реки, уклон реки не рассчитан / рассчитан неправильно	1
Падение реки не рассчитано / рассчитано неправильно независимо от указания уклона реки. ИЛИ Ответ неправильный	0
<i>Максимальный балл</i>	2

- 5 5.2. Школьник из Норильска написал письмо с описанием особенностей местного климата своему другу, который живёт в Казани.

Какая климатограмма построена по данным метеонаблюдений в городе Норильске? Укажите в ответе букву, которой она обозначена.

По выбранной Вами климатограмме определите климатические показатели, характерные для климата Норильска, и заполните таблицу.

Содержание верного ответа и указания по оцениванию					Баллы
Правильный ответ должен содержать следующие <u>элементы</u> : 1) <u>указание климатограммы</u> : А; 2) <u>заполненную таблицу</u> с климатическими показателями:					
Средняя температура воздуха, °С		Годовая амплитуда температур, °С	Годовое количество осадков, мм	Месяц, на который приходится наибольшее количество осадков	
в январе	в июле				
-37	+13	50	417	сентябрь	
<i>При определении средних температур допускается погрешность ± 1°С</i>					
Правильно указана климатограмма, правильно заполнена таблица					2
Правильно указана климатограмма; в таблице допущена одна ошибка					1
Правильно указана климатограмма; в таблице допущено две или более ошибки / таблица не заполнена. ИЛИ Климатограмма, не указана / указана неправильно независимо от заполнения таблицы. ИЛИ Ответ неправильный					0
<i>Максимальный балл</i>					2

- 6** Группа туристов отправилась в путешествие по России. На карте отмечены буквами опорные точки их маршрута, которые являются крупными городами: центрами субъектов Российской Федерации (республик, краёв, областей) и/или городами федерального значения. Проследите по карте маршрут туристов и выполните задания.

6.1. Выберите из приведённого списка названия городов – опорных точек маршрута, и заполните таблицу.

Города:

Тюмень, Волгоград, Красноярск, Ростов-на Дону, Москва, Мурманск.

Подпишите на карте названия указанных Вами городов – опорных точек маршрута.

Содержание верного ответа и указания по оцениванию				Баллы
Правильный ответ должен содержать следующие <u>элементы</u> : 1) указание в таблице <u>названий городов</u> – опорных точек маршрута:				
Опорная точка маршрута	А	Б	В	
Название города	<i>Красноярск</i>	<i>Москва</i>	<i>Волгоград</i>	
2) <u>подписи городов на карте</u>				
Правильно указаны названия трёх городов, на карте подписаны три города				2
Правильно указаны названия трёх городов; на карте правильно подписаны один-два города. ИЛИ Правильно указаны названия двух городов; на карте правильно подписаны эти два города				1
Правильно указаны названия двух городов; правильно подписан только один город. ИЛИ Правильно указаны названия двух-трёх городов; города на карте не подписаны / подписаны неправильно. ИЛИ Правильно указан только один город / города не указаны / указаны неправильно независимо от подписи городов на карте. ИЛИ Ответ неправильный				0
<i>Максимальный балл</i>				2

6.2. Из точки А в точку В туристы решили добраться на самолёте. Заполните пропуски в авиабилете: впишите названия пункта вылета, пункта назначения и время прилёта в пункт назначения (местное время).

Содержание верного ответа и указания по оцениванию	Баллы
<p>Правильный ответ должен содержать изображение авиабилета с <u>заполненными пропусками</u>:</p>  <p>город <u>Красноярск</u> город <u>Москва</u> В Расчётное время полёта - 5 часов</p>	
Правильно заполнены все пропуски	1
Правильно заполнены только один-два пропуска. ИЛИ Ни один из пропусков не заполнен / не заполнен правильно	0
<i>Максимальный балл</i>	<i>1</i>

6.3. Путь от точки В до точки В туристы преодолевали на поезде и автомобиле. По пути они делали фотографии и записи в дневнике. Рассмотрите фотографии, прочитайте записи туристов и ответьте на вопрос.

Какие природные зоны из тех, по территории которых проходил маршрут туристов, отображены на фотографиях?

Содержание верного ответа и указания по оцениванию	Баллы
Правильный ответ должен содержать <u>ответ на вопрос</u> : природные зоны – смешанный лес, степь	
Правильно указаны две природные зоны	1
Правильно указана только одна природная зона. ИЛИ Ни одной природной зоны не указано / не указано правильно	0
<i>Максимальный балл</i>	<i>1</i>

- 7** 7.2. В каких из приведённых в таблице субъектов Российской Федерации численность населения за указанный период выросла? Запишите в ответе **названия** субъектов РФ.

В каком из приведённых в таблице субъектов Российской Федерации убыль населения за указанный период была наибольшей? Запишите в ответе **название** субъекта РФ. (При необходимости Вы можете воспользоваться калькулятором.)

Содержание верного ответа и указания по оцениванию	Баллы
Правильный ответ должен содержать <u>ответы на два вопроса</u> : 1) Республика Ингушетия и Калининградская область (в любой последовательности) 2) Республика Коми	
Правильно даны ответы на два вопроса	2
Правильно дан ответ только на один любой вопрос	1
Ответы на вопросы не даны / даны неправильно	0
<i>Максимальный балл</i>	2

Система оценивания выполнения всей работы

Максимальный первичный балл за выполнение работы – **33**.

Рекомендации по переводу первичных баллов в отметки по пятибалльной шкале

Отметка по пятибалльной шкале	«2»	«3»	«4»	«5»
Первичные баллы	0–9	10–20	21–28	29–33

Итоговая контрольная работа по географии 9 класс

Назначение: определение уровня подготовки обучающихся 9 классов

Документы:

- 1) Приказ Министерства просвещения Российской Федерации от 31.05.2021 № 287 «Об утверждении федерального государственного образовательного стандарта основного общего образования»;
- 2) Приказ Министерства просвещения Российской Федерации от 18.05.2023 № 370 «Об утверждении федеральной образовательной программы основного общего образования»
- 3) ООП ООО МБОУ «Березинская СОШ»
- 4) Система оценки достижений планируемых предметных результатов освоения учебного предмета «География»: методические рекомендации / [Э.М. Амбарцумова, В.В. Барабанов, С.Е. Дюкова]. – М. ФГБНУ «Институт стратегии развития образования», 2023

Спецификация контрольно-измерительной работы по географии 9 класс

3. Характеристика структуры и содержания работы

В работу включено 12 заданий с выбором ответа из 4-х предложенных, 1 задание открытого типа, требующих краткого ответа учащегося, 4 задания на установление соответствия, 2 задания - работа с топографической картой, 3 задания - определение объекта по описанию и географическим координатам.

4. Время выполнения работы 45 минут

5. **Дополнительные материалы и оборудование:** при выполнении работы над текстом рекомендуется работать с

картами географического атласа.

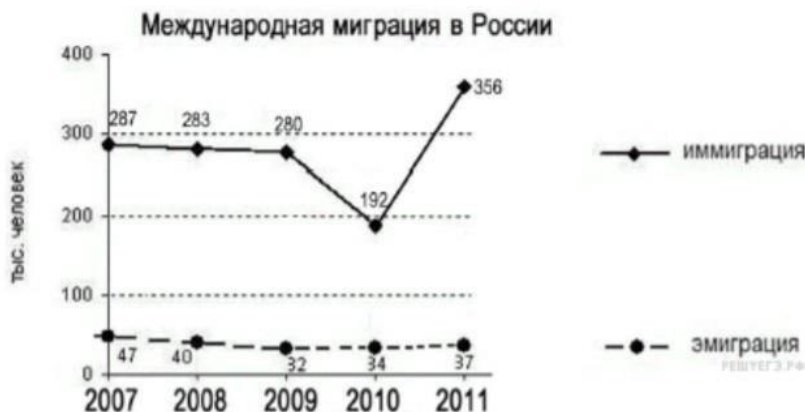
6. Проверяемые умения

№ задания	Наименование контролируемого элемента содержания
1	Знать и понимать место России в мире
2	Знать и понимать место России в мире
3	Знать и понимать особенности населения России
4	Знать географические явления и процессы в геосферах, взаимосвязь между ними, их изменение в результате деятельности человека
5	Уметь использовать приобретенные знания и умения в практической деятельности и повседневной жизни
6	Знать и понимать особенности населения России
7	Уметь выделять (узнавать) существенные признаки географических объектов и явлений
8	Знать и понимать особенности населения России
9	Знать и понимать особенности населения, природно-хозяйственных зон и районов России
10	Знать и понимать особенности размещения полезных ископаемых
11	Знать и понимать природные и антропогенные причины возникновения геоэкологических проблем
12	Знать и понимать особенности основных отраслей хозяйства России
13	Знать и понимать особенности природы, населения, основных отраслей хозяйства, природно-хозяйственных зон и районов России; связь между географическим положением, природными условиями, ресурсами и хозяйством отдельных стран
14	Уметь использовать приобретенные знания и умения в практической деятельности и повседневной жизни
15	Знать и понимать особенности основных отраслей хозяйства, природно-хозяйственных зон и районов
16	Уметь находить в разных источниках информацию, необходимую для изучения географических объектов и явлений
17	Уметь определять на карте географические координаты
18	Уметь определять на плане местности расстояния
19	Уметь определять на плане местности направления
20	Знать и понимать основные термины и понятия
21	Уметь выделять (узнавать) существенные признаки географических объектов и явлений
22	Уметь выделять (узнавать) существенные признаки географических объектов и явлений

- Самая западная точка территории России расположена на границе с
 - Белоруссией
 - Польшей
 - Финляндией
 - Латвией
- С какой из перечисленных групп стран Россия имеет сухопутную границу?
 - Эстония и Норвегия
 - Туркмения и Грузия
 - Киргизия и Казахстан
 - Молдавия и Турция
- Какой из регионов, обозначенных буквами на карте России, имеет наибольшую среднюю плотность населения?
 - A
 - B
 - C
 - D



- На территории какого из перечисленных регионов России наиболее велика вероятность сильных землетрясений?
 - Республика Бурятия
 - Удмуртская республика
 - Новосибирская область
 - Ростовская область
- Расположите перечисленные ниже города в порядке увеличения в них численности населения.
 - Казань
 - Черкесск
 - Владивосток
- Буддизм исповедует большинство верующих:
 - чувашей и удмуртов
 - тувинцев и бурят
 - русских и мордвы
 - татар и калмыков
- В каком из высказываний содержится информация о миграциях населения?
 - В России насчитывается более 18 тыс. сельских населённых пунктов, а городов – более тысячи.
 - К началу 2000 г. численность лиц старше трудоспособного возраста в России впервые превысила численность детей и подростков до 16 лет.
 - За 90-е гг. XX в. отток населения из Дальневосточного региона превысил 840 тыс. человек (11% всех жителей).
 - Более 40% россиян проживают в Центральном и Южном федеральных округах, где плотность населения наибольшая и составляет соответственно 57 и 39 человек на 1 кв. км
- Используя данные графика, определите показатель миграционного прироста населения в России в 2009г.



- К традиционным занятиям какого из перечисленных народов России относится оленеводство и рыболовство?
 - башкиры
 - ненцы
 - чуваши
 - калмыки
- Каким из перечисленных полезных ископаемых наиболее богаты недра Центральной России?
 - алюминиевые руды
 - природный газ
 - каменный уголь
 - железные руды
- Примером нерационального природопользования является
 - рекультивация земель в районах добычи угля
 - использование природного газа вместо угля на ТЭС
 - захоронение токсичных отходов в густонаселённых районах
 - комплексное использование добываемого сырья
- В каком из перечисленных городов России функционирует крупный металлургический комбинат полного цикла?
 - Ставрополь
 - Тула
 - Краснодар
 - Магнитогорск

13. Туристические фирмы разных регионов России разработали слоганы для привлечения туристов в свои регионы. Установите соответствие между слоганом и регионом.

СЛОГАН

РЕГИОН

- А) Здесь можно увидеть дельту крупнейшей реки Русской равнины!
 Б) Мы предлагаем сплав по реке Катунь, которая берёт начало в ледниках высочайшей горы Сибири!

- 1) Астраханская область
 2) Краснодарский край
 3) Республика Алтай
 4) Самарская область

14. Расположите регионы России в той последовательности, в которой их жители встречают Новый год.

- а) Амурская область б) Омская область в) Курская область

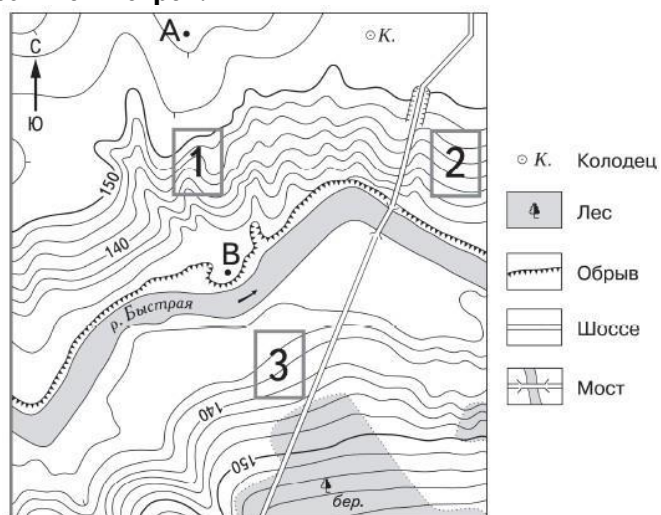
15. Какие ДВЕ особенности природно-ресурсной базы Республики Карелия способствовали размещению предприятия по производству ориентированно-стружечной плиты?

16. Картами какого экономического района России нужно воспользоваться для того, чтобы определить местоположение Республики Карелия?

- а) Уральского б) Северного в) Поволжского г) Северо-Западного

17. Определите, какой город имеет географические координаты 43° с.ш. 132° в.д.

18. Определите по карте расстояние на местности по прямой от точки А до колодца. Измерение проводите между точкой и центром соответствующего условного знака. Полученный результат округлите до десятков метров.



19. Определите по карте, в каком направлении от колодца находится точка В.

20. Установите соответствие

- 1) выезд населения за пределы страны
 2) передвижение населения внутри страны
 3) превышение смертности над рождаемостью
 4) слияние городов с пригородами

- а) агломерация
 б) естественная убыль населения
 в) эмиграция
 г) миграции

21. Определите регион России по его краткому описанию.

Этот автономный округ находится в азиатской части страны. Он омывается водами одного из морей Северного Ледовитого океана. На территории округа находится устье одной из наиболее протяжённых рек России. Большую часть территории округа занимает тундра. Основное природное богатство — природный газ.

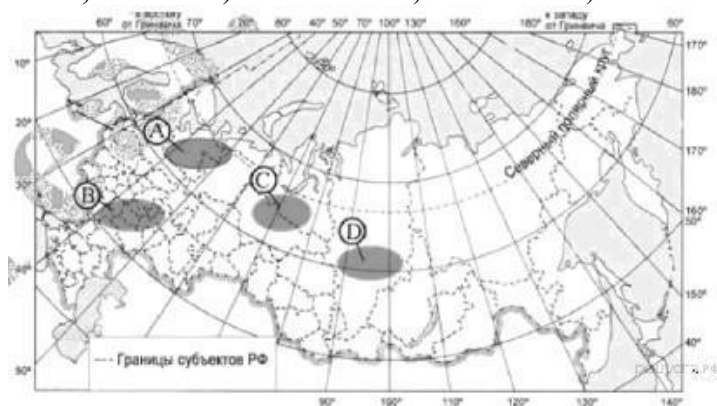
22. Определите экономический район по характеристике.

В нем находится самый крупный центр тяжелого машиностроения России; на территории района ведется добыча разнообразных руд, но добычи полиметаллических руд нет; в районе имеется АЭС и несколько крупных ГЭС, но основная часть электроэнергии производится на ТЭС.

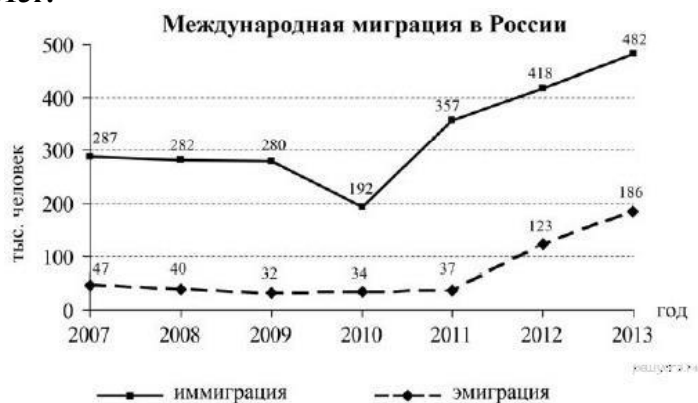
Контрольная работа по географии 9 класс Вариант 2

1. Самая южная точка территории России расположена на границе с

- а) Грузией б) Арменией в) Азербайджаном б) Турцией
2. Какие из перечисленных государств имеют сухопутную границу с Россией?
а) Эстония и Грузия б) Швеция и Армения в) Болгария и Молдавия г) Турция и Иран
3. Какая из территорий, обозначенных буквами на карте России, имеет наибольшую среднюю плотность населения?
а) А б) В в) С г) D



4. Глобальные изменения климата могут привести к таянию покровных ледников и повышению вследствие этого уровня Мирового океана. Какой из перечисленных городов России может в наибольшей степени пострадать в случае такого развития событий?
а) Кемерово б) Калининград в) Новосибирск г) Курск
5. Расположите перечисленные ниже города в порядке увеличения в них численности населения.
а) Екатеринбург б) Новокузнецк в) Сыктывкар
6. Большинство верующих каких из перечисленных народов исповедуют ислам?
а) тувинцы и калмыки б) удмурты и карелы в) башкиры и кабардинцы г) коми и хакасы
7. В каком из высказываний содержится информация о воспроизводстве населения?
а) В январе - октябре 2012 г. в России отмечалось увеличение числа родившихся (в 80 субъектах Российской Федерации) и снижение числа умерших (в 65 субъектах)
б) В 2011 г. удельный вес городского населения в общей численности населения Приволжского ФО составлял 71%, сельского - 29%.
в) Более четверти россиян (26%) проживает в Центральном федеральном округе, где средняя плотность составляет 57 человек на 1 км².
г) В 2011 г. в Республику Бурятия из других регионов России прибыло 8873 человека, выбыло из Республики Бурятия 13 636 человек.
8. Используя данные графика, определите показатель миграционного прироста населения в России в 2013г.



9. Традиционными занятиями какого из перечисленных народов являются оленеводство, рыболовство и промысел морского зверя?
а) карелы б) чукчи в) марийцы г) чуваша
10. Какие полезные ископаемые преобладают на Кольском полуострове:
а) апатиты б) каменный уголь в) алмазы г) золото
11. Уменьшению выбросов в атмосферу углекислого газа способствует
а) развитие ветровой и солнечной энергетики б) сокращение площади тропических лесов
в) ограничение дальнейшего развития атомной энергетики
г) перевод тепловых электростанций с природного газа на уголь
12. Какой из перечисленных регионов лидирует в России по добыче нефти, природного газа и каменного угля?
а) Поволжье б) Европейский Север в) Западная Сибирь г) Дальний Восток

13. Туристические фирмы разных регионов России разработали слоганы для привлечения туристов в свои регионы. Установите соответствие между слоганом и регионом.

СЛОГАН

РЕГИОН

- | | |
|--|----------------------------|
| А) Приглашаем вас провести отдых в самом западном регионе России! | 1) Республика Дагестан |
| Б) Дышите целебным горным воздухом на наших горноклиматических курортах! | 2) Республика Калмыкия |
| | 3) Калининградская область |
| | 4) Ленинградская область |

14. Расположите регионы России в той последовательности, в которой их жители встречают Новый год.

- а) Хабаровский край б) Ненецкий АО в) Красноярский край

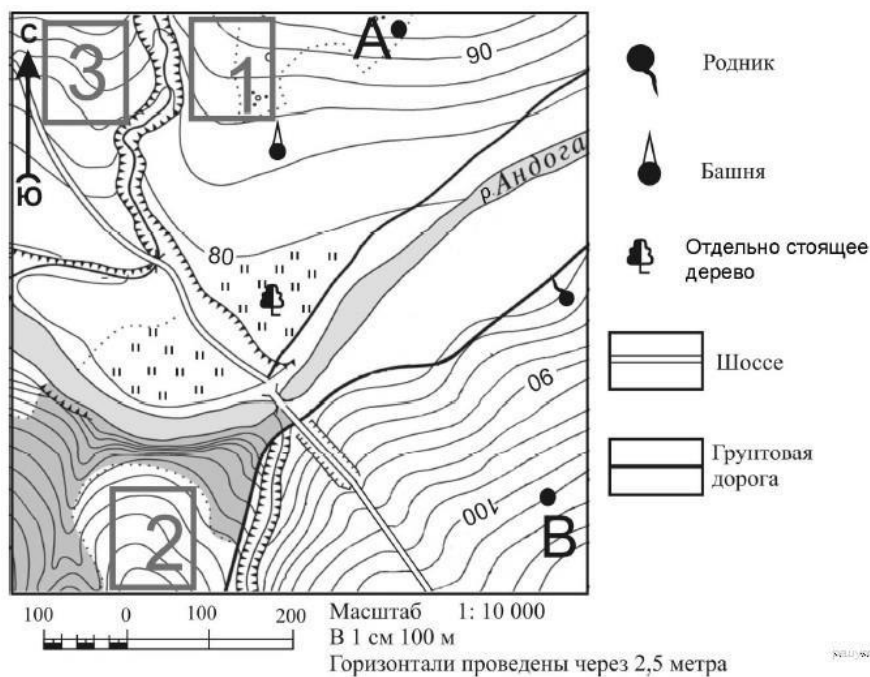
15. Какие ДВЕ особенности ЭГП г. Таганрога способствовала выбору этого города для создания автомобильного завода?

16. Картами какого экономического района России нужно воспользоваться для того, чтобы определить местоположение города Таганрога?

- а) Уральского б) Европейского Юга в) Поволжского г) Северо-Западного

17. Определите, у какой республики в составе РФ столица имеет географические координаты 56° с.ш. и 49° в.д.

18. Определите по карте расстояние на местности по прямой от отдельно стоящего дерева до точки А. Измерение проводите между центрами условных знаков. Полученный результат округлите до десятков метров.



19. Определите по карте, в каком направлении от отдельно стоящего дерева находится родник.

20. Установите соответствие

- | | |
|---|------------------|
| 1) выпуск предприятием определенного вида продукции | а) экспорт |
| 2) перевод предприятий оборонного комплекса на выпуск гражданской продукции | б) специализация |
| 3) производственные связи между предприятиями | в) конверсия |
| 4) вывоз товаров и услуг | г) |
- кооперирование

21. Определите регион России по его краткому описанию.

Этот край, находящийся в азиатской части страны, имеет приморское положение. Он граничит с самой большой по численности населения страной в мире. Административный центр расположен на берегу одной из самых протяженных рек России. Одной из ведущих отраслей хозяйства является лесная и деревообрабатывающая промышленность.

22. Определите экономический район по характеристике.

Этот экономический район имеет очень выгодное экономико-географическое положение благодаря реке, которая является его своеобразным стержнем. Река относится к бессточному бассейну.

Контрольная работа по географии 9 класс Вариант 3

1. Самая западная точка территории России расположена на границе с

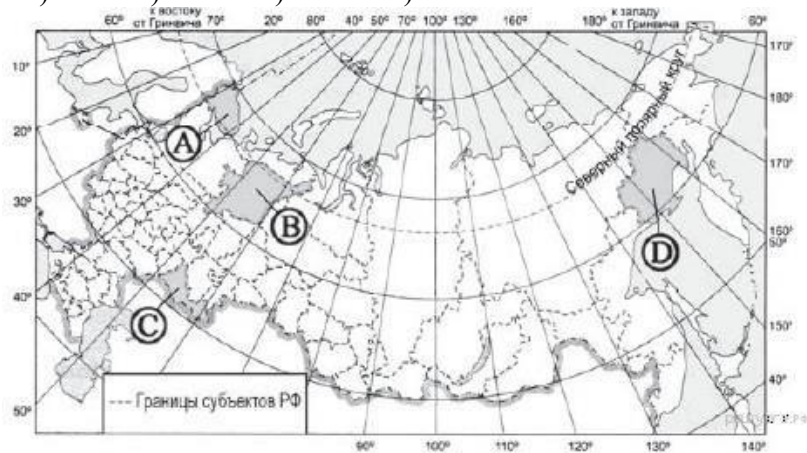
- а) Литвой б) Германией в) Польшей г) Латвией

2. С какой из перечисленных групп стран Россия не имеет сухопутной границы?

- а) Финляндия и Эстония б) Грузия и Азербайджан в) Армения и Турция г) Польша и Белоруссия

3. Какая из территорий имеет наибольшую среднюю плотность населения?

- а) А б) В в) С г) D



4. Для какого из перечисленных регионов характерны формы рельефа, созданные деятельностью ледника?

- а) Приморский край б) Республика Карелия в) Республика Башкортостан г) Астраханская область

5. Расположите перечисленные ниже города в порядке увеличения в них численности населения.

- а) Нижний Новгород б) Краснодар в) Нарьян-Мар

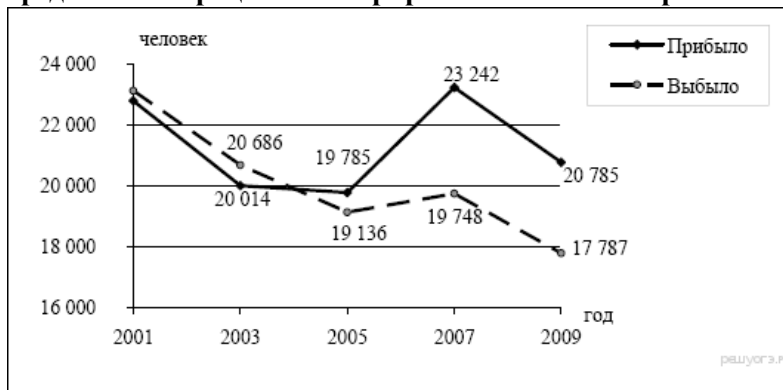
6. Большинство верующих каких из перечисленных народов исповедуют ислам?

- а) буряты и калмыки б) башкиры и карелы в) татары и ингуши г) коми и эвенки

7. В каком из высказываний содержится информация о миграции населения?

- а) тайга в Западной Сибири заселена редко, сёла в ней встречаются преимущественно вдоль речных долин
 б) в 2008 г. более половины всех прибывших из-за пределов России на постоянное место жительства в регионы Приволжского округа составляли выходцы из Узбекистана, Украины и Казахстана
 в) в Центральном федеральном округе средняя плотность населения наибольшая в России и составляет 57 человек на 1 кв. км
 г) наибольшая доля детей в возрастной структуре характерна для населения Дагестана и других республик Северного Кавказа

8. Определите миграционный прирост населения Тверской области в 2005 г.



9. К традиционным занятиям какого из перечисленных народов России относится резьба по кости морского зверя и рыболовство?

- а) татары б) чукчи в) буряты г) карачаевцы

10. Каким полезным ископаемым богата территория Республики Якутия :

- а) нефть б) никель в) алмазы г) торф

11. Примером рационального природопользования является

- а) распашка склонов на возвышенностях б) создание лесных полос в степной зоне
 в) захоронение токсичных отходов вблизи крупных городов г) осушение болот в верховьях малых рек

12. Какой из перечисленных городов является центром автомобилестроения?

- а) Рязань б) Ставрополь в) Тольятти г) Тула

13. Туристические фирмы разных регионов России разработали слоганы для привлечения туристов в свои регионы. Установите соответствие между слоганом и регионом.

СЛОГАН

РЕГИОН

- А) Побывайте в Западном полушарии!
 Б) Поднимитесь по склону высочайшей горы страны!

- 1) Чукотский автономный округ
 2) Калининградская область
 3) Кабардино-Балкарская Республика
 4) Ставропольский край

14. Расположите регионы России в той последовательности, в которой их жители встречают Новый год.

- а) Забайкальский край б) Брянская область в) Курганская область

15. Какие ДВЕ особенности природно-ресурсной базы и хозяйства города Кемерово обусловили его выбор для

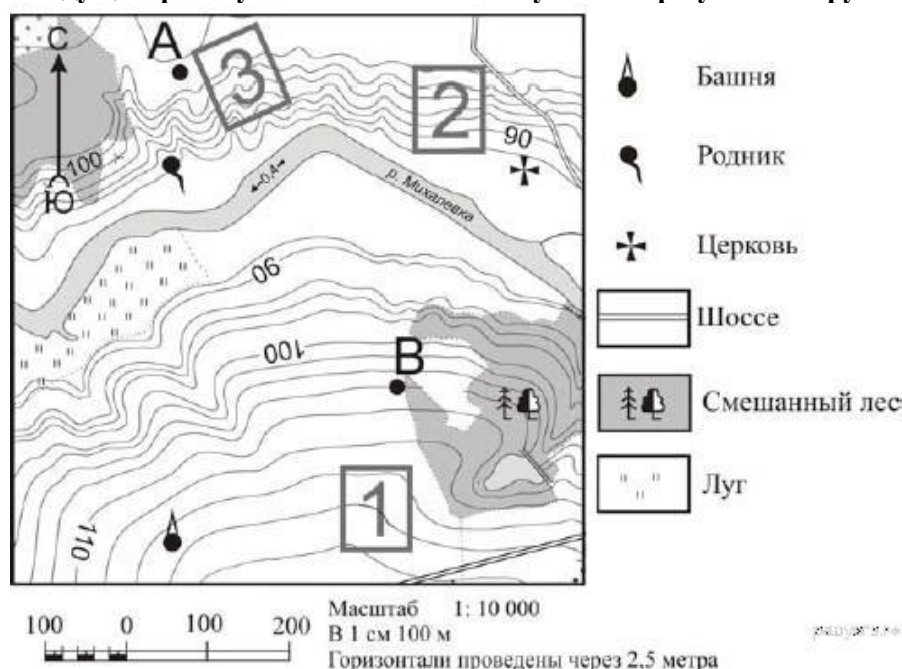
размещения здесь производства азотных удобрений?

16. Картами какого экономического района нужно воспользоваться для того, чтобы определить местоположение города Кемерово?

- а) Уральского б) Восточно- Сибирского в) Западно- Сибирского г) Поволжского

17. Определите, у какой республики в составе РФ столица имеет географические координаты 52° с.ш. и 108° в.д

18. Определите по карте расстояние на местности по прямой от родника до церкви. Измерение проводите между центрами условных знаков. Полученный результат округлите до десятков метров.



19. Определите по карте, в каком направлении от водонапорной башни находится родник.

20. Установите соответствие

- | | |
|--|----------------|
| 1) резкое снижение численности в стране | а) урбанизация |
| 2) выезд из страны | б) технополис |
| 3) рост городов, городского населения и городского образа жизни | в) депопуляция |
| 4) соединение научных центров с наукоемкими предприятиями промышленности | г) эмиграция |

21. Определите регион России по его краткому описанию.

Особенностью ЭГП этой области является наличие выхода к государственной границе Российской Федерации с тремя европейскими странами. Более трети территории области занимают леса, другой особенностью природы является обилие озёр. Полезными ископаемыми область небогата: имеются залежи торфа и строительных материалов. Основные отрасли промышленности — машиностроение, деревообрабатывающая, лёгкая и пищевая промышленность. В сельском хозяйстве преобладает молочное животноводство; растениеводство специализируется на производстве кормовых культур.

22. Определите экономический район по характеристике:

На востоке района находятся месторождения угля, нефти и газа, имеются крупные запасы лесных ресурсов; на юге района расположена область, которая славится производством масла и кружева, на северо-западе района находится незамерзающий порт.

Контрольная работа по географии 9 класс Вариант 4

1. Самая южная точка территории России расположена на границе с

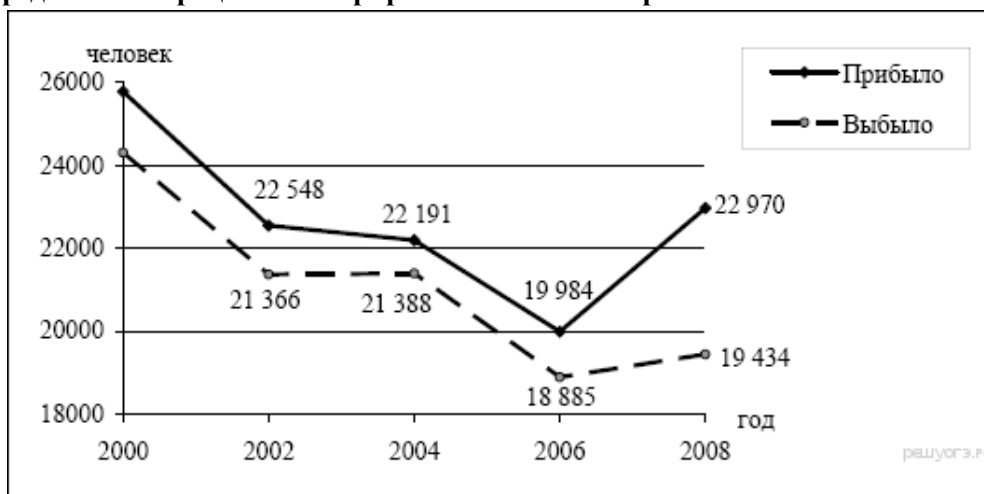
- а) Абхазией б) Южной Осетией в) Азербайджаном г) Ираном
2. С какой из перечисленных групп стран Россия имеет сухопутную границу?
а) Армения и Норвегия б) Грузия и Казахстан в) Турция и Иран г) Туркмения и Украина
3. Какой из регионов России имеет наибольшую среднюю плотность населения?
а) А б) Б в) В г) Г



4. МЧС России ежегодно готовит прогнозы сейсмической активности в сейсмоопасных районах страны. Для

жителей какого из районов Европейской части России такие прогнозы необходимы?

- а) Европейский Север б) Центральная Россия в) Северо-Запад г) Европейский Юг
5. Расположите перечисленные ниже города в порядке увеличения в них численности населения.
а) Новосибирск б) Норильск в) Биробиджан
6. Большинство верующих каких из перечисленных народов исповедуют православие?
а) буряты и чукчи б) башкиры и лезгины в) татары и евреи г) чуваша и осетины
7. В каком из высказываний содержится информация об урбанизации в России?
а) численность населения европейской части России с 30-х гг. прошлого века к настоящему времени выросла на 45%
б) большинство городов России расположено в главной полосе расселения
в) численность населения России в последние десять лет постепенно сокращается
г) в настоящее время в городских агломерациях сосредоточено уже более 50% городского населения России
8. Определите миграционный прирост населения Тверской области в 2008 г.



9. К традиционным занятиям какого из народов России относится пастбищное животноводство (овцеводство, коневодство и верблюдоводство)?
а) карелы б) марийцы в) коми г) калмыки
10. Какие полезные ископаемые преобладают в Западной Сибири:
а) нефть и газ б) графиты и асбест в) апатиты и фосфориты г) железные и медные руды
11. Примером рационального природопользования является
а) строительство ГЭС на равнинных реках б) осушение болот в верховьях малых рек
в) рекультивация земель в районах добычи угля г) распашка земель вдоль склонов
12. Какой из перечисленных городов России является крупным центром автомобилестроения?
а) Архангельск б) Тамбов в) Череповец г) Нижний Новгород
13. Туристические фирмы разных регионов России разработали слоганы для привлечения туристов в свои регионы. Установите соответствие между слоганом и регионом.

СЛОГАН

РЕГИОН

А) Добро пожаловать в «Янтарный край», самый западный регион России!

1) Кабардино-Балкарская

Б) Здесь можно любоваться горными ландшафтами: сверкающими голубизной ледниками, зеленеющими альпийскими лугами.

- Республика
 2) Калининградская область
 3) Архангельская область
 4) Чувашская Республика

14. Расположите регионы России в той последовательности, в которой их жители встречают Новый год.

- а) Республика Адыгея б) Свердловская область в) Магаданская область

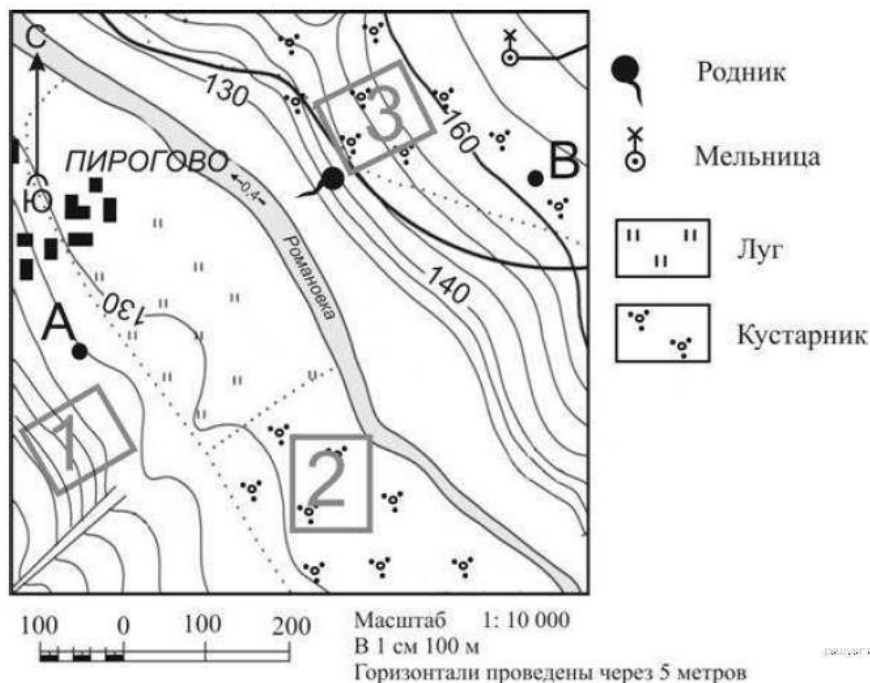
15. Какие ДВЕ особенности Волгоградской области обусловили выбор г. Волгограде строительство алюминиевого завода?

16. Картами какого экономического района нужно воспользоваться для того, чтобы определить местоположение Волгоградской области?

- А) Уральского б) Европейского Юга в) Центрально-Черноземного г) Поволжского

17. Определите, какой город имеет географические координаты 52° с.ш. и 46° в.д.

18. Определите по карте расстояние на местности по прямой от точки А до мельницы. Измерение проводите между точкой и центром условного знака. Полученный результат округлите до десятков метров.



19. Определите по карте, в каком направлении от родника находится мельница.

20. Установите соответствие

- | | |
|---|------------------|
| 1) вывоз товаров и услуг производства | а) отрасль |
| 2) въезд в страну | б) специализация |
| 3) совокупность предприятий, выпускающих однородную продукцию | в) иммиграция |
| 4) выпуск предприятием какого-либо продукта, отдельных частей | г) экспорт |

21. Определите регион России по его краткому описанию.

Большая часть территории этой области находится в зоне тайги. Особенностью её ЭГП является положение на основных транспортных магистралях, соединяющих европейскую часть страны и Западную Сибирь с дальневосточными районами России. Основу хозяйства составляют несколько крупных ГЭС, рядом с которыми построены крупные алюминиевые комбинаты и лесопромышленные комплексы.

22. Определите экономический район по характеристике:

Этот экономический район самый маленький по площади. Важнейшей отраслью специализации является машиностроение. Крупнейший город района - морской порт.

ОТВЕТЫ К ИТОГОВОЙ КОНТРОЛЬНОЙ РАБОТЕ 9 класс

№	баллы	Вариант 1	Вариант 2	Вариант 3	Вариант 4
1	1	б	в	в	в
2	1	а	а	в	б
3	1	в	б	в	в
4	1	а	б	б	г

5	1	БВА	ВБА	ВБА	ВБА
6	1	б	в	в	г
7	1	в	а	б	г
8	1	248	296	649	3536
9	1	б	б	б	г
10	1	г	а	в	а
11	1	в	а	б	в
12	1	г	в	в	г
13	1	13	31	13	21
14	1	АВВ	АВВ	АВВ	ВБА
15	2	1) наличие сырья- тайга 2) озера и реки- производство водоёмкое	1) потребитель 2) пересечение транспортных путей	1) потребитель 2) сырьё (на углях Кузнецкого угольного бассейна)	1) у ГЭС 2) потребитель
16	1	б	б	в	г
17	1	Владивосток	Татарстан	Бурятия	Саратов
18	1	240	400	460	690
19	1	юго- запад	восток	север	северо- восток
20	2	1в 2г 3б 4а	1б 2в 3г 4а	1в 2г 3а 4б	1г 2в 3а 4б
21	1	Ямало- Ненецкий АО	Хабаровский край	Псковская область	Иркутская область
22	1	Уральский	Поволжье	Северный	Северо- Западный

оценка	2	3	4	5
Тестовый балл	1-12	13-17	18-21	22-24
% выполнения	Менее 50	50-71	72-87	88-100